
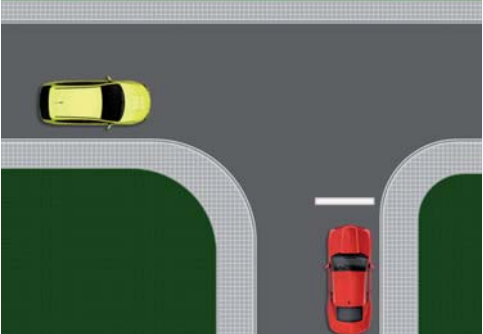



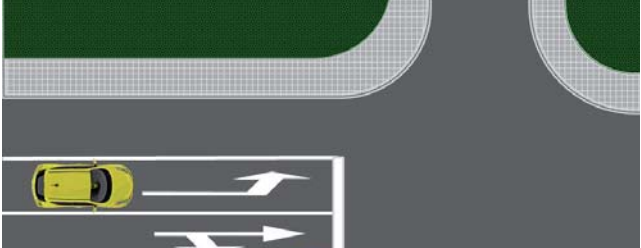




ПРАВИЛА САОБРАЋАЈА

1.	У случају да значење саобраћајне сигнализације одступа од правила саобраћаја возач је дужан да поступи у складу са:	<p>5. У случају када се значење саобраћајних знакова разликује од значења ознака на коловозу и тротоару возач је дужан да поступи по:</p> <p>а) правилу саобраћаја, којим се регулише првенство пролаза, ✓</p> <p>б) постављеном саобраћајном знаку, ✓</p> <p>в) постављеној ознаци на коловозу. 2</p>
2.	<p>У ситуацији приказаној на слици возач возила црвене боје ће поступати по:</p>  <p>а) правилу саобраћаја које регулише првенство пролаза,</p> <p>б) светлосном саобраћајном знаку, ✓</p> <p>в) саобраћајном знаку. 2</p>	<p>6. У ситуацији приказаној на слици поступање возача возила регулисано је:</p>  <p>а) правилу саобраћаја,</p> <p>б) постављеном ознаком на коловозу. ✓ 2</p>
3.	<p>У ситуацији приказаној на слици дужни сте да поступите по:</p>  <p>а) правилу саобраћаја које регулише првенство пролаза,</p> <p>б) светлосном саобраћајном знаку, ✓</p> <p>в) саобраћајном знаку. 2</p>	<p>7. У ситуацији приказаној на слици поступање возача возила на раскрсници регулисано је:</p>  <p>а) правилу саобраћаја, ✓</p> <p>б) постављеним саобраћајним знаком,</p> <p>в) постављеном ознаком на коловозу. 2</p>
4.	<p>У ситуацији приказаној на слици поступање возача возила:</p>  <p>а) регулисано је правилу саобраћаја којим се регулише првенство пролаза,</p> <p>б) није регулисано због непостојања саобраћајног знака,</p> <p>в) регулисано је постављеном ознаком на коловозу. ✓ 2</p>	<p>8. У ситуацији приказаној на слици поступање возача регулисано је:</p>  <p>а) постављеним саобраћајним знаком, ✓</p> <p>б) постављеном ознаком на коловозу. 2</p>





9. У ситуацији приказаној на слици скретање улево из саобраћајне траке означене стрелицом за скретање улево:



а) је дозвољено,
б) није дозвољено ✓

2

10. На раскрсници приказаној на слици поступање возача регулисано је:



а) постављеним саобраћајним знаком, ✓
б) правилом саобраћаја којим се регулише првенство пролаза,
в) постављеном ознаком на коловозу.

2

11. У случају када се значење светлосног саобраћајног знака разликује од значења саобраћајног знака возач је дужан да поступи по:

а) правилу саобраћаја којим се регулише првенство пролаза,
б) постављеном саобраћајном знаку, ✓
в) светлосном саобраћајном знаку.

2

12. У случају када се значење светлосног саобраћајног знака разликује од значења ознаке на коловозу возач је дужан да поступи по:

а) правилу саобраћаја којим се регулише првенство пролаза,
б) ознаци на коловозу,
в) светлосном саобраћајном знаку. ✓

2

13. У случају када се значење светлосног саобраћајног знака разликује од правила саобраћаја возач је дужан да поступи по:

а) правилу саобраћаја којим се регулише првенство пролаза,
б) светлосном саобраћајном знаку. ✓

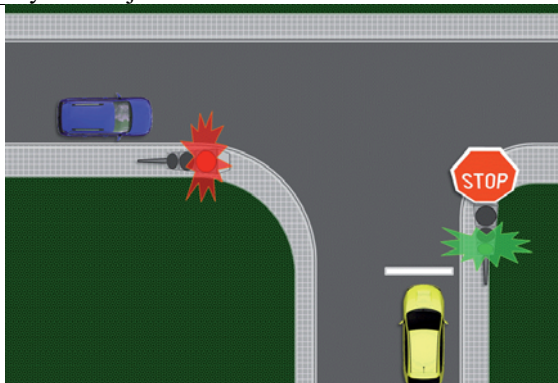
2

14. Међусобно првенство пролаза учесника у саобраћају, који на раскрсници светлосним саобраћајним знаковима истовремено добијају право пролаза, регулише се:

а) правилима саобраћаја, ✓
б) саобраћајним знаком,
в) ознакама на коловозу.

2

15. У ситуацији приказаној на слици поступање возача регулисано је:



а) постављеним саобраћајним знаком,
б) правилом саобраћаја којим се регулише првенство пролаза,
в) светлосним саобраћајним знаком. ✓

2


16. У ситуацији приказаној на слици поступање возача регулисано је:



а) постављеним саобраћајним знаком,
б) правилом саобраћаја којим се регулише првенство пролаза,
в) светлосним саобраћајним знаком. ✓

2

17. У ситуацији приказаној на слици поступање возача регулисано је:
(Заокружити два тачна одговора)



а) постављеним саобраћајним знаком,
б) постављеном допунском таблом,
в) правилом саобраћаја којим се регулише првенство пролаза, ✓
г) светлосним саобраћајним знаком. ✓

2



18. У ситуацији приказаној на слици поступање возача регулисано је:
(Заокружити два тачна одговора)



а) постављеним саобраћајним знаком,
б) правилом саобраћаја, којим се регулише првенство пролаза,
в) ознакама на коловозу,
г) светлосним саобраћајним знаком. ✓

2

19. У случају када знаци које даје овлашћено лице одступају од значења светлосног саобраћајног знака возач је дужан да поступи по:

а) правилу саобраћаја којим се регулише првенство пролаза,
б) светлосном саобраћајном знаку,
в) знацима овлашћеног лица. ✓

2

20. У случају када знаци које даје овлашћено лице одступају од значења саобраћајног знака возач је дужан да поступи по:

а) правилу саобраћаја којим се регулише првенство пролаза,
б) знацима овлашћеног лица, ✓
в) саобраћајном знаку.

2

21. У ситуацији приказаној на слици поступање возача регулисано је:



а) светлосним саобраћајним знаком,
б) правилом саобраћаја којим се регулише првенство пролаза,
в) знацима овлашћеног лица. ✓

2

22. У ситуацији приказаној на слици поступање возача регулисано је:



а) постављеним саобраћајним знаком,
б) знацима овлашћеног лица, ✓
в) правилом саобраћаја, којим се регулише првенство пролаза.

2


23. У ситуацији приказаној на слици поступање возача регулисано је:



а) ознаком на коловозу (линија заустављања),
б) знацима овлашћеног лица, ✓
в) правилом саобраћаја којим се регулише првенство пролаза.

2

24. У ситуацији приказаној на слици:



а) морате се зауставити испред линије заустављања,
б) не морате стати испред линије заустављања, јер Вам је знаком овлашћеног лица дозвољен пролаз, ✓
в) поступићете по правилу саобраћаја којим се регулише првенство пролаза, јер је знак овлашћеног лица у супротности са значењем линије заустављања.

2

© Забрањено је коришћење, односно повремено или стално умножавање базе података испитних питања или њених делова, било којим средствима и у било којој форми, у **комерцијалне сврхе**

25.	Возач је дужан да возило држи на таквом одстојању и растојању од других возила, односно учесника у саобраћају тако да: (Заокружити два тачна одговора)	
	а) не изазива опасност, ✓ б) растојање не буде мање од 1 m и одстојање мање од 5 m, в) не омета друге учеснике у саобраћају, ✓ г) растојање не буде мање од 0,5 m и одстојање мање од 20 m.	2

26.	Предмет односно материју која се налази на путу и која потиче са возила којим возач управља, возач је дужан да:	
	а) без одлагања уклони са пута, ✓ б) настави даље кретање, јер би заустављањем ометао друге учеснике у саобраћају, в) настави даље кретање и обавести полицију или предузеће које се стара о одражавању пута.	2

27.	Возач који наиђе на предмет или препреку на путу које угрожавају безбедност саобраћаја и које може да уклони:	
	а) није дужан да уклони, јер не потичу са његовог возила, б) дужан је да уклони са пута, ✓ в) није дужан да уклони, али мора да обавести полицију или предузеће које се стара о одржавању пута.	2

28.	Возач који наиђе на предмет или препреку на путу које угрожавају безбедност саобраћаја које није у могућности да уклони:	
	а) мора да се заустави и сачека да препрека буде уклоњена, б) може наставити даље кретање, јер не потичу са његовог возила, в) може наставити даље кретање, али мора да обавести полицију или предузеће које се стара о одражавању пута. ✓	2


29.	Возач је дужан да обрати пажњу на пешаке који: (Заокружити два тачна одговора)	
	а) се налазе на коловозу, ✓ б) се налазе крећу тротоаром, в) се крећу пешачком стазом, г) ступају на коловоз или исказују намеру да ће ступити на коловоз. ✓	2

30.	Када прилази пешачком прелазу, возач:	
	а) мора увек да заустави возило непосредно испред пешачког прелазу, б) мора да прилагоди брзину возила, тако да може безбедно да заустави возило испред пешачког прелазу, у ситуацији коју може да предвиди, ✓ в) може да настави кретање истом брзином, када утврди да је уочен од стране пешака и да су они прилагодили кретање да би пропустили возило.	2


31.	Возач је дужан да обрати посебну пажњу на пешаке означене бројем: (Заокружити два тачна одговора)	
		
	а) 1 – који се креће преко коловоза, ✓ б) 2 – који се креће дуж коловоза, ✓ в) 3 – који се креће тротоаром дуж коловоза, г) 4 – који је прешао преко пешачког прелазу и ступио на тротоар.	2

32.	На делу пута на коме су постављени саобраћајни знакови о учешћу деце у саобраћају, возач:	
	а) може да настави кретање истом брзином, када утврди да је уочен од стране деце и да су она прилагодила кретање да би пропустила возило, б) је дужан да вози са нарочитом опрезношћу, тако дужан да може благовремено да заустави возило, ✓ в) је дужан да се креће брзином до 30 km/h.	2

33.	Возач возила који обилази аутобус заустављен на стајалишту:	
	а) дужан је да заустави возило, на путу са по једном саобраћајном траком по смеру, док путници излазе или улазе у возило, б) мора да управља возилом тако да не угрожава лице које у аутобус улази или излази, ✓ в) обилажење може извршити уколико се креће брзином кретања пешака.	2

34.	У ситуацији приказаној на слици:	
		
	а) настављате кретање возила с обзиром да се путници који улазе, односно излазе из аутобуса крећу непрописно по коловозу, б) дужни сте да прилагодите брзину возила, тако да можете безбедно да зауставите возило, како не би угрозили лица која улазе, односно излазе из аутобуса, ✓ в) дужни сте да зауставите возило док лица улазе, односно излазе из аутобуса.	2

35.	Када лица која улазе, односно излазе из трамваја заустављеног на стајалишту, морају да пређу преко саобраћајне траке, возач возила који се креће том саобраћајном траком иза трамваја:	2
	<ul style="list-style-type: none"> а) мора да се заустави иза трамваја, док лица улазе, односно излазе, ✓ б) обилажење може извршити уколико се креће брзином кретања пешака, в) може да настави кретање без заустављања, када утврди да је уочен од стране лица која улазе, односно излазе из трамваја, односно када се увери да су та лица прилагодила кретање да би пропустила возило. 	

36.	У ситуацији приказаној на слици возач возила:	2
		
	<ul style="list-style-type: none"> а) мора да се заустави иза трамваја, док лица улазе, односно излазе, ✓ б) обилажење може извршити уколико се креће брзином кретања пешака, в) може да настави кретање без заустављања, када утврди да је уочен од стране лица која улазе, односно излазе из трамваја, односно када се увери да су та лица прилагодила кретање да би пропустила возило. 	

37.	Када је на путу са по једном саобраћајном траком по смеру, заустављено возило за организован превоз деце, ради њиховог уласка или изласка, возачи осталих возила који се крећу тим путем:	2
	<ul style="list-style-type: none"> а) могу да наставе кретање возила уколико пролазак поред тог возила могу извршити без угрожавања других учесника у саобраћају, б) дужни су да прилагоде брзину возила, тако да могу безбедно да зауставе возило, како не би угрозили децу која улазе, односно излазе из возила, в) дужни су да се зауставе док деца улазе, односно излазе из возила. ✓ 	

38.	У ситуацији приказаној на слици возачи возила:	2
		
	<ul style="list-style-type: none"> а) могу да наставе кретање возила уколико пролазак поред аутобуса могу извршити без угрожавања других учесника у саобраћају, б) дужни су да прилагоде брзину возила, тако да могу безбедно да зауставе возило, како не би угрозили децу која улазе, односно излазе из аутобуса, в) дужни су да се зауставе док деца улазе, односно излазе из аутобуса. ✓ 	

39.	У ситуацији приказаној на слици:	2
		
	<ul style="list-style-type: none"> а) возач возила који долази иза аутобуса мора да се заустави док деца улазе, односно излазе из аутобуса, а возач возила из супротног смера може да настави кретање, б) возач возила из супротног смера може да настави кретање, а возач возила који долази иза аутобуса може обићи аутобус када пропусти возило из супротног смера, в) возачи оба возила дужни су да се зауставе док деца улазе, односно излазе из аутобуса. ✓ 	

40.	У ситуацији приказаној на слици:	2
		
	<ul style="list-style-type: none"> а) морате се зауставити док деца улазе, односно излазе из аутобуса, ✓ б) можете да наставите кретање уколико обилажење аутобуса можете извршити без угрожавања других учесника у саобраћају, в) дужни сте да прилагодите брзину возила, тако да можете безбедно да зауставите возило, како не би угрозили децу која улазе, односно излазе из аутобуса. 	

41.	У ситуацији приказаној на слици, возач белог путничког возила које наилази из супротног смера:	2
		
	<ul style="list-style-type: none"> а) мора да се заустави док деца улазе, односно излазе из аутобуса, ✓ б) може да настави кретање уколико пролазак поред аутобуса може извршити без угрожавања других учесника у саобраћају, в) дужан је да прилагоди брзину возила, тако да може безбедно да заустави возило, како не би угрозио децу која улазе, односно излазе из аутобуса. 	

42.	Возач возила за организован превоз деце које је заустављено ради њиховог уласка, односно изласка, мора:	2
	<ul style="list-style-type: none"> B а) укључити све показиваче правца, ✓ D б) укључити десни показивач правца, в) поставити сигурносни троугао на прописан начин. 	

43. Знак приказан на слици означава:



а) место у чијој се близини налази школа и пешачки прелаз које деца често користе,
 б) близину дела пута на коме се деца чешће и у већем броју крећу (близина школе, обданишта, игралишта и сл.),
 в) возило којим се врши организовани превоз деце. ✓

2

44. Знак за обележавање возила којим се врши организовани превоз деце је означен бројем:



1



2



3



4

а) 1, ✓
 б) 2,
 в) 3,
 г) 4.

2

45. Возач возила које се креће на путу у насељу саобраћајном траком, у коју се аутобус прописно укључује у саобраћај са стајалишта:

а) дужан је да аутобусу омогући укључивање у саобраћај, ✓
 б) дужан је да се увек заустави, док се аутобус не укључи у саобраћај,
 в) може непромењеном брзином наставити кретање јер има првенство пролаза у односу на сва возила која се укључују у саобраћај.

2

46. За време вожње возач може користити телефон:

а) уколико употребљава опрему која омогућава телефонирање без ангажовања руку, ✓
 б) при чему је једна рука на точку управљача, а другом руком употребљава телефон,
 в) без употребе опреме која омогућава телефонирање без ангажовања руку, само у случају обавештавања полиције, односно управљача пута, о постојању препреке на путу.

2

47. У ситуацији приказаној на слици:



а) дужни сте да се увек зауставите, док се аутобус не укључи у саобраћај,
 б) можете непромењеном брзином наставити кретање јер имате првенство пролаза у односу на сва возила која се укључују у саобраћај,
 в) дужни сте да смањите брзину и по потреби да се зауставите, ради омогућавања укључивања аутобуса у саобраћај са стајалишта. ✓

2

48. Уређај, односно средство, којим се може откривати или ометати рад уређаја за мерење брзине кретања возила:

а) може се користити на деоници пута на којој не постоји саобраћајни знак који означава деоницу на којој се врши контрола брзине кретања возила,
 б) не сме се користити, нити налазити у возилу у саобраћају на путу, ✓
 в) може се налазити у возилу, али се не сме користити у саобраћају на путу.

2

49. Постављање средстава или материја којима се омета или онемогућава читавање регистарске ознаке непосредним опажањем или помоћу уређаја намењених за откривање и документовање прекршаја, је:

а) дозвољено,
 б) дозвољено, само за возила са посебном дозволом,
 в) забрањено. ✓

2

50. Уграђене сигурносне појасеве у возилу:
(Заокружити три тачна одговора)

В а) не мора користити лице коме сигурносни појас може проузроковати здравствене проблеме због специфичне физичке конституције,
С б) мора користити возач, ✓
Д в) мора користити путник на предњем седишту, ✓
 г) не мора користити путник на задњем седишту,
 д) мора користити путник на задњем седишту, ✓
 е) не мора користити возач јавног превоза путника.

2

51. Возач и путници морају користити уграђене сигурносне појасеве у возилу:

В а) увек када је возило у саобраћају на путу, ✓
С б) само када је возило у саобраћају на путу ван насеља,
Д в) само када је возило у саобраћају на путу у насељу,
 г) само при брзинама већим од 50 km/h.

2

© Забрањено је коришћење, односно повремено или стално умножавање базе података испитних питања или њених делова, било којим средствима и у било којој форми, у **комерцијалне сврхе**

52.	Безбедна подешеност наслона за главу подразумева да: (<i>Заокружити два тачна одговора</i>)	
B	а) <u>горња ивица наслона буде по могућности у висини темена главе, а не ниже од висине очију,</u>	✓
C	б) <u>горња ивица наслона буде по могућности у висини потиљка,</u>	✓
D	в) <u>он буде што ближе потиљачном делу главе,</u>	✓
	г) он налаже на врат.	
		2

53.	Сигурносни појасеви се употребљавају у циљу: (<i>Заокружити два тачна одговора</i>)	
B	а) <u>спречавања избацивања лица из возила, при саобраћајним незгодама,</u>	✓
C	б) лакшег управљања возилом,	
D	в) <u>спречавања повреде при налетању на унутрашње делове возила,</u>	✓
	г) удобније вожње.	
		2

54.	На седиштима за које је уграђен ваздушни јастук:	
B	а) није обавезно коришћење сигурносног појаса, јер јастук омогућује потребну заштиту,	
C	б) <u>некоришћење сигурносног појаса може изазвати повреде приликом активирања јастука,</u>	✓
D	в) <u>некоришћење сигурносног појаса не може изазвати повреде приликом активирања јастука.</u>	✓
		2

55.	Безбедно коришћење сигурносног појаса подразумева: (<i>Заокружити три тачна одговора</i>)	
B	а) <u>усправан положај леђног наслона седишта, што омогућава да леђа у потпуности налажу на наслон,</u>	✓
C	б) да трака појаса може бити уврнута,	
D	в) <u>да појасеви не смеју налегати на чврсте предмете (телефон, кључеви, хемијске оловке и сл.),</u>	✓
	г) <u>да трака појаса не сме бити уврнута,</u>	✓
	д) оборен положај леђног наслона седишта, што омогућава да леђа налажу на наслон доњим делом,	
	е) било који положај леђног наслона седишта који возач сматра погодним.	
		2

56.	Светлоодбојни прслук се мора налазити у: (<i>Заокружити два тачна одговора</i>)	
B	а) теретном возилу,	✓
C	б) тешком четвороциклу,	✓
	в) лаком четвороциклу,	
	г) путничком возилу.	✓
		2

57.	Светлоодбојни прслук се мора налазити у: (<i>Заокружити три тачна одговора</i>)	
B	а) теретном возилу,	✓
C	б) аутобусу,	✓
D	в) тешком четвороциклу,	✓
	г) лаком четвороциклу,	
	д) тешком трициклу,	✓
	е) путничком возилу.	✓
		2

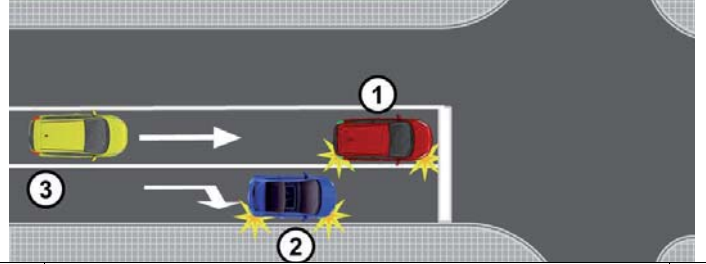
58.	У моторном возилу на предњем седишту не сме да се превози: (<i>Заокружити два тачна одговора</i>)	
B	а) дете млађе од 12 година,	✓
C	б) лице старије од 70 година,	✓
D	в) дете млађе од 14 година,	✓
	г) лице које је под утицајем алкохола.	✓
		2

59.	У моторном возилу на предњем седишту може да се превози дете: (<i>Заокружити два тачна одговора</i>)	
B	а) млађе од 12 година, уколико се превози у безбедносном седишту које је окренуто у смеру кретања возила,	
C	б) старије од 12 година,	✓
D	в) старије од 8 година, уколико се превози у безбедносном седишту које је окренуто у смеру кретања возила, ако је искључен безбедносни ваздушни јастук,	✓
	г) до 3 године, уколико се превози у безбедносном седишту - корпи, која је окренута супротно смеру кретања возила, када возило нема или је искључен безбедносни ваздушни јастук.	✓
		2

60.	У моторном возилу на предњем седишту дете до три године може да се превози у безбедносном седишту – корпи, која је:	
B	а) окренута у смеру кретања возила, уколико није искључен безбедносни ваздушни јастук,	
C	б) окренута супротно смеру кретања возила, када возило нема или је искључен безбедносни ваздушни јастук,	✓
D	в) окренута у смеру кретања возила, када возило нема или је искључен безбедносни ваздушни јастук.	✓
		2

61.	Када се у возилу без безбедносног седишта – корпе превози дете старије од три године:	
B	а) не мора се користити сигурносни појас уколико је обезбеђено да дете буде смештено на средини задњег реда седишта,	
C	б) не мора се користити сигурносни појас уколико је дете смештено у крилу одраслог лица,	
D	в) мора бити обезбеђено да дете користи сигурносни појас на безбедан начин.	✓
		2

62.	Возач сме нагло да мења начин вожње:	
	а) само у случају избегавања непосредне опасности,	✓
	б) у случају да није благовремено заузео положај возилом на коловозу за извршење одређене радње,	
	в) само при извођењу радњи које подразумевају обавезно укључивање показивача правца.	✓
		2

63.	У ситуацији приказаној на слици возач возила означеног бројем 1:	
		
	а) може нагло скренути удесно јер је укључио показивач правца,	
	б) не сме скренути удесно,	✓
	в) може нагло смањити брзину ради пропуштања возила означеног бројем 2 и након тога скренути удесно.	✓
		2



64. У ситуацији приказаној на слици возач црвеног возила:



- а) може нагло скренути удесно јер је укључио показивач правца,
- б) не сме скренути удесно, ✓
- в) може нагло смањити брзину ради пропуштања сивог возила и након тога скренути удесно.

2

65. У ситуацији приказаној на слици возачу црног возила:



- а) нагло смањивање брзине и скретање удесно је дозвољено, јер постоји простор за извођење жељене радње,
- б) није дозвољено нагло мењање начина вођења, ✓
- в) нагло смањивање брзине је дозвољено, а да би скренуо удесно мора се уверити да радњу може извршити на безбедан начин.

2

66. Возач који намерава да изврши радњу возилом у саобраћају сме:

- а) да отпочне такву радњу само ако се уверио да то може да учини на безбедан начин и дао прописан знак показивачем правца, ✓
- б) увек да отпочне такву радњу уколико се уверио да је та радња у складу са саобраћајном сигнализацијом,
- в) увек да отпочне такву радњу, ако је дао прописан знак показивачем правца.

2

67. У ситуацији приказаној на слици возач жутог возила се укључује у саобраћај:



- а) на прописан начин јер је дао десни показивач правца,
- б) на непрописан начин јер се пре укључивања десног показивача правца није уверио да то може извршити на безбедан начин, ✓
- в) на прописан начин јер сте дужни да пропустите возило које се са паркинг места укључује у саобраћај.

2

68. Након уверавања да сме да отпочне жељену радњу возач:

- а) може одмах започети извођење те радње, без давања знака показивачем правца, јер се уверио да радњу може извршити на безбедан начин,
- б) мора друге учеснике у саобраћају јасно и благовремено да обавести о томе, дајући им знак показивачем правца, ✓
- в) може одмах започети извођење те радње, а знак показивачем правца ће дати истовремено са започињањем те радње.

2

69. Возач који показивачем правца даје прописани знак при извођењу радње мора давати знак:

- а) само на почетку извођења радње,
- б) само док се не увери да су други учесници у саобраћају схватили његову намеру,
- в) за све време вршења радње возилом, а по извршењу радњи мора престати са давањем тог знака. ✓

2

70. Ради извођења жељене радње у саобраћају возач:

- а) мора прво дати знак показивачем правца и затим се уверити да може да отпочне вршење радње,
- б) се мора прво уверити да може да отпочне вршење радње и затим дати знак показивачем правца, ✓
- в) даје знак показивачем правца док се уверава да може да отпочне вршење радње.

2

71. У ситуацији приказаној на слици возач црвеног возила када се укључује у саобраћај мора:



- а) прво дати знак левим показивачем правца и затим се уверити да може да се укључи у саобраћај,
- б) се прво уверити да се може укључити у саобраћај и затим дати знак левим показивачем правца, ✓
- в) давати знак левим показивачем правца док се уверава да може да се укључи у саобраћај,
- г) се прво уверити да се може укључити у саобраћај и затим дати знак десним показивачем правца.

2


72. У условима недовољне прегледности, возач је дужан да безбедно укључење у саобраћај изведе:

- а) постепеним померањем возила, у циљу уочавања његовог возила од осталих учесника у саобраћају и заузимањем положаја тела на седишту који му омогућава потребну прегледност,
- б) уз помоћ лица које се налази на погодном месту ван возила и које му даје одговарајуће знакове, ✓
- в) уз помоћ лица које се налази у возилу и има бољу прегледност.

2



73. У ситуацији приказаној на слици, возилу за ауто такси превоз путника које се са паркинг места укључује у саобраћај:




а) нисте дужни да омогућите укључивање, али ћете то учинити с обзиром да сте на време уочили његову намеру, јер ћете на тај начин избећи настанак опасне ситуације уколико возач настави започету радњу, ✓

б) дужни сте да омогућите укључивање, јер морате пропустити возило које је започело радњу укључивања у саобраћај, ?

в) дужни сте да омогућите укључивање возила, јер се ради о возилу за јавни превоз путника. 2

76. У ситуацији приказаној на слици возач мопеда, односно мотоцикла, који се укључује у саобраћај из гараже на непрегледном месту, дужан је да:




а) постепено помера возило, у циљу уочавања његовог возила од осталих учесника у саобраћају и да заузме положај тела на седишту који му омогућава потребну прегледност,

б) то изведе уз помоћ лица које се налази на погодном месту ван возила и које му даје одговарајуће знакове, ✓

в) се у саобраћај укључи на неком другом погодном месту, где ће имати довољну прегледност. 2

74. У ситуацији приказаној на слици, као возач возила које је заустављено на путу, да би се безбедно укључили у саобраћај, обавезни сте да:




а) укључите леви показивач правца и укључите се у саобраћај,

б) укључите леви показивач правца, омогућите да вас обиђе возило које сте уочили у возачким огледалима и укључите се у саобраћај,

в) сачекате да вас возило које се креће иза вас обиђе, укључите леви показивач правца и укључите се у саобраћај. ✓ 2

77. У ситуацији приказаној на слици:




а) из дворишта у саобраћај морате се укључити уз помоћ лица које ће Вас са погодног места ван возила обавестити о тренутку када се могу безбедно укључити,

б) из дворишта у саобраћај можете се укључити уз помоћ саобраћајног огледала јер Вам оно обезбеђује потребну прегледност за безбедно укључење, ✓

в) безбедно укључивање из дворишта у саобраћај мора Вам обезбедити лице које се налази у возилу и има бољу прегледност. 2

75. У ситуацији приказаној на слици возач, који се укључује у саобраћај из гараже на непрегледном месту, дужан је да:



а) постепено помера возило, у циљу уочавања његовог возила од осталих учесника у саобраћају и да заузме положај тела на седишту који му омогућава потребну прегледност,

б) то изведе уз помоћ лица које се налази на погодном месту ван возила и које му даје одговарајуће знакове, ✓

в) то изведе уз помоћ лица које се налази у возилу и има бољу прегледност. 2

78. У ситуацији приказаној на слици, као кандидат за возача, крећете се на:



а) прописан начин, с обзиром да користите десну страну коловоза у смеру кретања,

б) непрописан начин, с обзиром да се крећете саобраћајном површином која није намењена за саобраћај возила којим управљате, ✓

в) прописан начин, јер управљате возилом за оспособљавање кандидата за возача. 2

79. У саобраћају на путу возило се креће:

а) десном страном коловоза у смеру кретања, ✓
 б) левом страном коловоза у смеру кретања,
 в) средином коловоза, јер на тај начин не угрожава пешаке и бициклисте.

2


80. У ситуацији приказаној на слици правилно се креће возило означено бројем:



а) 1, јер се креће уз ивичну линију, ✓
 б) 2, јер се креће уз разделну линију,
 в) 1 и 2, јер се крећу десном саобраћајном траком у смеру кретања.

2

81. У ситуацији приказаној на слици правилно се креће возило означено бројем:



а) 1, ✓ б) 2, в) 1 и 2.

2

82. У ситуацији приказаној на слици, на путу ван насеља, правилно се креће возило означено бројем:



а) 1, ✓ б) 2, в) 1 и 2.

2

83. На путу у насељу са најмање две саобраћајне траке за исти смер, возач:

а) може да се креће возилом саобраћајном траком која се не налази уз десну ивицу коловоза, ако тиме не омета возила која се крећу иза његовог возила, ✓
 б) не сме да се креће возилом саобраћајном траком која се не налази уз десну ивицу коловоза,
 в) може да се креће возилом саобраћајном траком која се не налази уз десну ивицу коловоза само када врши претицање.

2


84. У ситуацији приказаној на слици, на путу у насељу, правилно се креће возило означено бројем:



а) 1, б) 2, в) 1 и 2. ✓

2

85. У ситуацији приказаној на слици, на путу у насељу, возач возила које се креће испред Вас и спречава Ваше брже кретање:



а) дужан је да Вас пропусти променом саобраћајне траке, ✓
 б) није дужан да мења саобраћајну траку, јер га можете претећи са десне стране,
 в) није дужан да мења саобраћајну траку, уколико се креће највећом дозвољеном брзином на том делу пута.

2

86. На путу у насељу са најмање две саобраћајне траке за исти смер, возач теретног возила чија је највећа дозвољена маса 2.500 kg:

В а) може да се креће возилом саобраћајном траком која се не налази уз десну ивицу коловоза, ако тиме не омета возила која се крећу иза његовог возила, ✓
С б) не сме да се креће возилом саобраћајном траком која се не налази уз десну ивицу коловоза,
 в) може да се креће возилом саобраћајном траком која се не налази уз десну ивицу коловоза само када врши претицање.

2

87. У ситуацији приказаној на слици, на путу са физички одвојеним коловозним тракама, правилно се креће:



F а) мотокултиватор,
 б) трактор чија је највећа конструктивна брзина 45 km/h, ✓
 в) оба возила.

2



88.	Возач је дужан да се по путу креће:	
	а) што ближе разделној линији,	
	б) што ближе десној ивици коловоза, ✓	
	в) средином коловозне траке	2

89.	На путу у насељу са најмање две саобраћајне траке за исти смер, возач теретног возила чија је највећа дозвољена маса 5.500 kg:	
C	а) може да се креће саобраћајном траком која се не налази уз десну ивицу коловоза, само на делу пута испред раскрснице или другог места на коме возило скреће улево, односно када врши претицање или обилажење, ✓	
	б) може да се креће саобраћајном траком која се не налази уз десну ивицу коловоза, ако његово возило може да развије брзину већу од 40 km/h и ако не омета возила која се крећу иза његовог возила,	
	в) може да се креће саобраћајном траком која се не налази уз десну ивицу коловоза, ако тиме не омета возила која се крећу иза његовог возила.	2

90.	На путу у насељу са најмање две саобраћајне траке за исти смер, возач возила чија је највећа конструктивна брзина 45 km/h:	
	а) не сме да се креће саобраћајном траком која се не налази уз десну ивицу коловоза,	
	б) може да се креће саобраћајном траком која се не налази уз десну ивицу коловоза, ако тиме не омета возила која се крећу иза његовог возила, ✓	
	в) може да се креће саобраћајном траком која се не налази уз десну ивицу коловоза само када врши претицање.	2

91.	На путу у насељу са најмање две саобраћајне траке за исти смер, возач возила чија је највећа конструктивна брзина 25 km/h:	
	а) може да се креће возилом саобраћајном траком која се не налази уз десну ивицу коловоза, само на делу пута испред раскрснице или другог места на коме возило скреће улево, односно када врши претицање или обилажење, ✓	
	б) може да се креће возилом саобраћајном траком која се не налази уз десну ивицу коловоза, ако тиме не омета возила која се крећу иза његовог возила,	
	в) може да се креће возилом саобраћајном траком која се не налази уз десну ивицу коловоза, ако не омета возила која се крећу иза његовог возила и ако је највећа дозвољена маса његовог возила мања од 3.500 kg.	2

92.	На путу у насељу са најмање две саобраћајне траке за исти смер, возач аутобуса највеће дозвољене масе 4.000 kg:	
D	а) може да се креће возилом саобраћајном траком која се не налази уз десну ивицу коловоза, ако тиме не омета возила која се крећу иза његовог возила, ✓	
	б) не сме да се креће возилом саобраћајном траком која се не налази уз десну ивицу коловоза,	
	в) може да се креће возилом саобраћајном траком која се не налази уз десну ивицу коловоза само када врши претицање.	2

93.	У ситуацији приказаној на слици, на путу у насељу са физички одвојеним коловозним тракама, правилно се креће:	
		
	а) теретно возило (скут возила),	
	б) путничко возило, ✓	
	в) оба возила.	2

94.	У случају застоја саобраћаја на путу где су коловозне траке физички одвојене, возачи чија возила се не налазе у крајњој левој саобраћајној траци дужни су да:	
	а) возилом заузму положај уз десну ивицу саобраћајне траке, ✓	
	б) возилом заузму положај уз леву ивицу саобраћајне траке,	
	в) возило оставе у положај у ком се затекло у тренутку застоја,	
	г) возилом заузму положај по средини саобраћајне траке.	2

95.	У случају застоја саобраћаја на путу где су коловозне траке физички одвојене, возачи чија возила се налазе у крајњој левој саобраћајној траци дужни су да:	
	а) возилом заузму положај уз десну ивицу саобраћајне траке,	
	б) возило оставе у положај у ком се затекло у тренутку застоја,	
	в) возилом заузму положај по средини саобраћајне траке,	
	г) возилом заузму положај уз леву ивицу саобраћајне траке. ✓	2

96.	У случају застоја саобраћаја на путу са физичким одвојеним коловозним тракама, возачи су увек дужни да заузимањем положаја уз десну, односно леву ивицу саобраћајне траке, оставе слободан простор намењен да у случају потребе омогуће пролаз:	
	а) возила која врше јавни превоз путника,	
	б) возила чија ширина омогућава кретање возила тим простором	
	в) возила под пратњом и возила са правом првенства пролаза. ✓	2

97.	На путу за саобраћај возила у оба смера са најмање четири саобраћајне траке, возач:	
	а) сме да се креће, односно прелази на коловозну траку намењену за саобраћај возила из супротног смера, у случају претицања или обилажења,	
	б) не сме да се креће, односно прелази на коловозну траку намењену за саобраћај возила из супротног смера, ✓	
	в) сме да се креће, односно прелази на коловозну траку намењену за саобраћај возила из супротног смера, у случају застоја.	2



98. У ситуацији приказаној на слици (застој саобраћаја), у случају потребе да се омогући пролаз возила под пратњом и возила са правом првенства пролаза, прописан положај су заузела возила означена бројем: *(Заокружити два тачна одговора)*



- а) 1, б) 2, ✓ в) 3, г) 4, д) 5. ✓ 2

99. У ситуацији приказаној на слици крећете се на:



- а) прописан начин, б) непрописан начин, ✓ в) прописан начин, само док вршите претицање. 2

100. На путу за саобраћај возила у оба смера са три саобраћајне траке, возач:

- а) сме да се креће саобраћајном траком која се налази уз леву ивицу пута у правцу кретања возила, у случају претицања или обилажења, б) не сме да се креће саобраћајном траком која се налази уз леву ивицу пута у правцу кретања возила, ✓ в) сме да се креће саобраћајном траком која се налази уз леву ивицу пута у правцу кретања возила, у случају застоја. 2

101. У ситуацији приказаној на слици крећете се на:



- а) прописан начин, б) непрописан начин, ✓ в) прописан начин, само док вршите претицање. 2

102. На путу за саобраћај у оба смера, са физички одвојеним коловозним тракама возач:

- а) сме возилом да се креће коловозном траком намењеном за саобраћај возила из супротног смера, у случају претицања или обилажења, б) не сме возилом да се креће коловозном траком намењеном за саобраћај возила из супротног смера, ✓ в) сме возилом да се креће коловозном траком намењеном за саобраћај возила из супротног смера, у случају застоја. 2

103. У ситуацији приказаној на слици крећете се на:



- а) прописан начин, само док вршите претицање, б) прописан начин, ✓ в) непрописан начин. 2

104. На путу за саобраћај возила у једном смеру, возач:

- а) сме да се креће у смеру супротном од дозвољеног, у случају да нема возила из супротног смера, б) сме да се креће у смеру супротном од дозвољеног, у случају да постоје најмање две саобраћајне траке у том смеру, в) не сме да се креће у смеру супротном од дозвољеног. ✓ 2

105. Возило на слици креће се:



- а) на прописан начин, б) на прописан начин, уколико возач возила станује у том делу улице, ✓ в) на непрописан начин. 2

106. На путу са више саобраћајних трака за кретање у истом смеру, возач који се креће слободном саобраћајном траком поред саобраћајне траке у којој је онемогућен саобраћај:

- а) дужан је да омогући укључивање свих возила у траку којом се он креће, б) дужан је да омогући укључивање једног возила у траку којом се он креће, ✓ в) има првенство пролаза у односу на возила из саобраћајне траке у којој је онемогућен саобраћај. 2



107. У ситуацији приказаној на слици:



- а) дужни сте да омогућите укључивање једног возила у траку којом се крећете, ✓
- б) дужни сте да омогућите укључивање свих возила у траку којом се крећете,
- в) имате првенство пролаза у односу на возила из саобраћајне траке у којој је онемогућен саобраћај.

2

108. У ситуацији приказаној на слици:



- а) дужни сте да омогућите укључивање једног возила у саобраћајну траку којом се крећете,
- б) дужни сте да омогућите укључивање оба возила у саобраћајну траку којом се крећете, јер су започела извођење те радње,
- в) нисте дужни да омогућите укључивање возила у саобраћајну траку којом се крећете, али ће те то омогућити с обзиром да сте на време учили њихову намеру и на тај начин избећи настанак опасне ситуације уколико та возила наставе започету радњу. ✓

2

109. У ситуацији приказаној на слици, када је крајњом десном саобраћајном траком онемогућен саобраћај:



- а) дужни сте да омогућите укључивање једног возила у саобраћајну траку којом се крећете, ✓
- б) дужни сте да омогућите укључивање оба возила у саобраћајну траку којом се крећете,
- в) нисте дужни да омогућите укључивање возила у траку којом се крећете.

2

110. Возач сме нагло да успори возило:

- а) у случају да није благовремено заузео положај возилом на коловозу за извршење одређене радње,
- б) да би брзину кретања возила ускладио са брзином која је означена на постављеном саобраћајном знаку,
- в) само у случају избегавања непосредне опасности. ✓

2

111. У ситуацији приказаној на слици:



- а) можете нагло да успорите возило, ради избегавања непосредне опасности, ✓
- б) не смете нагло да успорите возило,
- в) не смете нагло да успори возило, већ ће саобраћајну незгоду избећи променом правца кретања возила.

2

112. У ситуацији приказаној на слици, приликом приближавања раскрсници:



- а) морате нагло успорити возило,
- б) успоравање возила извршићете на начин којим нећете угрозити, односно ометати возача возила које се креће иза Вас, ✓
- в) не морате мењати брзину кретања возила.

2

113. У ситуацији приказаној на слици, трамвајском баштицом се прописно креће возило означено бројем:



- а) 1, ✓
- б) 1 и 2,
- в) 2 и 3.

2



114. Поступање возача возила који Вам долази у сусрет саобраћајном траком којом се крећете, представља:



а) непрописно поступање, које није у грубој супротности са правилима саобраћаја, с обзиром да претицање може извести без угрожавања других учесника у саобраћају,
 б) непрописно поступање које је у грубој супротности са правилима саобраћаја (насилничка возња), ✓
 в) прописано поступање. ✓

2

118. У ситуацији приказаној на слици возач путничког возила:



а) дужан је да пропусти возило које се креће са његове десне стране, ✓
 б) има првенство пролаза у односу на возило које се креће са његове десне стране,
 в) дужан је да скретање изврши из саобраћајне траке која је уз десну ивицу коловоза, након пропуштања возила које се креће том траком.

2

115. Ваше поступање у ситуацији приказаној на слици представља:



а) непрописно поступање, које није у грубој супротности са правилима саобраћаја,
 б) непрописно поступање које је у грубој супротности са правилима саобраћаја (насилничка возња), ✓
 в) прописано поступање.

2

119. У ситуацији приказаној на слици предност има:



а) возач возила означеног бројем 1,
 б) возач возила означеног бројем 2, ✓
 в) возач возила које се налази у колони у којој се возила крећу мањом брзином.

2

116. На раскрсници или у сусрету са другим возилом, возач је:

а) дужан да пропусти возило које долази са његове леве стране,
 б) дужан да пропусти возило које долази са његове десне стране, ✓
 в) дужан да пропусти сва возила за јавни превоз путника без обзира са које му стране долазе.

2

120. У ситуацији приказаној на слици, где свако од возила на раскрсници има првенство пролаза у односу на возило које му долази са леве стране, поступање којим ћете омогућити безбедан пролазак кроз раскрсницу је да:

117. У ситуацији приказаној на слици предност има:



а) возач возила означеног бројем 1,
 б) возач возила означеног бројем 2, ✓
 в) возач возила које се налази у колони са мањом брзином кретања.

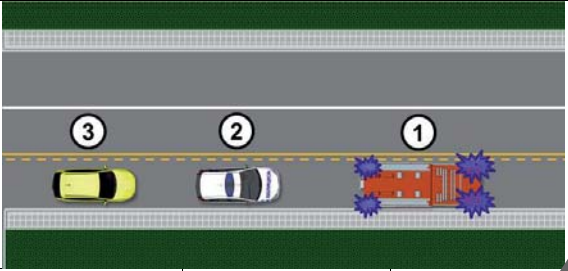
2



а) покажете одлучност и први прођете кроз раскрсницу,
 б) визуелним контактом и давањем одговарајућег знака руком захтевате од возача трактора да Вам омогући пролазак кроз раскрсницу с обзиром да имате предност у односу на путничко возило,
 в) визуелним контактом и давањем одговарајућег знака руком омогућите пролаз возачу црвеног возила које има предност у односу на бело возило и пропустите трактор. ✓

2

121. У ситуацији приказаној на слици прописно се креће возило означено бројем:



а) 1 и 2, б) 2 и 3, в) 1. ✓

2

126. Возач возила који на путу са једносмерним саобраћајем скреће улево дужан је да скретање изврши:

а) крећући се крајњом левом саобраћајном траком која се протеже уз леву ивицу пута, ако саобраћајном сигнализацијом није друкчије одређено, ✓
 б) крећући се било којом саобраћајном траком, при чему мора пропустити возила која се крећу саобраћајном траком уз леву ивицу пута,
 в) крећући се саобраћајном траком која му омогућава најлакше извођење радње скретања.

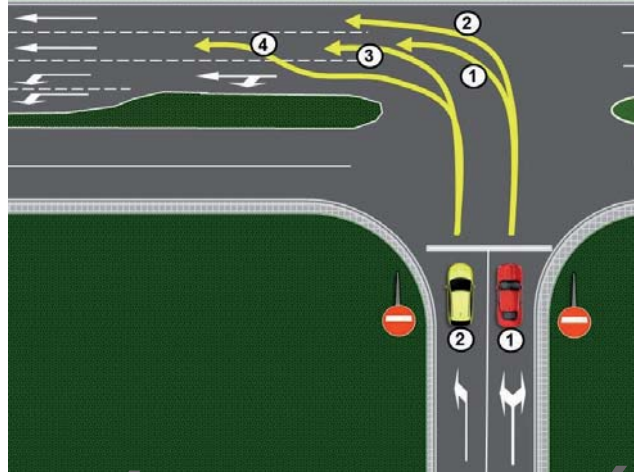
2

122. Возач возила који скреће удесно дужан је да скретање изврши:

а) крећући се било којом саобраћајном траком, при чему мора пропустити возила која се крећу саобраћајном траком која се протеже уз десну ивицу коловоза,
 б) крећући се крајњом саобраћајном траком која се протеже уз десну ивицу коловоза, ако саобраћајном сигнализацијом није другачије одређено, ✓
 в) крећући се саобраћајном траком која му омогућава најлакше извођење радње скретања.

2

127. Возила која након скретања улево настављају кретање право, у ситуацији приказаној на слици, прописно се крећу путањом означеном бројем: (Заокружити два тачна одговора)



а) 1, ✓ б) 2, в) 3, г) 4. ✓

2

123. У ситуацији приказаној на слици скретање удесно је дозвољено из саобраћајне траке означене бројем:



а) 1, ✓ б) 2, в) 1 и 2.

2

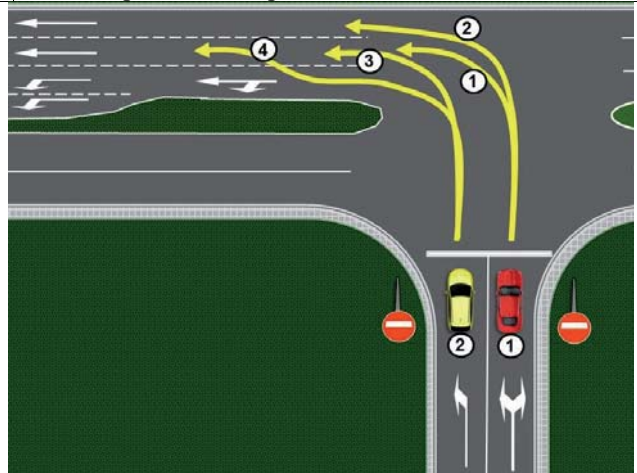
124. У ситуацији приказаној на слици скретање удесно је дозвољено из саобраћајне траке означене бројем:



а) 1, б) 2, в) 1 и 2. ✓

2

128. Возило означено бројем 2 које након скретања улево наставља кретање право, у ситуацији приказаној на слици, прописно се креће:



а) путањом означеном бројем 3,
 б) путањом означеном бројем 4, ✓
 в) било којом путањом.

2

125. Возач возила који скреће улево дужан је да скретање изврши:

а) крећући се крајњом левом саобраћајном траком која се протеже уз разделну линију, ако саобраћајном сигнализацијом није друкчије одређено, ✓
 б) крећући се било којом саобраћајном траком, при чему мора пропустити возила која се крећу саобраћајном траком која се протеже уз разделну линију,
 в) крећући се саобраћајном траком која му омогућава најлакше извођење радње скретања.

2

129. Возило означено бројем 1, у ситуацији приказаној на слици, прописно се креће:

а) путањом означеном бројем 1, ✓
 б) путањом означеном бројем 2,
 в) било којом путањом.

2

132. У ситуацији приказаној на слици скретање улево је дозвољено из саобраћајне траке означене бројем:

а) 1, б) 2, в) 1 и 2. ✓

2

130. У ситуацији приказаној на слици, настављате кретање кроз раскрсницу на прописан начин путањом означеном бројем:

а) 1 и 2, б) 1, ✓ в) 2.

2

133. У ситуацији приказаној на слици скретање улево је дозвољено из саобраћајне траке означене бројем:

а) 1, ✓ б) 2, в) 1 и 2.

2

131. У ситуацији приказаној на слици скретање улево је дозвољено из саобраћајне траке означене бројем:

а) 1, б) 2, ✓ в) 1 и 2.

2

134. У ситуацији приказаној на слици скретање улево је дозвољено из саобраћајне траке означене бројем:

а) 1, б) 2, в) 1 и 2. ✓

2

135. Возач возила које скреће удесно:

а) има првенство пролаза у односу на возило које се креће са његове десне стране, саобраћајном траком за возила јавног превоза путника,
 б) дужан је да пропусти возило које се креће са његове десне стране, саобраћајном траком за возила јавног превоза путника, ✓
 в) дужан је да скретање изврши из саобраћајне траке за возила јавног превоза путника, након пропуштања возила која се крећу том траком.

2

136. У ситуацији приказаној на слици, када на раскрсници скрећете удесно:



а) дужни сте да пропустите возило које се креће са Ваше десне стране, а скретање удесно извршите из саобраћајне траке којом се крећете,
 б) имате првенство пролаза у односу на возило које се креће са Ваше десне стране,
 в) дужни сте да скретање извршите из саобраћајне траке која је уз десну ивицу коловоза, након пропуштања возила које се креће том траком ако његова удаљеност и брзина то захтевају. ✓

2

137. Кретање возилом уназад дозвољено је искључиво на кратком делу пута:

а) оном страном коловоза којом се до тада возило кретало унапред ако се тиме не угрожавају нити ометају други учесници у саобраћају, ✓
 б) при чему се возило мора кретати супротном страном коловоза у односу на дотадашње кретање, ако се тиме не угрожавају нити ометају други учесници у саобраћају,
 в) било којом страном коловоза, ако се тиме не угрожавају нити ометају други учесници у саобраћају.

2

138. У ситуацији приказаној на слици возило се прописно креће уназад путањом:



а) 1, ✓ б) 2, в) 1 и 2.

2

139. Кретање возила уназад на непрегледном делу пута:

а) је дозвољено оном страном коловоза којом се до тада возило кретало унапред, ако се тиме не угрожавају нити ометају други учесници у саобраћају,
 б) није дозвољено, ✓
 в) је дозвољено било којом страном коловоза, ако се тиме не угрожавају нити ометају други учесници у саобраћају.

2

140. У ситуацији приказаној на слици кретање возила уназад:



а) је дозвољено било којом страном коловоза, ако се тиме не угрожавају нити ометају други учесници у саобраћају,
 б) није дозвољено, ✓
 в) је дозвољено, оном страном коловоза којом се до тада возило кретало унапред ако се тиме не угрожавају нити ометају други учесници у саобраћају.

2

141. Кретање возила уназад при смањеној видљивости:

а) је дозвољено оном страном коловоза којом се до тада возило кретало унапред ако се тиме не угрожавају нити ометају други учесници у саобраћају,
 б) није дозвољено, ✓
 в) је дозвољено било којом страном коловоза, ако се тиме не угрожавају нити ометају други учесници у саобраћају.

2

142. У ситуацији приказаној на слици кретање возила уназад:



а) је дозвољено било којом страном коловоза, ако се тиме не угрожавају нити ометају други учесници у саобраћају,
 б) је дозвољено, оном страном коловоза којом се до тада возило кретало унапред ако се тиме не угрожавају нити ометају други учесници у саобраћају,
 в) није дозвољено. ✓

2

143. Кретање возила уназад у тунелу:

а) није дозвољено, ✓
 б) дозвољено је оном страном коловоза којом се до тада возило кретало унапред ако се тиме не угрожавају нити ометају други учесници у саобраћају,
 в) дозвољено је било којом страном коловоза, ако се тиме не угрожавају нити ометају други учесници у саобраћају.

2

144. У ситуацији приказаној на слици кретање возила уназад:



а) није дозвољено, ✓
б) је дозвољено. 2

148. У ситуацији приказаној на слици кретање возила уназад:




а) није дозвољено,
б) дозвољено је путањом број 1, ако се тиме не угрожавају нити ометају други учесници у саобраћају, ✓
в) дозвољено је путањом број 2, ако се тиме не угрожавају нити ометају други учесници у саобраћају. 2

145. Кретање возила уназад на делу пута где је забрањено заустављање:

а) није дозвољено, ✓
б) дозвољено је оном страном коловоза којом се до тада возило кретало унапред ако се тиме не угрожавају нити ометају други учесници у саобраћају,
в) дозвољено је било којом страном коловоза, ако се тиме не угрожавају нити ометају други учесници у саобраћају.

149. У ситуацији приказаној на слици кретање возила уназад:



а) није дозвољено, ✓
б) дозвољено је путањом број 1, ако се тиме не угрожавају нити ометају други учесници у саобраћају,
в) дозвољено је путањом број 2, ако се тиме не угрожавају нити ометају други учесници у саобраћају. 2

146. У ситуацији приказаној на слици кретање возила уназад:



а) је дозвољено било којом страном коловоза, ако се тиме не угрожавају нити ометају други учесници у саобраћају,
б) је дозвољено, оном страном коловоза којом се до тада возило кретало унапред ако се тиме не угрожавају нити ометају други учесници у саобраћају,
в) није дозвољено. ✓ 2

150. У ситуацији приказаној на слици кретање возила уназад:



а) није дозвољено,
б) дозвољено је путањом број 1, ако се тиме не угрожавају нити ометају други учесници у саобраћају, ✓
в) дозвољено је путањом број 2, ако се тиме не угрожавају нити ометају други учесници у саобраћају. 2

147. У ситуацији приказаној на слици кретање возила уназад:



а) није дозвољено, ✓
б) је дозвољено. 2

151. У ситуацији приказаној на слици кретање возила уназад:



а) није дозвољено, ✓
 б) дозвољено је путањом број 1, ако се тиме не угрожавају нити ометају други учесници у саобраћају,
 в) дозвољено је путањом број 2, ако се тиме не угрожавају нити ометају други учесници у саобраћају.

2

152. У ситуацији приказаној на слици кретање возила уназад:



а) није дозвољено, ✓
 б) је дозвољено.

2

153. Кретање возила уназад на прелазу преко железничке пруге:

а) дозвољено је оном страном коловоза којом се до тада возило кретало унапред, ако се тиме не угрожавају нити ометају други учесници у саобраћају,
 б) није дозвољено, ✓
 в) дозвољено је било којом страном коловоза, ако се тиме не угрожавају нити ометају други учесници у саобраћају.

2

154. У ситуацији приказаној на слици кретање возила уназад:



а) није дозвољено, ✓
 б) дозвољено је путањом број 1, ако се тиме не угрожавају нити ометају други учесници у саобраћају,
 в) дозвољено је путањом број 2, ако се тиме не угрожавају нити ометају други учесници у саобраћају.

2

155. Возач не сме да врши полукружно окретање возила: (Заокружити два тачна одговора)

а) у тунелу, ✓
 б) у раскрсници, ✓
 в) на мосту, вијадукту, ✓
 г) на путу ван насеља

2

156. Возач не сме да врши полукружно окретање возила: (Заокружити три тачна одговора)

а) у подвожњаку и на надвожњаку, ✓
 б) на путу у насељу
 в) у условима смањене видљивости, односно на месту где је недовољна прегледност, ✓
 г) на делу пута који нема довољну ширину за полукружно окретање тог возила, ✓
 д) у раскрсници која је регулисана светлосним саобраћајним знацима,
 е) на раскрсници пута са првенством пролаза са споредним путем.

2

157. У ситуацији приказаној на слици:



а) дозвољено је извршити полукружно окретање,
 б) није дозвољено извршити полукружно окретање, ✓
 в) дозвољено је извршити полукружно окретање, пошто пропустите возила из супротног смера.

2

158. У ситуацији приказаној на слици:



а) дозвољено је извршити полукружно окретање, ✓
 б) није дозвољено извршити полукружно окретање, јер је то у супротности са ознаком на коловозу,
 в) није дозвољено извршити полукружно окретање, јер је то у супротности са постављеним саобраћајним знаком.

2



159. У ситуацији приказаној на слици извођење радње полукружно окретање:



- а) Вам је дозвољено,
б) није Вам дозвољено. ✓

2

162. На мосту, у ситуацији приказаној на слици:



- а) дозвољено је вршити полукружно окретање, када пропустите возила која Вам долазе у сусрет,
б) није дозвољено вршити полукружно окретање, ✓
в) дозвољено је вршити полукружно окретање, уколико може бити изведено без маневрисања.

2

160. Возачу скупа возила, у ситуацији приказаној на слици:



- а) дозвољено је полукружно окретање са маневрисањем,
б) није дозвољено полукружно окретање јер се мора извести са маневрисањем, односно уз кретање возила уназад, ✓
в) дозвољено је полукружно окретање са маневрисањем, само ако се налази на путу са првенством пролаза.

2

163. У ситуацији приказаној на слици:



- а) није дозвољено вршити полукружно окретање, ✓
б) дозвољено је вршити полукружно окретање, када пропустите возила која Вам долазе у сусрет,
в) дозвољено је вршити полукружно окретање, уколико може бити изведено без маневрисања.

2

161. У ситуацији приказаној на слици:



- а) дозвољено је вршити полукружно окретање, када пропустите возила која Вам долазе у сусрет,
б) дозвољено је вршити полукружно окретање, уколико може бити изведено без маневрисања, ✓
в) није дозвољено вршити полукружно кретање. ✓

2

164. У ситуацији приказаној на слици:



- а) дозвољено је вршити полукружно окретање, уколико може бити изведено без маневрисања,
б) дозвољено је вршити полукружно окретање, када пропустите возила која Вам долазе у сусрет,
в) није дозвољено вршити полукружно окретање. ✓

2



165. У ситуацији приказаној на слици, на путу који није аутопут ни мотопут, полукружно окретање:



а) није дозвољено,
 б) је дозвољено, ✓
 в) је дозвољено само ако се може вршити без маневрисања.

2

166. На подвожњаку, у ситуацији приказаној на слици:



а) дозвољено је вршити полукружно окретање, када пропустите возила која Вам долазе у сусрет,
 б) дозвољено је вршити полукружно окретање, уколико може бити изведено без маневрисања,
 в) није дозвољено вршити полукружно окретање. ✓

2

167. У ситуацији приказаној на слици (теретно возило врши полукружно окретање):



а) дозвољено је вршити полукружно окретање, када пропустите возила која Вам долазе у сусрет,
 б) није дозвољено вршити полукружно окретање,
 в) дозвољено је вршити полукружно окретање, уколико може бити изведено без маневрисања.

2

168. Приликом мимоилажења са возилом возач је дужан да: *(Заокружити два тачна одговора)*

а) са своје леве стране остави довољно растојање између свог возила и возила са којим се мимоилази, ✓
 б) са своје леве стране остави најмање 0,5 m растојања између свог возила и разделне линије,
 в) по потреби возило помери ка десној ивици коловоза, ✓
 г) са своје леве стране остави најмање 1 m растојања између свог возила и возила са којим се мимоилази.

2

169. При мимоилажењу са пешаком, возач је дужан да:

а) остави најмање 1 m растојања између свог возила и пешака са којим се мимоилази,
 б) звучним знаком упозорења обавести пешака о свом присуству како би се пешак померио на безбедно растојање,
 в) држи безбедно растојање између возила и пешака. ✓


2

170. Уколико због препреке на путу, која се налази у саобраћајној траци којом се возило креће, возач не може да остави довољно растојање између свог возила и возила са којим се мимоилази, дужан је: *(Заокружити два тачна одговора)*

а) да успори кретање свог возила, да би пропустио возила из супротног смера, ✓
 б) настави кретање обилажењем препреке, јер има првенство пролаза у односу на возила из супротног смера,
 в) да по потреби заустави возило, да би пропустио возила из супротног смера, ✓
 г) да се заустави и пропусти само једно возило које му долази у сусрет.

2

171. У ситуацији приказаној на слици:



а) дужни сте да успорите кретање свог возила и да га, по потреби, зауставите да би пропустили само прво возило из супротног смера,
 б) дужни сте да успорите кретање свог возила и да га, по потреби, зауставите да би пропустили возила из супротног смера, ✓
 в) наставићете кретање обилажењем препреке, јер имате првенство пролаза у односу на возила из супротног смера.

2



172. У ситуацији приказаној на слици, возач возила које Вам долази у сусрет дужан је да:



- а) остави са десне стране свог возила најмање 0,5 m растојања до паркираних возила,
- б) возило помери ка десној ивици коловоза и остави са своје леве стране довољно растојање између свог и Вашег возила ✓
- в) остави са своје леве стране најмање 1 m растојања између свог и вашег возила.

2

173. У ситуацији приказаној на слици:



- а) успорићете и оставићете са своје леве стране довољно растојање између свог возила и возила са којим се мимоилазите, а по потреби и зауставити возило да би пропустили возило које вам долази у сусрет, ✓
- б) оставићете са своје десне стране најмање 0,5 m растојања између свог возила и ивице коловоза,
- в) возило ћете померити ка десној ивици коловоза, и по потреби се делимично кретати по тротоару.

2

174. У ситуацији приказаној на слици, безбедно поступање је да:



- а) успорите кретање свог возила и да га, по потреби, зауставите и пропустите возило које Вам долази у сусрет, ✓
- б) наставите кретање јер имате предност у односу на возача возила које Вам долази у сусрет, а возач другог возила је дужан да кретањем уназад или на други начин, помери своје возило и заузме на путу положај који омогућава мимоилажење, ?
- в) наставите кретање и коришћењем потребне површине тротоара омогућите мимоилажење.

2

175. У ситуацији приказаној на слици:



- а) дужни сте да успорите кретање свог возила и да га, по потреби, зауставите и пропустите возило које Вам долази у сусрет,
- б) имате предност у односу на возило које Вам долази у сусрет, ✓
- в) дужни сте да успорите кретање свог возила и да га, по потреби, зауставите да би пропустили само прво возило из супротног смера.

2

176. Уколико је због недовољне ширине пута мимоилажење онемогућено:

(Заокружити два тачна одговора)

- а) дужан је да се заустави возач коме је то, с обзиром на карактеристике и стање пута и саобраћајну ситуацију, лакше да изведе, ✓
- б) дужан је да се заустави возач који са десне стране нема банку или тротоар чија површина би омогућила кретање ради мимоилажења,
- в) возач којем је то, с обзиром на карактеристике и стање пута и саобраћајну ситуацију, лакше да изведе, дужан је да по потреби, кретањем уназад или на други начин, помери своје возило и заузме на путу положај који омогућава мимоилажење, ✓
- г) возила могу наставити кретање уколико ширина банке или тротоара омогућава њихово мимоилажење.

2

177. Када на раскрсници возила долазе из супротних смерова и скрећу улево, мимоилажење возила из супротних смерова се врши са:

- а) леве стране,
- б) било које стране, у зависности од саобраћајне ситуације у раскрсници,
- в) десне стране. ✓

2

178. У ситуацији приказаној на слици мимоилажење ће се извршити са:



- а) десне стране, ✓
- б) било које стране, у зависности од саобраћајне ситуације у раскрсници,
- в) леве стране.

2





179.	На делу пута који је саобраћајним знаком означен као опасан успон, односно као опасна низбрдица, на коме је мимоилажење возила немогуће или је веома отежано:	2
	<p>а) возач возила које се креће уз нагиб дужан је да заустави своје возило на погодном месту ако примети да му друго возило иде у сусрет низ нагиб,</p> <p>б) возач возила које се креће низ нагиб дужан је да заустави своје возило на погодном месту ако примети да му друго возило иде у сусрет уз нагиб, ✓</p> <p>в) возила могу наставити кретање уколико ширина банке или тротоара омогућава њихово мимоилажење.</p>	

180.	На делу пута који је саобраћајним знаком означен као опасан успон, односно као опасна низбрдица, на коме је мимоилажење возила немогуће или је веома отежано:	2
	<p>а) возач возила које се креће уз нагиб дужан је да заустави своје возило ако испред себе има погодна места за заустављање, које омогућава безбедно мимоилажење, ✓</p> <p>б) возач возила које се креће уз нагиб нема обавезу заустављања без обзира на постојање места за његово заустављање, јер је возач возила које се креће низ нагиб дужан да омогући мимоилажење,</p> <p>в) возила могу наставити кретање коришћењем површине банке или тротоара, које омогућавају њихово мимоилажење.</p>	

181.	У ситуацији приказаној на слици, на делу пута који је саобраћајним знаком означен као опасан успон, односно као опасна низбрдица, на коме је мимоилажење возила немогуће због сужења пута са обе стране:	2
		
	<p>а) возач возила које се креће уз нагиб дужан је да заустави своје возило јер има погодна места за заустављање, које омогућава безбедно мимоилажење, ✓</p> <p>б) возач возила које се креће низ нагиб је дужан да се заустави и кретањем уназад до погодна места омогући мимоилажење,</p> <p>в) возачи ће се визуелном комуникацијом, покретима руком, давањем звучног или светлосног знака упозорења, споразумети о најбезбеднијем начину мимоилажења.</p>	

182.	У ситуацији приказаној на слици:	2
		
	<p>а) дужни сте да успорите кретање свог возила и да га, по потреби, зауставите да би пропустили само прво возило из супротног смера,</p> <p>б) дужни сте да успорите кретање свог возила и да га, по потреби, зауставите да би пропустили возила из супротног смера,</p> <p>в) наставићете кретање обилажењем препреке, јер имате првенство пролаза у односу на возила из супротног смера, због тога што се крећете уз нагиб. ✓</p>	

183.	На делу пута који је саобраћајним знаком означен као опасан успон, односно као опасна низбрдица, на коме је мимоилажење возила немогуће због чега једно од возила која се мимоилазе мора да се креће уназад, кретаће се уназад: (Заокружити два тачна одговора)	2
	<p>а) свако возило које се сусрело са возилом које вуче прикључно возило, ✓</p> <p>б) возило које се креће низ нагиб, без обзира на врсту возила које се креће уз нагиб,</p> <p>в) теретно возило које се сусрело са аутобусом, ✓</p> <p>г) возило које се креће уз нагиб, под условом да у непосредној близини има погодна места које омогућава његово заустављање и мимоилажење возила.</p>	

184.	На делу пута који је саобраћајним знаком означен као опасан успон, односно као опасна низбрдица, на коме је мимоилажење возила немогуће због чега једно од возила која се мимоилазе мора да се креће уназад, кретаће се уназад: (Заокружити два тачна одговора)	2
	<p>а) возило које се креће низ нагиб, без обзира на врсту возила које се креће уз нагиб,</p> <p>б) ако се мимоилазе возила исте врсте - возило које се креће низ нагиб, осим ако је, с обзиром на услове и положај возила на путу, лакше да то учини возач возила које се креће уз нагиб, ✓</p> <p>в) возило које се креће уз нагиб, под условом да у непосредној близини има погодна места које омогућава његово заустављање и мимоилажење возила,</p> <p>г) возило које се сусрело са возилом више врсте. ✓</p>	



185.	У циљу примене правила о мимоилажењу на делу пута који је саобраћајним знаком означен као опасан успон, односно као опасна низбрдица, возила се класификују од више ка нижој врсти на следећи начин:	
	а) аутобус, скуп возила, радна машина, трактор, теретно возило, путничко возило и врста коју чине мотоцикл, мопед, трицикл и четвороцикл,	
	б) скуп возила, аутобус, теретно возило, радна машина, трактор, путничко возило и врста коју чине мотоцикл, мопед, трицикл и четвороцикл, ✓	
	в) скуп возила, радна машина, трактор, теретно возило, аутобус, путничко возило и врста коју чине мотоцикл, мопед, трицикл и четвороцикл.	2

186.	У ситуацији приказаној на слици, на делу пута који је саобраћајним знаком означен као опасан успон, односно као опасна низбрдица, на коме је мимоилажење возила немогуће због сужења пута са обе стране:
------	--



B	а) возач путничког возила дужан је да кретањем уназад до погодног места омогући мимоилажење, ✓	
C	б) возач аутобуса је дужан да кретањем уназад до погодног места омогући мимоилажење,	
D	в) возачи ће се визуелном комуникацијом, покретима руком, давањем звучног или светлосног знака упозорења, споразумети ко ће се кретати уназад да би се мимоишли.	2

187.	У ситуацији приказаној на слици, на делу пута који је саобраћајним знаком означен као опасан успон, односно као опасна низбрдица, на коме је мимоилажење возила немогуће због сужења пута са обе стране:
------	--



F	а) возач путничког возила дужан је да кретањем уназад до погодног места омогући мимоилажење, ✓	
B	б) возач трактора је дужан да кретањем уназад до погодног места омогући мимоилажење,	
	в) возачи ће се визуелном комуникацијом, покретима руком, давањем звучног или светлосног знака упозорења, споразумети ко ће се кретати уназад да би се мимоишли.	2

188.	У ситуацији приказаној на слици, на делу пута који је саобраћајним знаком означен као опасан успон, односно као опасна низбрдица, на коме је мимоилажење возила немогуће због сужења пута са обе стране:
------	--



B	а) возачи ће се визуелном комуникацијом, покретима руком, давањем звучног или светлосног знака упозорења, споразумети ко ће се кретати уназад да би се мимоишли,	
C	б) возач теретног возила дужан је да кретањем уназад до погодног места омогући мимоилажење, ✓	
D	в) возач аутобуса је дужан да кретањем уназад до погодног места омогући мимоилажење.	2

189.	У ситуацији приказаној на слици, на делу пута који је саобраћајним знаком означен као опасан успон, односно као опасна низбрдица, на коме је мимоилажење возила немогуће због сужења пута са обе стране:
------	--



B	а) возач скупа возила је дужан да кретањем уназад до погодног места омогући мимоилажење,	
C	б) возач теретног возила дужан је да кретањем уназад до погодног места омогући мимоилажење, ✓	
	в) возачи ће се визуелном комуникацијом, покретима руком, давањем звучног или светлосног знака упозорења, споразумети ко ће се кретати уназад да би се мимоишли.	2

190.	Претицање се врши са:	
	а) леве стране возила које се претиче, ✓	
	б) било које стране возила које се претиче, у зависности од саобраћајне ситуације,	
	в) десне стране возила које се претиче.	3



Забрањено је коришћење, односно повремено или стално умножавање базе података испитних питања или њених делова, било којим средствима и у било којој форми, у **комерцијалне сврхе**

191. У ситуацији приказаној на слици, возачу путничког возила, претицање:



- а) је дозвољено, ✓
б) није дозвољено.

3

192. У ситуацији приказаној на слици, на путу ван насеља, претицање Вам је дозвољено:



- а) са леве стране, ✓
б) и са леве и са десне стране,
в) са десне стране.

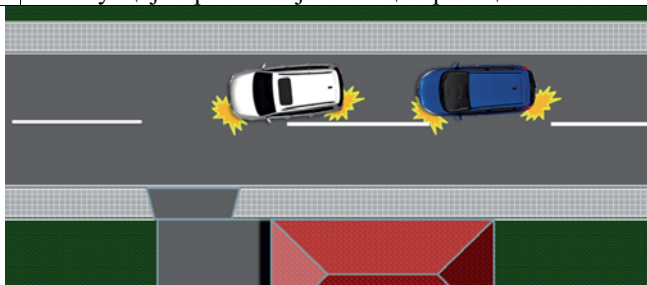
3

193. Када је возило на коловозу заузело такав положај и његов возач даје такав знак да се са сигурношћу може закључити да то возило скреће улево, претицање се:

- а) може вршити са било које стране, у зависности од саобраћајне ситуације,
б) мора вршити са десне стране возила које се претиче, ✓
в) мора вршити са леве стране возила које се претиче.

3

194. У ситуацији приказаној на слици претицање:



- а) је дозвољено,
б) није дозвољено. ✓

3

195. У ситуацији приказаној на слици, претицање са десне стране:



- а) је дозвољено, ✓
б) није дозвољено.

3

196. Трамвај који се креће по шинама постављеним на средини коловоза сме да се претиче:

- а) само са десне стране, ✓
б) са било које стране, у зависности од саобраћајне ситуације,
в) само са леве стране.

3

197. У ситуацији приказаној на слици претицање трамваја је дозвољено:



- а) са леве стране,
б) и са леве и са десне стране,
в) са десне стране. ✓

3

198. На путу на коме постоје најмање две саобраћајне траке намењене за саобраћај возила у истом смеру, на коме су колоне возила, брже кретање возила у једној траци од кретања возила у другој траци:

- а) сматра се претицањем,
б) не сматра се претицањем, ✓
в) не сматра се претицањем само на путу у насељу.

3


199. У ситуацији приказаној на слици брже кретање возила у десној саобраћајној траци:



- а) је претицање,
б) није претицање, ✓
в) је мимоилажење.

3

200. У ситуацији приказаној на слици брже кретање возила у левој саобраћајној траци:



- а) је претицање,
б) није претицање, ✓
в) је мимоилажење.

3





Забрањено је коришћење, односно повремено или стално умножавање базе података испитних питања или њених делова, било којим средствима и у било којој форми, у **комерцијалне сврхе**

201.	На путу на коме постоје најмање две саобраћајне траке намењене за саобраћај возила у истом смеру, пролажење са десне стране возила које се креће:	
	а) сматра се претицањем на путу у насељу, ✓ б) не сматра се претицањем на путу у насељу, ✓ в) не сматра се претицањем на путу ван насеља.	3

206.	Возач претицаног возила:	
	а) може повећати брзину кретања до највеће дозвољене брзине кретања на том делу пута, б) не сме повећавати брзину кретања свог возила, ✓ в) дужан је да успори кретање возила.	3

202.	У ситуацији приказаној на слици, на путу у насељу, пролажење са десне стране возила које се креће испред Вас левом саобраћајном траком:	
------	---	--



	а) је претицање, б) није претицање, ✓ в) је претицање, јер се не крећете у колони.	3
--	--	---

207.	У ситуацији приказаној на слици возач возила које се претиче:	
------	---	--



	а) може повећати брзину кретања до највеће дозвољене брзине кретања на том делу пута, б) не сме повећавати брзину кретања свог возила, ✓ в) дужан је да успори кретање возила.	3
--	--	---

203.	У ситуацији приказаној на слици, на путу у насељу, возач возила које се креће испред Вас и спречава Ваше брже кретање:	
------	--	--



	а) дужан је да Вас пропусти променом саобраћајне траке, ✓ б) није дужан да мења саобраћајну траку, јер га можете претећи са десне стране, в) није дужан да мења саобраћајну траку, уколико се креће највећом дозвољеном брзином на том делу пута.	3
--	---	---

208.	У ситуацији приказаној на слици возач возила које се претиче:	
------	---	--



	а) може повећати брзину кретања до највеће дозвољене брзине кретања на том делу пута, б) не сме повећавати брзину кретања свог возила, ✓ в) дужан је да успори кретање возила.	3
--	--	---

204.	Возач коме је дат знак за претицање дужан је да:	
	а) помери своје возило ка левој ивици коловоза, б) помери своје возило ка десној ивици коловоза, ✓ в) успори кретање возила.	3

205.	У ситуацији приказаној на слици возач возила које се претиче:	
------	---	--



	а) заузео је прописан положај уз десну ивицу коловоза, ✓ б) може да се креће и уз разделну линију, в) дужан је да на безбедан начин помери возило преко десне ивичне линије и тиме омогући претицање.	3
--	---	---

209.	У ситуацији приказаној на слици возач теретног возила које се претиче:	
------	--	--




	а) сме да повећа брзину кретања, б) не сме да повећа брзину кретања, ✓ в) мора да се креће истом брзином којом се кретао пре него што је претицање започето, г) мора да смањи брзину кретања.	3
--	--	---





210.	Претицање возач сме да врши само: (Заокружити два тачна одговора)	
	<ul style="list-style-type: none"> а) када на путу има довољно простора за безбедно претицање и ако се тиме не омета нормално кретање возила која долазе из супротног смера, ✓ б) ако је растојање од возила које се претиче веће од 0,5 m, в) ако тиме не угрожава друге учеснике у саобраћају, ✓ г) ако на коловозу нема поледице или снега. 	3

213.	У ситуацији приказаној на слици возачу возила означеног бројем 3 претицање возила означеног бројем 2:	
		
	<ul style="list-style-type: none"> а) је дозвољено, б) није дозвољено, ✓ в) је дозвољено, јер има право да заврши претицање два возила. 	3

211.	У ситуацији приказаној на слици:	
		
	<ul style="list-style-type: none"> а) дозвољено је отпочети претицање, јер је возач испред вас који претиче проценио да постоји довољна прегледност за безбедно претицање, б) није дозвољено отпочети претицање, јер не постоји довољна прегледност да се можете уверити да тиме нећете угрозити безбедност саобраћаја или ометати саобраћај из супротног смера, ✓ в) дозвољено је отпочети претицање, јер кретање иза теретног возила које претиче омогућава да радњу претицања изведете без ометања или угрожавања саобраћаја из супротног смера. 	3

214.	У ситуацији приказаној на слици:	
		
	<ul style="list-style-type: none"> а) дозвољено је отпочети претицање, јер је возач теретног возила испред Вас проценио да се претицање може извршити на безбедан начин, о чему Вас обавештава десним показивачем правца, б) није дозвољено отпочети претицање, јер се Ви морате непосредно уверити да претицање можете извршити на безбедан начин, ✓ в) није дозвољено отпочети претицање јер возач теретног возила испред Вас уз десни показивач правца није дао и јасан знак руком да се претицање може извршити на безбедан начин. 	3

212.	У ситуацији приказаној на слици:	
		
	<ul style="list-style-type: none"> а) дозвољено је отпочети претицање, јер је возач испред вас који претиче проценио да постоји довољна прегледност за безбедно претицање, б) није дозвољено отпочети претицање, јер не постоји довољна прегледност да се можете уверити да тиме нећете угрозити безбедност саобраћаја или ометати саобраћај из супротног смера, ✓ в) дозвољено је отпочети претицање, јер кретање иза теретног возила које претиче омогућава да радњу претицања изведете без ометања или угрожавања саобраћаја из супротног смера. 	3

215.	У ситуацији приказаној на слици:	
		
	<ul style="list-style-type: none"> а) није дозвољено отпочети претицање, јер се Ви морате непосредно уверити да претицање можете извршити на безбедан начин, ✓ б) дозвољено је отпочети претицање, јер је возач теретног возила испред Вас проценио да се претицање може извршити на безбедан начин, о чему Вас обавештава десним показивачем правца, в) није дозвољено отпочети претицање јер возач теретног возила испред Вас уз десни показивач правца није дао и јасан знак руком да се претицање може извршити на безбедан начин. 	3



216. У ситуацији приказаној на слици претицање:



а) је дозвољено,
 б) није дозвољено, ✓
 в) је дозвољено, само возилима која могу постићи велико убрзање.

3

217. Возач не сме возилом да врши претицање или обилажење:
 (Заокружити два тачна одговора)

а) колоне возила, ✓
 б) ако на коловозу има поледице или снега,
 в) ако је возач који се креће иза њега отпочео претицање или обилажење, ✓
 г) скупа возила.

3

218. У ситуацији приказаној на слици претицање колоне возила:



а) је дозвољено,
 б) није дозвољено. ✓

3

219. У ситуацији приказаној на слици, ако се возач жутог возила уверио да може извршити претицање без угрожавања и ометања саобраћаја из супротног смера, односно да може без ометања ући између свих возила које прегиче, дозвољено му је претицање:



а) свих возила, ✓
 б) највише два возила,
 в) највише три возила.

3

220. У ситуацији приказаној на слици возачу возила означеног бројем 1:



а) није дозвољено да отпочне претицање, због ознака на коловозу,
 б) није дозвољено да отпочне претицање, јер је возач који се креће иза њега отпочео претицање, ✓
 в) је дозвољено да отпочне претицање, јер има предност у односу на возило означено бројем 2 пошто се креће непосредно иза возила чије претицање намеравају да изврше возачи оба возила.

3

221. У ситуацији приказаној на слици возачу возила означеног бројем 1:



а) је дозвољено да отпочне претицање, ако његово возило може постићи велико убрзање,
 б) није дозвољено да отпочне претицање, јер је возач који се креће иза њега отпочео претицање, ✓
 в) је дозвољено да отпочне претицање, јер има предност у односу на возило означено бројем 2, пошто се креће непосредно иза возила чије претицање намеравају да изврше возачи оба возила.

3

222. У ситуацији приказаној на слици возачу жутог возила:



а) није дозвољено да отпочне претицање, јер је возач који се креће иза њега отпочео претицање, ✓
 б) је дозвољено да отпочне претицање, јер има предност у односу на плаво возило пошто се креће непосредно иза возила чије претицање намеравају да изврше возачи оба возила,
 в) је дозвољено да отпочне претицање, ако његово возило може постићи велико убрзање.

3

223. У ситуацији приказаној на слици возачу црвеног возила:



а) није дозвољено да отпочне претицање, јер је возач који се креће иза њега отпочео претицање, ✓
 б) је дозвољено да отпочне претицање, јер има предност у односу на плаво возило пошто се креће непосредно иза возила чије претицање намеравају да изврше возачи оба возила,
 в) је дозвољено да отпочне претицање, ако његово возило може постићи велико убрзање. 3

224. У ситуацији приказаној на слици претицање:

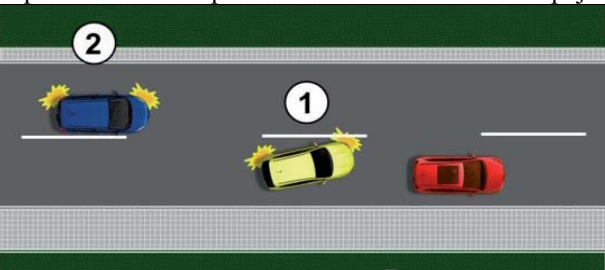


а) је дозвољено,
 б) није дозвољено, ✓
 в) је дозвољено, јер је претицање започето пре наиласка на саобраћајни знак. 3

225. Возач не сме возилом да врши претицање или обилажење:
 (Заокружити два тачна одговора)

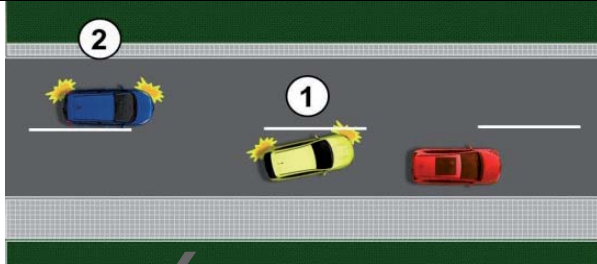
а) ако је возило које долази из супротног смера удаљено мање од 200 m,
 б) ако је возач испред њега на истој саобраћајној траци дао знак за претицање или обилажење, ✓
 в) ако би тиме угрозио безбедност саобраћаја или ометао саобраћај из супротног смера, ✓
 г) ако је возач испред њега на истој саобраћајној траци дао знак десним показивачем правца. 3

226. У ситуацији приказаној на слици претицање на прописан начин врши возач возила означеног бројем:



а) 1,
 б) 2, ✓
 в) 1 и 2. 3

227. У ситуацији приказаној на слици непрописно претицање врши возач возила означеног бројем:



а) 1, ✓
 б) 2,
 в) 1 и 2. 3

228. Возач не сме возилом да врши претицање или обилажење:
 (Заокружити два тачна одговора)

а) у зони школе,
 б) ако по извршеном претицању или обилажењу не би могао да се врати у саобраћајну траку којом се кретао пре тога без ометања или угрожавања осталих учесника у саобраћају, ✓
 в) у зони "30",
 г) зауставном траком. ✓ 3

229. У ситуацији приказаној на слици возач возила које претиче, после претицања теретног возила:



а) може да настави кретање саобраћајном траком којом је вршио претицање, уколико нема возила из супротног смера,
 б) дужан је да се, без ометања или угрожавања осталих учесника у саобраћају, врати у саобраћајну траку којом се кретао пре претицања, ✓
 в) дужан је да се, одмах по извршеном претицању, врати у саобраћајну траку којом се кретао пре претицања, без обзира на одстојање у односу на теретно возило. 3

230. У ситуацији приказаној на слици претицање возила:



а) није извршено на прописан начин, због ометања и угрожавања других учесника у саобраћају, ✓
 б) је извршено на прописан начин, јер су и други учесници у саобраћају дужни да предузму све потребне мере ради избегавања опасних ситуација,
 в) је извршено на прописан начин, јер претицањем није изазвана саобраћајна незгода. 3

231. У ситуацији приказаној на слици, на аутопуту:



а) дозвољено је претицање са десне стране,
 б) није дозвољено претицање са десне стране, ✓
 в) претицање са десне стране дозвољено је само у насељу.

3

232. У ситуацији приказаној на слици, на аутопуту:



а) дозвољено Вам је претицање са десне стране,
 б) није Вам дозвољено претицање са десне стране, ✓
 в) претицање са десне стране дозвољено Вам је само у насељу.

3


233. У ситуацији приказаној на слици, на мотопуту:



а) дозвољено Вам је претицање са десне стране,
 б) није Вам дозвољено претицање са десне стране, ✓
 в) претицање са десне стране дозвољено Вам је само у насељу.

3

234. У ситуацији приказаној на слици претицање Вам је дозвољено:



а) само са леве стране теретног возила, ✓
 б) само са десне стране теретног возила,
 в) и са леве и са десне стране теретног возила.

3

235. Возач не сме возилом да врши претицање или обилажење:
 (Заокружити два тачна одговора)

а) на опасном успону, односно низбрдици,
 б) на мосту, вијадукту, подвожњаку и надвожњаку,
 в) на почетку превоја, на превоју, испред и у непрегледној кривини, осим на коловозу са најмање две саобраћајне траке за кретање возила у истом смеру, ✓
 г) у тунелу, осим у тунелу са најмање две саобраћајне траке за кретање возила у истом смеру. ✓

3

236. На путу са по једном саобраћајном траком по смеру претицање или обилажење није дозвољено:
 (Заокружити два тачна одговора)

а) на опасном успону, односно низбрдици,
 б) на мосту, вијадукту, подвожњаку и надвожњаку,
 в) на почетку превоја, на превоју испред и у непрегледној кривини, ✓
 г) у тунелу. ✓

3


237. На почетку превоја, у ситуацији приказаној на слици, претицање:



а) је дозвољено,
 б) није дозвољено. ✓

3

238. У ситуацији приказаној на слици, на путу са три саобраћајне траке по клизавом коловозу, претицање:



а) је дозвољено, ✓
 б) није дозвољено.

3

239. У ситуацији приказаној на слици претицање:



а) је дозвољено,
 б) није дозвољено. ✓

3

240. У ситуацији приказаној на слици претицање:



а) је дозвољено, ✓
 б) није дозвољено. ✓

3

244. Возач не сме возилом да врши претицање или обилажење возила:
(Заокружити два тачна одговора)

а) за јавни превоз путника, на путу у насељу,
 б) које се приближава пешачком прелазу или га прелази, ✓
 в) које се зауставило или се зауставља ради пропуштања пешака на пешачком прелазу, ✓
 г) које се приближава паркиралишту.

3


241. У ситуацији приказаној на слици претицање:



а) није дозвољено, због недовољне прегледности на превоју,
 б) је дозвољено, ✓
 в) је дозвољено само возачима путничких возила.

3

245. У ситуацији приказаној на слици, претицање возила које се зауставља ради пропуштања пешака:



а) Вам је дозвољено, ✓
 б) није Вам дозвољено, ✓
 в) није Вам дозвољено, осим на путу ван насеља.

3

242. У ситуацији приказаној на слици претицање:



а) је дозвољено, ✓
 б) није дозвољено, због недовољне прегледности у кривини,
 в) је дозвољено само возачима путничких возила.

3

246. Возач не сме возилом да врши претицање или обилажење:
(Заокружити два тачна одговора)

а) на прелазу пута преко железничке или трамвајске пруге, ✓
 б) на подвожњаку и надвожњаку,
 в) на раскрсници када се креће путем са правом првенства пролаза,
 г) колоне возила под пратњом. ✓

3

247. Возач сме возилом да врши претицање:
(Заокружити два тачна одговора)

а) на прелазу пута преко железничке или трамвајске пруге,
 б) на подвожњаку и надвожњаку, ✓
 в) на раскрсници када се креће путем са правом првенства пролаза, ✓
 г) колоне возила под пратњом.

3

243. У ситуацији приказаној на слици, возачу црвеног путничког возила претицање у тунелу:



а) је дозвољено,
 б) није дозвољено, ✓
 в) је дозвољено ако тиме не омета, односно не угрожава возила која се крећу из супротног смера.

3

248. У ситуацији приказаној на слици претицање:



а) је дозвољено,
 б) није дозвољено, ✓
 в) није дозвољено, осим ако је саобраћајна трака намењена за кретање возила из супротног смера слободна, тако да има довољно простора за безбедно претицање.

3



Забрањено је коришћење, односно повремено или стално умножавање базе података испитних питања или њених делова, било којим средствима и у било којој форми, у **комерцијалне сврхе**

249. У ситуацији приказаној на слици претицање:



- а) је дозвољено,
б) није дозвољено. ✓

3

250. У ситуацији приказаној на слици претицање:



- а) Вам је дозвољено,
б) није Вам дозвољено, ✓
в) Вам је дозвољено уз употребу светлосног знака упозорења.

3

251. У ситуацији приказаној на слици, претицање:



- а) Вам је дозвољено,
б) није Вам дозвољено, ✓
в) Вам је дозвољено само уз употребу светлосног знака упозорења.

3

252. Возач не сме возилом да врши претицање или

обилажење:

- (Заокружити два тачна одговора)
- а) на путу за саобраћај у оба смера на којем нису означене саобраћајне траке,
б) на делу пута на коме постоји неискривљена разделна уздужна линија и када не користи коловозну траку намењену за кретање возила из супротног смера,
в) саобраћајном траком за спора возила, ✓
г) на начин да прелази возилом преко неискривљене уздужне линије при чему користи саобраћајну траку намењену за кретање возила из супротног смера. ✓

3

253. У ситуацији приказаној на слици претицање:



- а) Вам је дозвољено,
б) није Вам дозвољено. ✓

3

254. У ситуацији приказаној на слици возачу путничког возила претицање:



- а) није дозвољено, ✓
б) је дозвољено.

3

255. У ситуацији приказаној на слици претицање теретног возила:



- а) Вам је дозвољено,
б) није Вам дозвољено, ✓
в) је дозвољено када возило испред Вас заврши претицање.

3

256. У ситуацији приказаној на слици возачу означеног путничког возила претицање теретног возила:



- а) је дозвољено,
б) је дозвољено уколико је саобраћајна трака намењена за кретање возила из супротног смера слободна, тако да има довољно простора за безбедно претицање,
в) није дозвољено. ✓

3



257. У ситуацији приказаној на слици претицање:



а) је дозвољено,
 б) није дозвољено, ✓
 в) је дозвољено уколико је саобраћајна трака намењена за кретање возила из супротног смера слободна, тако да има довољно простора за безбедно претицање.

3

261. У ситуацији приказаној на слици, према ознакама на коловозу, возачу путничког возила претицање:



а) је дозвољено,
 б) није дозвољено, ✓
 в) је дозвољено јер претиче споро возило.

3

258. У ситуацији приказаној на слици претицање возила испред Вас:



а) није дозвољено, ✓
 б) је дозвољено.

3

262. У ситуацији приказаној на слици, према ознакама на коловозу, возачу путничког возила претицање:



а) није дозвољено, ✓
 б) је дозвољено,
 в) је дозвољено, јер претиче споро возило.

3

259. У ситуацији приказаној на слици претицање теретног возила:



а) Вам је дозвољено,
 б) није Вам дозвољено. ✓

3

263. У ситуацији приказаној на слици, возачу путничког возила претицање мотокултиватора:



а) је дозвољено,
 б) је дозвољено, јер има довољно простора да се мимоиђе са возилом које долази из супротног смера,
 в) није дозвољено. ✓

3

260. У ситуацији приказаној на слици претицање:



а) Вам је дозвољено,
 б) није Вам дозвољено. ✓

3

264. У ситуацији приказаној на слици, возачу црног возила претицање:



а) је дозвољено,
 б) није дозвољено. ✓

3

265. У ситуацији приказаној на слици возачу плавог возила претицање:



- а) је дозвољено уколико је саобраћајна трака намењена за кретање возила из супротног смера слободна, тако да има довољно простора за безбедно претицање,
 - б) је дозвољено, ✓
 - в) није дозвољено.
- 3**

269. У ситуацији приказаној на слици претицање:



- а) Вам је дозвољено, ✓
 - б) није Вам дозвољено према правилима саобраћаја,
 - в) није Вам дозвољено према ознакама на коловозу.
- 3**

266. У ситуацији приказаној на слици, на путу ван насеља, возачу црвеног возила претицање возила у левој саобраћајној траци:




- а) је дозвољено,
 - б) није дозвољено. ✓
- 3**

270. У ситуацији приказаној на слици, возачу возила означеног бројем 2 претицање:



- а) није дозвољено, јер се не креће саобраћајном траком намењеном за кретање те врсте возила,
 - б) је дозвољено, ✓
 - в) није дозвољено према постављеној саобраћајној сигнализацији.
- 3**

267. У ситуацији приказаној на слици претицање је дозвољено:



- а) са леве стране, ✓
 - б) са десне стране,
 - в) и са леве и са десне стране.
- 3**

271. У ситуацији приказаној на слици, претицање:



- а) Вам је дозвољено, ✓
 - б) није Вам дозвољено.
- 3**

268. У ситуацији приказаној на слици, возачу путничког возила претицање:



- а) је дозвољено, ✓
 - б) није дозвољено према правилима саобраћаја,
 - в) није дозвољено према ознакама на коловозу.
- 3**

272. У ситуацији приказаној на слици, возачу путничког возила које вуче прикључно возило, претицање:



- а) је дозвољено, ✓
 - б) није дозвољено према ознакама на коловозу,
 - в) није дозвољено, јер скупом возила претиче теретно возила.
- 3**

273. У ситуацији приказаној на слици, возачу путничког возила претицање:



а) је дозвољено, ✓
 б) није дозвољено према постављеној саобраћајној сигнализацији,
 в) није дозвољено, јер претиче возило којим се превози опасан терет.

3

277. У ситуацији приказаној на слици:



а) претицање Вам је дозвољено,
 б) дозвољено Вам је претицање само теретног возила,
 в) претицање Вам није дозвољено. ✓

3

274. На путу који је прекривен снегом претицање:



а) није дозвољено,
 б) је дозвољено, ако се претицано возило креће брзином мањом од 60 km/h,
 в) је дозвољено. ✓

3

278. Обилажење саобраћајном траком намењеном за кретање возила из супротног смера, при чему се прелази преко неиспрекидане уздужне линије, је дозвољено:

а) када на путу има довољно простора за безбедно обилажење и ако се тиме не омета нормално кретање возила која долазе из супротног смера, ✓
 б) само ако се поступа по знацима које даје лице овлашћено за регулисање саобраћаја,
 в) само возачима мотоцикала и мопеда, на путу у насељу.

3

275. У ситуацији приказаној на слици, возачу путничког возила претицање:



а) је дозвољено, ✓
 б) није дозвољено,
 в) није дозвољено, јер управља возилом којим се врши оспособљавање кандидата за возаче.

3

279. У ситуацији приказаној на слици претицање:



а) Вам је дозвољено, ✓
 б) није Вам дозвољено, ✓
 в) Вам је дозвољено уколико не претиче колону возила.

3

276. Ако се возач након обилажења заустављене колоне не би могао безбедно укључити у саобраћајну траку намењену за смер којим се креће, обилажење:

а) је дозвољено ако постоји довољна ширина за мимоилажење са возилима из супротног смера,
 б) није дозвољено, ✓
 в) је дозвољено само возачима мотоцикала и мопеда.

3

280. Приликом извођења радње претицања возач који претиче дужан је да:

а) своје возило, пре почетка претицања, држи на одстојању од возила које се претиче, које одговара половини зауставног пута његовог возила и растојању од најмање 1 m,
 б) по завршетку претицања своје возило врати у саобраћајну траку којом се кретао пре тога, уз обезбеђење одстојања које одговара половини зауставног пута возила које се претиче,
 в) своје возило држи на потребном одстојању и растојању од возила које претиче, при чему не сме ометати, односно угрожавати, претицано возило нити друге учеснике саобраћаја. ✓

3

281.	После претицања или обилажења возач је дужан да:	
	а) своје возило врати у саобраћајну траку којом се кретао пре тога, уз обезбеђење одстојања које одговара половини зауставног пута возила које се претиче,	
	б) се без ометања, односно угрожавања, осталих учесника у саобраћају, врати у саобраћајну траку којом се кретао пре тога, ✓	
	в) своје возило врати у саобраћајну траку којом се кретао пре тога, када уочи возило из супротног смера.	3

282.	Возачу који се креће путем који није пут са првенством пролаза, непосредно испред раскрснице:	
	а) није дозвољено претицање другог возила, ✓	
	б) дозвољено је претицање другог возила,	
	в) дозвољено је претицање само бицикла, mopеда и мотоцикла.	3

283.	Непосредно испред раскрснице са кружним током саобраћаја:	
	а) дозвољено је претицање другог возила, ✓	
	б) није дозвољено претицање другог возила,	
	в) дозвољено је претицање само бицикла, mopеда и мотоцикла.	3

284.	На раскрсници са кружним током саобраћаја:	
	а) није дозвољено претицање другог возила,	
	б) дозвољено је претицање другог возила, ✓	
	в) дозвољено је претицање само бицикла, mopеда и мотоцикла.	3

285.	Возачу који се креће путем са првенством пролаза непосредно испред раскрснице и на раскрсници:	
	а) није дозвољено претицање другог возила,	
	б) дозвољено је претицање другог возила, ✓	
	в) дозвољено је претицање само бицикла, mopеда и мотоцикла.	3

286.	На раскрсници, на путу са првенством пролаза, претицање возила које скреће улево:	
	а) дозвољено је са леве стране,	
	б) дозвољено је са десне стране, ✓	
	в) није дозвољено.	3

287.	У ситуацији приказаној на слици (црвено возило скреће на раскрсници улево), возачу жутог возила који задржава правац кретања:	
		
	а) дозвољено је претицање и то са леве стране,	
	б) није дозвољено претицање,	
	в) дозвољено је претицање и то са десне стране. ✓	3

288.	У ситуацији приказаној на слици (плаво возило скреће на раскрсници удесно), возачу белог возила који задржава правац кретања:	
		
	а) није дозвољено претицање,	
	б) дозвољено је претицање. ✓	3

289.	У ситуацији приказаној на слици (оба возила задржавају правац кретања кроз раскрсницу), возачу црвеног возила:	
		
	а) дозвољено је претицање и то са леве стране, ✓	
	б) није дозвољено претицање,	
	в) дозвољено је претицање и то са десне стране.	3

290.	У ситуацији приказаној на слици (оба возила задржавају правац кретања кроз раскрсницу), возачу жутог возила:	
		
	а) дозвољено је претицање и то са леве стране, ✓	
	б) није дозвољено претицање,	
	в) дозвољено је претицање и то са десне стране.	3

291. У ситуацији приказаној на слици претицање:



A а) Вам је дозвољено,
б) није Вам дозвољено. ✓

3

295. У ситуацији приказаној на слици возач мопеда, односно мотоцикла, који се претиче:



A а) може повећати брзину кретања до највеће дозвољене брзине кретања на том делу пута,
б) не сме повећавати брзину кретања свог возила, ✓
в) дужан је да успори кретање возила.

3

292. У ситуацији приказаној на слици возач мопеда, односно мотоцикла, претицање врши:



A а) на прописан начин,
б) на непрописан начин. ✓

3

296. Ако се на средини коловоза, на којем се саобраћај одвија у оба смера, налази површина која није намењена за саобраћај возила, објекат или уређај:

а) возила морају да их обилазе са леве стране,
б) возила морају да их обилазе са десне стране, ✓
в) возила могу да их обилазе са обе стране.

3

297. Ако се површине које нису намењене за саобраћај возила, објекти или уређаји, налазе на средини пута са једносмерним саобраћајем могу да се обилазе:

а) са обе стране, ако саобраћајним знаком није другачије одређено, ✓
б) само са десне стране,
в) само са леве стране.

3

293. У ситуацији приказаној на слици возач мопеда, односно мотоцикла, претиче путничко возило:



A а) на прописан начин, само ако не постоји саобраћајни знак који забрањује претицање,
б) на непрописан начин,
в) на прописан начин, јер се при претицању не креће саобраћајном траком намењеном за кретање возила из супротног смера. ✓

3

298. У ситуацији приказаној на слици обилажење површине која није намењена за саобраћај возила је дозвољено:



а) са десне стране, ✓
б) са леве стране,
в) и са леве и са десне стране.

3


294. У ситуацији приказаној на слици обилажење колона возила:



A а) је дозвољено,
б) није дозвољено. ✓

3

299. У ситуацији приказаној на слици обилажење возила које се зауставило:



а) је дозвољено,
б) није дозвољено. ✓

3

300. У ситуацији приказаној на слици обилажење површине која није намењена за саобраћај возила је дозвољено:



а) са леве стране, ✓
 б) са десне стране, ✓
 в) и са леве и са десне стране. ✓

3

301. Обилажење возач сме да врши само: (Заокружити два тачна одговора)

а) ако је растојање од возила које се обилази веће од 0,5 m,
 б) када на путу има довољно простора за безбедно обилажење и ако се тиме не омета нормално кретање возила која долазе из супротног смера, ✓
 в) ако на коловозу нема поледице или снега,
 г) ако тиме не угрожава друге учеснике у саобраћају. ✓

3

302. У ситуацији приказаној на слици обилажење површине на којој се саобраћај не одвија због радова на путу је дозвољено:



а) са десне стране,
 б) са леве стране,
 в) и са леве и са десне стране. ✓

2

303. Возач је дужан да брзину кретања возила прилагоди: (Заокружити три тачна одговора)

а) особинама и стању пута, ✓
 б) расположивом времену за долазак на жељено место,
 в) стању возила и терета, ✓
 г) према брзини возила која се најбрже крећу,
 д) видљивости и прегледности, ✓
 њ) тако да до жељеног места стигне што пре. ✓

3

304. Возач је дужан да брзину кретања возила прилагоди: (Заокружити два тачна одговора)

а) тако да му вожња буде најудобнија,
 б) атмосферским приликама, ✓
 в) густини саобраћаја и другим саобраћајним условима, ✓
 г) расположивом времену за долазак на жељено место.

3

305. Возач је дужан да брзину кретања возила прилагоди тако да: (Заокружити два тачна одговора)

а) возило може благовремено да заустави пред сваком препреком коју под датим околностима може да види или има разлога да предвиди, ✓
 б) не угрожава безбедност саобраћаја, ✓
 в) што пре безбедно стигне на одредиште,
 г) може ометати, али не и угрозити друге учеснике у саобраћају.

3

306. У ситуацији приказаној на слици дужни сте да се крећете брзином:



а) која је најмање 20% мања од брзине дозвољене правилима саобраћаја за тај пут,
 б) тако да можете благовремено да зауставите возило пред сваком препреком коју под датим околностима можете да видите или има разлога да предвидите, ✓
 в) од највише 60 km/h.

3

307. У ситуацији приказаној на слици, дужни сте да се крећете брзином: (Заокружити два тачна одговора)



а) од највише 40 km/h,
 б) која је најмање 20% мања од брзине дозвољене постављеним саобраћајним знаком, за тај део пута,
 в) тако да можете благовремено да зауставите возило пред сваком препреком коју под датим околностима можете да видите или имате разлога да предвидите, ✓
 г) тако да не угрожавате безбедност саобраћаја. ✓

3

308. У ситуацији приказаној на слици дужни сте да се крећете брзином:
(Заокружити два тачна одговора)



а) тако да можете благовремено да зауставите возило пред сваком препреком коју под датим околностима можете да видите или има разлога да предвидите, ✓
 б) да не угрожавате себе и друге учеснике у саобраћају, ✓
 в) која је најмање 20% мања од брзине дозвољене према врсти возила којима управљате,
 г) од највише 80 km/h.

3

309. Возач који вози споро у мери у којој омета нормалан саобраћај дужан је да:

а) заустави возило на коловозу и кретање настави тек када га обиђу возила која су се кретала иза њега,
 б) на првом одговарајућем месту омогући да га друга возила безбедно претекну, обиђу или прођу, ✓
 в) успори кретање и тиме омогући возилима која се крећу иза њега да га претекну.

3

310. На путу у насељу, где брзина није ограничена постављеним саобраћајним знаком, возач не сме да се креће брзином већом од:

а) 80 km/h, б) 60 km/h, в) 50 km/h. ✓

3

311. У ситуацији приказаној на слици возач белог теретног возила (цистерне) дужан је да:



а) заустави возило на коловозу и кретање настави тек када га обиђу возила која су се кретала иза њега,
 б) успори кретање и тиме омогући возилима која се крећу иза њега да га обиђу,
 в) на првом одговарајућем месту омогући да га друга возила безбедно претекну, обиђу или прођу. ✓

3


312. У ситуацији приказаној на слици, након саобраћајног знака, морате се кретати брзином која није већа:



а) од 80 km/h, б) од 60 km/h, в) од 50 km/h. ✓

3

313. Возач аутобуса којим се врши организовани превоз деце, након саобраћајног знака, дужан је да се креће брзином која није већа од:



а) 70 km/h, б) 60 km/h, в) 50 km/h. ✓

3


314. У ситуацији приказаној на слици, након саобраћајног знака, морате се кретати брзином која није већа од:



а) 80 km/h, ✓ б) 60 km/h, в) 50 km/h.

3

315. Возач путничког возила приказаног на слици дужан је да се креће брзином која није већа од:




а) 80 km/h, ✓ б) 60 km/h, в) 50 km/h.

3

© Забрањено је коришћење, односно повремено или стално умножавање базе података испитних питања или њених делова, било којим средствима и у било којој форми, у **комерцијалне сврхе**

316. Возач аутобуса, након саобраћајних знакова, дужан је да се креће брзином која није већа од:



D а) 50 km/h, б) 70 km/h, в) 80 km/h. ✓ **3**

321. Возач аутобуса који поред уграђених седишта има и места за стајање, у ситуацији приказаној на слици, дужан је да се креће брзином која није већа од:




D а) 50 km/h, ✓ б) 60 km/h, в) 80 km/h, г) 100 km/h. **3**

317. Возач аутобуса који поред уграђених седишта има и места за стајање, након саобраћајног знака, дужан је да се креће брзином која није већа од:



D а) 50 km/h, ✓ б) 70 km/h, в) 80 km/h, г) 90 km/h. **3**

322. Возач путничког возила приказаног на слици дужан је да се креће брзином која није већа:



а) ✓ од 40 km/h, б) од 60 km/h, в) од 50 km/h. **3**

318. Брзина кретања аутобуса који, поред уграђених седишта има и места за стајање, на путу ван насеља, не сме бити већа од:

D а) 50 km/h, ✓ б) 60 km/h, в) 70 km/h, г) 80 km/h. **3**

323. На аутопуту ван насеља, није дозвољено кретање брзином већом од:

а) 80 km/h, б) 100 km/h, в) 120 km/h, ✓ г) 130 km/h. **3**

319. Возач аутобуса, у ситуацији приказаној на слици, дужан је да се креће брзином која није већа од:



D а) 60 km/h, б) 80 km/h, ✓ в) 100 km/h, г) 120 km/h. **3**

324. Возач путничког возила приказаног на слици дужан је да се креће брзином која није већа од:



а) 80 km/h, б) 100 km/h, в) 120 km/h, ✓ г) 130 km/h. **3**

320. Возач аутобуса, након саобраћајних знакова, дужан је да се креће брзином која није већа од:



D а) 60 km/h, ✓ б) 80 km/h, в) 100 km/h, г) 120 km/h. **3**

325. На мотопуту ван насеља, није дозвољено кретање брзином већом од:

а) 80 km/h, б) 100 km/h, ✓ в) 120 km/h, г) 130 km/h. **3**

326. На путу ван насеља који није аутопут ни мотопут, возач аутобуса који поред уграђених седишта има и места за стајање, дужан је да се креће брзином која није већа од:

D а) 50 km/h, ✓ б) 60 km/h, в) 70 km/h, г) 80 km/h. **3**

327. На аутопуту ван насеља, возач скупа возила којег чине теретно и прикључно возило, дужан је да се креће брзином која није већа од:


а) 70 km/h, б) 80 km/h, в) 90 km/h, ✓ г) 100 km/h. **3**

328. Возач аутобуса којим се врши организовани превоз деце, након саобраћајног знака, дужан је да се креће брзином која није већа од:



D а) 70 km/h, б) 60 km/h, в) 50 km/h. ✓ **3**

329. Возач теретног возила чија је највећа дозвољена маса 20.000 kg, након саобраћајних знакова, дужан је да се креће брзином која није већа од:




C а) 80 km/h, б) 70 km/h, в) 50 km/h. ✓ **3**

330. Возач теретног возила чија је највећа дозвољена маса 12.000 kg, након саобраћајног знака, дужан је да се креће брзином која није већа од:



C а) 70 km/h, б) 80 km/h, в) 90 km/h, г) 100 km/h. ✓ **3**

331. Возач теретног возила чија је највећа дозвољена маса 12.000 kg, након саобраћајних знакова, дужан је да се креће брзином која није већа од:



C а) 40 km/h, б) 60 km/h, в) 50 km/h. ✓ **3**

332. Возач теретног возила чија је највећа дозвољена маса 8.000 kg, након саобраћајног знака, дужан је да се креће брзином која није већа од:



C а) 70 km/h, б) 80 km/h, в) 90 km/h, г) 100 km/h. ✓ **3**

333. Возач теретног возила приказаног на слици, дужан је да се креће брзином која није већа од:



B а) 60 km/h, б) 80 km/h, в) 100 km/h, г) 120 km/h. ✓ **3**

334. Возач теретног возила чија је највећа дозвољена маса 10.000 kg, након саобраћајних знакова, дужан је да се креће брзином која није већа од:



C а) 60 km/h, б) 80 km/h, в) 100 km/h, г) 120 km/h. ✓ **3**

335. На путу ван насеља који није аутопут ни мотопут, возач теретног возила чија је највећа дозвољена маса 10.000 kg, дужан је да се креће брзином која није већа од:

C а) 70 km/h, б) 80 km/h, в) 90 km/h, г) 100 km/h. ✓ **3**

336. Возач скупа возила приказаног на слици мора се кретати брзином која није већа:



B а) од 60 km/h, б) од 80 km/h, в) од 100 km/h, г) од 120 km/h. ✓ **3**

337. На путу ван насеља који није аутопут ни мотопут, возач не сме возилом да се креће брзином већом од:

а) 100 km/h, б) 80 km/h, в) 120 km/h, г) 130 km/h. ✓ **3**



Забрањено је коришћење, односно повремено или стално умножавање базе података испитних питања или њених делова, било којим средствима и у било којој форми, у **комерцијалне сврхе**

338. Возач путничког возила приказаног на слици дужан је да се креће брзином која није већа од:



a) 80 km/h,	в) 120 km/h,	3
б) 100 km/h, ✓	г) 130 km/h.	

339. Возач путничког возила приказаног на слици дужан је да се креће брзином која није већа од:



a) 60 km/h, ✓	в) 100 km/h,	3
б) 80 km/h,	г) 120 km/h.	

340. Возач путничког возила приказаног на слици дужан је да се креће брзином која није већа од:



a) 60 km/h,	в) 100 km/h,	3
б) 80 km/h, ✓	г) 120 km/h.	

341. У ситуацији приказаној на слици, након саобраћајног знака, дужни сте да се крећете брзином која није већа:



a) од 60 km/h,	в) од 100 km/h,	3
б) од 80 km/h, ✓	г) од 120 km/h.	

342. Брзина кретања моторног возила које вуче прикључно возило за становање (караван), на путу ван насеља ограничена је на:

a) 40 km/h,	б) 80 km/h, ✓	в) 100 km/h.	3
-------------	---------------	--------------	---

343. Брзина кретања теретног моторног возила са прикључним возилом, на путу ван насеља осим на аутопуту, ограничена је на:

a) 50 km/h,	3
б) 70 km/h, ✓	
в) 90 km/h.	

344. Возач теретног возила највеће дозвољене масе 10.000 kg, у ситуацији приказаној на слици, дужан је да се креће брзином која није већа:



С a) од 60 km/h,	в) од 100 km/h,	3
б) од 80 km/h,	г) од 70 km/h, ✓	

345. Брзина кретања аутобуса на путу ван насеља, осим на аутопуту, ограничена је на:

Д a) 80 km/h, ✓	б) 90 km/h,	в) 100 km/h.	3
-----------------	-------------	--------------	---

346. Брзина кретања аутобуса са прикључним возилом за превоз терета на путу ван насеља, осим на аутопуту, ограничена је на:

Д a) 80 km/h, ✓	б) 90 km/h,	в) 100 km/h.	3
-----------------	-------------	--------------	---

347. Брзина кретања теретног моторног возила чија највећа дозвољена маса није већа од 7.500 kg на путу ван насеља, осим на аутопуту, ограничена је на:

С a) 80 km/h, ✓	б) 90 km/h,	в) 100 km/h.	3
-----------------	-------------	--------------	---

348. Брзина кретања аутобуса на аутопуту, ограничена је на:

Д a) 80 km/h,	б) 90 km/h,	в) 100 km/h, ✓	3
---------------	-------------	----------------	---

349. Брзина кретања аутобуса са прикључним возилом за превоз терета на аутопуту, ограничена је на:

Д a) 80 km/h,	б) 90 km/h,	в) 100 km/h, ✓	3
---------------	-------------	----------------	---

350. Брзина кретања теретног моторног возила чија највећа дозвољена маса није већа од 7.500 kg на аутопуту, ограничена је на:

С a) 80 km/h,	б) 90 km/h,	в) 100 km/h, ✓	3
---------------	-------------	----------------	---

351. Брзина кретања аутобуса којим се врши организовани превоз деце на путу ван насеља, осим на аутопуту, ограничена је на:

Д a) 50 km/h,	б) 70 km/h, ✓	в) 90 km/h.	3
---------------	---------------	-------------	---

352. Брзина кретања аутобуса којим се врши организовани превоз деце на аутопуту, ограничена је на:

Д a) 50 km/h,	б) 70 km/h,	в) 90 km/h, ✓	3
---------------	-------------	---------------	---



353. Возач возила приказаног на слици, мора се кретати брзином која није већа:



D а) од 50 km/h, б) од 70 km/h, в) од 80 km/h. **3**

361. Возач возила приказаног на слици мора се кретати на аутопуту, брзином која није већа:



C а) од 50 km/h, б) од 70 km/h, в) од 90 km/h. **3**

354. Возач возила приказаног на слици мора се кретати брзином која није већа:



D а) од 50 km/h, б) од 70 km/h, в) од 90 km/h. **3**

362. Возач теретног возила приказаног на слици мора се кретати брзином која није већа:



C а) од 50 km/h, б) од 70 km/h, в) од 90 km/h. **3**

355. Брзина кретања зглобног аутобуса без места за стајање, на путу ван насеља осим на аутопуту, ограничена је на:

D а) 50 km/h, б) 70 km/h, в) 90 km/h. **3**

356. Брзина кретања зглобног аутобуса без места за стајање, на аутопуту, ограничена је на:

D а) 50 km/h, б) 70 km/h, в) 90 km/h. **3**

357. Брзина кретања теретног моторног возила чија је највећа дозвољена маса већа од 7.500 kg на путу ван насеља, осим на аутопуту, ограничена је на:

C а) 50 km/h, б) 70 km/h, в) 90 km/h. **3**

363. Возач возила приказаног на слици мора се кретати брзином која није већа:



C а) од 70 km/h, б) од 80 km/h, в) од 90 km/h. **3**


358. Брзина кретања теретног моторног возила чија је највећа дозвољена маса већа од 7.500 kg, на аутопуту, ограничена је на:

C а) 50 km/h, б) 70 km/h, в) 90 km/h. **3**

364. Возач теретног возила чија је највећа дозвољена маса 7.500 kg, након саобраћајног знака, дужан је да се креће брзином која није већа од:

359. Брзина кретања теретног возила са прикључним возилом на аутопуту, ограничена је на:

C а) 50 km/h, б) 70 km/h, в) 90 km/h. **3**



C а) 80 km/h, б) 60 km/h, в) 50 km/h. **3**

360. Возач возила приказаног на слици мора се кретати брзином која није већа:



C а) од 50 km/h, б) од 70 km/h, в) од 90 km/h. **3**

365. На путу ван насеља који није аутопут ни мотопут, возач теретног возила чија је највећа дозвољена маса 5.000 kg, дужан је да се креће брзином која није већа од:

C а) 70 km/h, б) 80 km/h, в) 90 km/h, г) 100 km/h. **3**

© Забрањено је коришћење, односно повремено или стално умножавање базе података испитних питања или њених делова, било којим средствима и у било којој форми, у **комерцијалне сврхе**

366. Брзина кретања аутобуса са прикључним возилом за превоз лица, на путу ван насеља, ограничена је на:
D а) 50 km/h, б) 60 km/h, в) 80 km/h. **3**

367. Брзина кретања аутобуса који поред уграђених седишта има и одређена места за стајање, на путу ван насеља, ограничена је на:
D а) 50 km/h, б) 70 km/h, в) 90 km/h. **3**

368. Брзина кретања трактора, на путу ван насеља, ограничена је на:
F а) 30 km/h, б) 40 km/h, в) 50 km/h. **3**

369. Брзина кретања трактора на путу у насељу, ограничена је на:
F а) 30 km/h, б) 40 km/h, в) 50 km/h. **3**

370. Возач трактора у ситуацији приказаној на слици мора се кретати брзином која није већа:

F а) од 30 km/h, б) од 40 km/h, в) од 50 km/h. **3**

371. Возач возила приказаног на слици мора се кретати брзином која није већа:

F а) од 30 km/h, б) од 40 km/h, в) од 50 km/h. **3**

372. Брзина кретања трактора са прикључним возилом, на путу ван насеља, ограничена је на:
F а) 30 km/h, б) 40 km/h, в) 50 km/h. **3**

373. Возач возила приказаног на слици мора се кретати брзином која није већа:

F а) од 30 km/h, б) од 40 km/h, в) од 50 km/h. **3**

374. Возач трактора у ситуацији приказаној на слици мора се кретати брзином која није већа:

F а) од 30 km/h, б) од 40 km/h, в) од 50 km/h. **3**

375. Брзина кретања трактора са прикључним возилом, када се у прикључном возилу превози једно лице на путу ван насеља, ограничена је на:
F а) 30 km/h, б) 40 km/h, в) 50 km/h. **3**

376. Возач трактора са прикључним возилом приказаног на слици мора се кретати брзином која није већа:

F а) од 30 km/h, б) од 40 km/h, в) од 50 km/h. **3**

377. Возач трактора са прикључним возилом приказаног на слици мора се кретати брзином која није већа:

F а) од 20 km/h, б) од 30 km/h, в) од 40 km/h. **3**

378. Брзина кретања радне машине на којој се превозе лица, на путу ограничена је на:
F а) 20 km/h, б) 30 km/h, в) 40 km/h. **3**

379. Након саобраћајних знакова приказаних на слици, возач мопеда, односно мотоцикла, дужан је да се креће брзином која није већа:

A а) од 40 km/h, б) од 60 km/h, в) од 50 km/h. **3**

380. Након саобраћајних знакова приказаних на слици, возач mopеда, односно мотоцикла, дужан је да се креће брзином која није већа од:



A а) 80 km/h, ✓ б) 60 km/h, в) 50 km/h. **3**

381. У ситуацији приказаној на слици, након саобраћајног знака, морате се кретати брзином која није већа од:



A а) 80 km/h, ✓ б) 60 km/h, в) 50 km/h. **3**

382. Након саобраћајних знакова приказаних на слици, возач mopеда, односно мотоцикла, дужан је да се креће брзином која није већа од:



A а) 60 km/h, ✓ б) 80 km/h, в) 100 km/h, г) 120 km/h. **3**

383. Возач возила који на раскрсници скреће улево:

- а) дужан је да пропусти возило које, долазећи из супротног смера на раскрсници задржава правац кретања или скреће удесно, ако саобраћајним знаком није другачије одређено, ✓
- б) има првенство пролаза у односу на возило које, долазећи из супротног смера на раскрсници задржава правац кретања или скреће удесно, ако саобраћајним знаком није другачије одређено,
- в) дужан је да пропусти возило које, долазећи из супротног смера на раскрсници задржава правац кретања, а има првенство пролаза у односу на возило које скреће удесно, ако саобраћајним знаком није другачије одређено. **2**

384. У ситуацији приказаној на слици:



- а) дужни сте да пропустите теретно возило, а имате првенство пролаза у односу на путничко возило,
- б) дужни сте да пропустите путничко возило, а имате првенство пролаза у односу на теретно возило,
- в) дужни сте да пропустите оба возила, ✓
- г) имате предност у односу на оба возила. **2**

385. У ситуацији приказаној на слици:



- а) дужни сте да пропустите трактор, а имате првенство пролаза у односу на путничко возило,
- б) дужни сте да пропустите путничко возило, а имате првенство пролаза у односу на трактор,
- в) дужни сте да пропустите оба возила, ✓
- г) имате предност у односу на оба возила. **2**

386. У ситуацији приказаној на слици:



- а) дужни сте да пропустите трактор, а имате првенство пролаза у односу на возило из супротног смера,
- б) дужни сте да пропустите оба возила, ✓
- в) дужни сте да пропустите возило из супротног смера, а имате првенство пролаза у односу на трактор,
- г) имате предност у односу на оба возила. **2**



387. У ситуацији приказаној на слици:



- а) дужни сте да пропустите трактор, а имате првенство пролаза у односу на путничко возило,
- б) дужни сте да пропустите путничко возило, а имате првенство пролаза у односу на трактор,
- в) дужни сте да пропустите оба возила, ✓
- г) имате предност у односу на оба возила. 2

388. У ситуацији приказаној на слици:



- а) дужни сте да пропустите трактор, а имате првенство пролаза у односу на возило из супротног смера,
- б) дужни сте да пропустите возило из супротног смера, а имате првенство пролаза у односу на трактор,
- в) дужни сте да пропустите оба возила, ✓
- г) имате предност у односу на оба возила. 2

389. У ситуацији приказаној на слици:



- а) зауставићете се и пропустити путничко возило,
- б) дужни сте да пропустите путничко возило,
- в) имате првенство пролаза у односу на путничко возило. ✓ 2

390. У ситуацији приказаној на слици:



- а) имате право првенства пролазау односу на возило које скреће улево, ✓
- б) дужни сте да пропустите возило које скреће улево. 2

391. На раскрсници или у сусрету са трамвајем, возач:

- а) је дужан да пропусти трамвај у свим случајевима, ако саобраћајним знаком није другачије одређено, ✓
- б) има у свим случајевима првенство пролаза у односу на трамвај, ако саобраћајним знаком није другачије одређено,
- в) је дужан да пропусти трамвај, само ако долази са његове десне стране. 2

392. У ситуацији приказаној на слици:



- а) дужни сте да пропустите трамвај, а имате првенство пролаза у односу на путничко возило,
- б) дужни сте да пропустите путничко возило, а имате првенство пролаза у односу на трамвај,
- в) имате првенство пролаза у односу на оба возила, ✓
- г) дужни сте да пропустите оба возила. 2

393. У ситуацији приказаној на слици:



- а) дужни сте да пропустите трамвај, а имате првенство пролаза у односу на путничко возило,
- б) дужни сте да пропустите путничко возило, а имате првенство пролаза у односу на трамвај,
- в) имате првенство пролаза у односу на оба возила, ✓
- г) дужни сте да пропустите оба возила. 2





394. У ситуацији приказаној на слици:



- а) дужни сте да пропустите трамвај, а имате првенство пролаза у односу на путничко возило,
- б) дужни сте да пропустите путничко возило, а имате првенство пролаза у односу на трамвај,
- в) имате првенство пролаза у односу на оба возила,
- г) дужни сте да пропустите оба возила. ✓

2

395. У ситуацији приказаној на слици:



- а) дужни сте да пропустите трамвај, а имате првенство пролаза у односу на путничко возило, ✓
- б) дужни сте да пропустите путничко возило, а имате првенство пролаза у односу на трамвај,
- в) имате првенство пролаза у односу на оба возила,
- г) дужни сте да пропустите оба возила.

2

396. У ситуацији приказаној на слици:



- а) дужни сте да пропустите путничко возило, а имате првенство пролаза у односу на трамвај,
- б) имате првенство пролаза у односу на оба возила,
- в) дужни сте да пропустите оба возила,
- г) дужни сте да пропустите трамвај, а имате првенство пролаза у односу на путничко возило. ✓

2

397. У ситуацији приказаној на слици, возач путничког возила:



- а) има првенство пролаза у односу на трактор са укљученим жутим ротационим или трепћућим светлом, ✓
- б) дужан је да пропусти трактор са укљученим жутим ротационим или трепћућим светлом.

2


398. У ситуацији приказаној на слици:



- а) имате првенство пролаза у односу на возило које Вам долази са леве стране,
- б) дужни сте да пропустите возило које Вам долази са леве стране. ✓

2

399. У ситуацији приказаној на слици возач путничког возила:



- а) дужан је да пропусти аутобус који долази са његове леве стране, ✓
- б) има првенство пролаза у односу на аутобус који долази са његове леве стране.

2

400. У ситуацији приказаној на слици возач аутобуса:



- а) дужан је да пропусти путничко возило које долази са његове десне стране,
- б) има првенство пролаза у односу на путничко возило које долази са његове десне стране. ✓

2



401. У ситуацији приказаној на слици:



а) дужни сте да пропустите возило које Вам долази са леве стране,
 б) имате првенство пролаза у односу на возило које Вам долази са леве стране. ✓

2

405. У ситуацији приказаној на слици:



а) возач путничког возила има првенство пролаза у односу на теретно возило,
 б) возач теретног возила има првенство пролаза у односу на путничко возило. ✓

2

402. У ситуацији приказаној на слици, када скрећете удесно на првом излазу:



а) дужни сте да скретање извршите тако што ћете направити цео круг обилазећи острво са десне стране,
 б) можете скренути удесно не обилазећи око острва. ✓

2

406. У ситуацији приказаној на слици:



а) дужни сте да пропустите бицикл, а имате првенство пролаза у односу на путничко возило,
 б) дужни сте да пропустите путничко возило, а имате првенство пролаза у односу на бицикл,
 в) имате првенство пролаза у односу на оба возила.
 г) дужни сте да пропустите оба возила. ✓

2

403. У ситуацији приказаној на слици, при полукружном окретању:



а) дужни сте да полукружно окретање извршите обилазећи острво са десне стране, ✓
 б) можете се полукружно окренути не обилазећи острво, односно одмах извршити скретање улево.

2

407. Возач возила које се са земљаног пута укључује на пут са савременим коловозним застором:

а) дужан је да пропусти само моторна возила која се крећу путем на који се укључује,
 б) дужан је да пропусти сва возила која се крећу путем на који се укључује, само када је то одређено саобраћајним знаком,
 в) дужан је да пропусти сва возила која се крећу путем на који се укључује и када тај пут није саобраћајним знаком означен као пут са првенством пролаза. ✓

2

404. У ситуацији приказаној на слици возач теретног возила:



а) има првенство пролаза у односу на путничко возило, ✓
 б) дужан је да пропусти путничко возило.

2

408. У ситуацији приказаној на слици:



а) дужни сте да пропустите бицикл, а имате првенство пролаза у односу на путничко возило,
 б) дужни сте да пропустите путничко возило, а имате првенство пролаза у односу на бицикл,
 в) имате првенство пролаза у односу на оба возила,
 г) дужни сте да пропустите оба возила. ✓

2



409. У ситуацији приказаној на слици:



- а) дужни сте да пропустите возило које Вам долази са десне стране,
- б) дужни сте да пропустите возило које Вам долази са леве стране,
- в) имате првенство пролаза у односу на оба возила, ✓
- г) морате пропустити оба возила.

2

410. Возач који при скретању пресеца бицикличку стазу:

- а) дужан је да пропусти само возила која му долазе са његове десне стране крећући се том стазом,
- б) дужан је да пропусти возила која се крећу бицикличком стазом, ✓
- в) има првенство пролаза у односу на возила која се крећу бицикличком стазом.

2

411. Возач који при скретању пресеца бицикличку траку:

- а) дужан је да пропусти само возила која му долазе са његове десне стране крећући се том траком,
- б) дужан је да пропусти возила која се крећу бицикличком траком, ✓
- в) има првенство пролаза у односу на возила која се крећу бицикличком траком.

2

412. У ситуацији приказаној на слици:



- а) имате првенство пролаза у односу на бицикл,
- б) дужни сте да пропустите бицикл. ✓

2

413. У ситуацији приказаној на слици возачи возила:



- а) дужни су да пропусте бицикл, ✓
- б) имају првенство пролаза у односу на бицикл.

2

414. Возач који се приближава раскрсници дужан је да прилагоди вожњу:

(Заокружити два тачна одговора)

- а) условима саобраћаја на раскрсници, ✓
- б) како би што пре стигао на одредиште,
- в) тако да вози брзином при којој може да се заустави и пропусти возила која на раскрсници имају првенство пролаза, ✓
- г) тако да што пре прође кроз раскрсницу.

2

415. Возач који прилази раскрсници:

- а) дужан је да на довољном одстојању пред раскрсницом изврши престројавање и заузме положај на саобраћајној траци предвиђеној за пролазак кроз раскрсницу у смеру у којем жели наставити кретање, ✓
- б) може и непосредно пред раскрсницом да заузме положај на саобраћајној траци предвиђеној за пролазак кроз раскрсницу у смеру у којем жели наставити кретање,
- в) може проћи раскрсницу у жељеном смеру било којом саобраћајном траком ако тиме не омета или угрожава остале учеснике у саобраћају.

2

416. Возач који улази возилом на пут са првенством пролаза:

- а) дужан је да пропусти само возила која долазе са његове десне стране крећући се тим путем,
- б) дужан је да пропусти сва возила која се крећу тим путем, ✓
- в) дужан је да пропусти само возила која долазе са његове леве стране крећући се тим путем,
- г) дужан је да пропусти само моторна возила која се крећу тим путем.

2

417. У ситуацији приказаној на слици можете:



- а) извршити скретање удесно,
- б) извршити скретање улево,
- в) наставити кретање право, ✓
- г) наставити кретање у сва три смера, уколико не ометате или угрожавате безбедност саобраћаја.

2

418. У ситуацији приказаној на слици, испред раскрснице заузели сте положај на саобраћајној траци тако да:



- а) Вам је дозвољено да извршите скретање улево,
- б) Вам није дозвољено да извршите скретање улево. ✓

2



419. У ситуацији приказаној на слици, испред раскрснице заузели сте положај на саобраћајној траци тако да:



а) Вам је дозвољено да извршите скретање удесно,
 б) Вам није дозвољено да извршите скретање удесно. ✓

2


420. Возач који жели да прође кроз раскрсницу, на којој има првенство пролаза:

а) не сме возилом да уђе у раскрсницу, ако ће због густине саобраћаја стати у раскрсници или на пешачком прелазу и тиме ометати или онемогућити саобраћај возила, односно пешака, ✓
 б) мора возилом да уђе у раскрсницу, без обзира на густину саобраћаја, да не би ометао возила која се крећу иза њега,
 в) може возилом ући у раскрсницу ако му густина саобраћаја дозвољава да не стане на пешачком прелазу, иако тиме омета саобраћај возила. **2**

421. Возач који жели да прође кроз раскрсницу, када му је семафором то дозвољено:

а) мора возилом да уђе у раскрсницу, без обзира на густину саобраћаја, да не би ометао возила која се крећу иза њега,
 б) може возилом ући у раскрсницу и због густине саобраћаја стати на пешачком прелазу, ако је пешацима семафором забрањен пролаз,
 в) не сме возилом да уђе у раскрсницу, ако ће због густине саобраћаја стати у раскрсници или на пешачком прелазу и тиме ометати или онемогућити саобраћај возила, односно пешака. ✓ **2**

422. У ситуацији приказаној на слици, када се возила у раскрсници испред Вас не крећу:



а) не смате возилом ући у раскрсницу, јер ћете због густине саобраћаја стати на пешачком прелазу и у случају промене светлосног знака ометаћете саобраћај пешака, ✓
 б) морате возилом ући у раскрсницу, без обзира на густину саобраћаја, да не би ометали возила која се крећу иза вас,
 в) можете возилом ући у раскрсницу и стати на пешачком прелазу, због густине саобраћаја, јер је пешацима семафором забрањен пролаз. **2**

423. У ситуацији приказаној на слици, испред раскрснице заузели сте положај на саобраћајној траци тако да:



а) Вам је дозвољено да извршите скретање улево, ✓
 б) Вам није дозвољено да извршите скретање улево. **2**

424. У ситуацији када се крећете путем са првенством пролаза, а возила у раскрсници испред Вас се не крећу:



а) можете возилом ући у раскрсницу, без обзира на густину саобраћаја,
 б) не смате возилом ући у раскрсницу, јер ћете због густине саобраћаја стати на пешачком прелазу или у раскрсници и тиме ћете ометати саобраћај пешака или возила, ✓
 в) можете возилом ући у раскрсницу, јер се крећете путем са првенством пролаза, при чему се не смате зауставити на пешачком прелазу. **2**

425. У ситуацији приказаној на слици, када се зелено и жуто возило не крећу, возач црвеног возила који задржава правац кретања:



а) не сме возилом ући у раскрсницу, јер ће због густине саобраћаја стати у раскрсници и у случају промене светлосног знака ометаће саобраћај возила, ✓
 б) мора возилом ући у раскрсницу, без обзира на густину саобраћаја, да не би ометао возила која се крећу иза њега,
 в) може возилом ући и стати у раскрсници, јер је возилима која се крећу путем који се укршта са путем којим се он креће, семафором забрањен пролаз. **2**

426. У ситуацији приказаној на слици, када се возила испред њега не крећу, возач црвеног возила који задржава правац кретања:

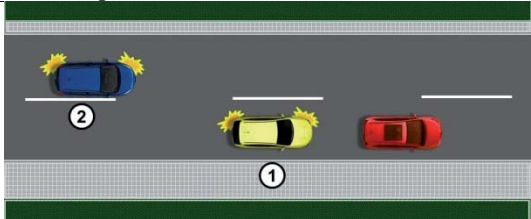


- а) мора возилом ући у раскрсницу, без обзира на густину саобраћаја, да не би ометао возила која се крећу иза њега,
- б) не сме возилом ући у раскрсницу, јер ће због густине саобраћаја стати на пешачком прелазу или у раскрсници и тиме ће ометати саобраћај возила, односно пешака, ✓
- в) може возилом ући и стати у раскрсници, јер се крећете путем са првенством пролаза. 2

427. Звучни знак упозорења, на путу ван насеља, возач је дужан да употреби:

- а) када је укључено зелено светло на семафору, а возач возила испред њега није покренуо своје возило,
- б) када се возило које се креће истом саобраћајном траком у истом смеру креће споро, а не постоје услови за претицање,
- в) због упозорења другом учеснику у саобраћају када жели да га претекне или обиђе, ако би без тог знака постојала опасност настанка саобраћајне незгоде. ✓ 2

428. У ситуацији приказаној на слици возач возила означеног бројем 2, на путу ван насеља, уколико наставља претицање:




- а) није дужан да употреби звучни знак упозорења,
- б) дужан је да употреби звучни и светлосни знак упозорења,
- в) дужан је да употреби звучни знак упозорења. ✓ 2

429. У ситуацији приказаној на слици, уколико желите да наставите кретање:



- а) дужни сте да употребите звучни знак упозорења, ✓
- б) нисте дужни да употребите звучни знак упозорења,
- в) дужни сте да употребите звучни и светлосни знак упозорења. 2

430. У ситуацији приказаној на слици:




- а) светлосним и звучним знаком упозорења упозорићете возача возила испред да Вас омета спором вођњом,
- б) стрпљиво ћете наставити вођњу до места на којем можете извршити претицање, ✓
- в) звучним знаком упозорења упозорићете возача возила испред да Вас омета спором вођњом. 2

431. На путу ван насеља пре уласка у непрегледну и узану кривину или доласка на превој, где је мимоилажење отежано:

- а) возач је дужан да употреби звучни знак упозорења, ✓
- б) возач није дужан да употреби звучни знак упозорења. 2

432. У ситуацији приказаној на слици на уласку у непрегледну кривину:



- а) дужни сте да употребите звучни знак упозорења, ✓
- б) нисте дужни да употребите звучни знак упозорења. 2

433. Возач је дужан да звучни знак упозорења даје:

- а) у мери која је довољна да се други учесници у саобраћају упозоре, ✓
- б) тако да не траје дуже од 3 секунде,
- в) најмање 5 секунди. 2

434. У ситуацији приказаној на слици:



- а) светлосним и звучним знаком упозорења упозорићете возача возила испред Вас да убрза процес покретања,
- б) стрпљиво ћете сачекати да возач возила испред Вас настави кретање. ✓
- в) звучним знаком упозорења упозорићете возача возила испред Вас да убрза процес покретања. 2

435.	Ако се поред коловоза налази дете које не обраћа пажњу на кретање возила:	
	а) возач је дужан да употреби звучни знак упозорења, ✓	2
	б) возач није дужан да употреби звучни знак упозорења.	

436.	У ситуацији приказаној на слици:	
		
	а) дужни сте да употребите звучни знак упозорења, ✓	2
	б) нисте дужни да употребите звучни знак упозорења.	

437.	Возач ноћу, уместо звучног знака упозорења, може употребити:	
	а) трепћућа светла,	2
	б) светлосни знак упозорења, ✓	
	в) истовремено све показиваче правца.	

438.	Светлосни знак упозорења даје се узастопним или наизменичним паљењем:	
	а) позиционих светала,	2
	б) стоп светала,	
	в) дугих светала. ✓	

439.	Светлосни знак упозорења возач може да употреби:	
	а) само дању,	2
	б) ноћу и дању ако такав начин упозорења више одговара условима на путу, ✓	
	в) само ноћу.	

440.	Возач је на јавном путу дужан да укључи све показиваче правца на возилу: (Заокружити два тачна одговора)	
	а) за време уласка или изласка путника, ✓	2
	б) када се зауставио испред прелаза пута преко железничке пруге,	
	в) ако упозорава друге учеснике на опасност у саобраћају, ✓	
	г) када се креће као последњи у колони на путу ван насељеног места.	

441.	У ситуацији приказаној на слици, возач из чијег возила излазе путници:	
		
	а) дужан је да укључи све показиваче правца на возилу, ✓	2
	б) није дужан да укључи показиваче правца на возилу,	
	в) дужан је да укључи десни показивач правца на возилу.	

442.	Возач је на јавном путу дужан да укључи све показиваче правца на возилу: (Заокружити два тачна одговора)	
	а) у условима изразито смањене видљивости (густа магла, дим и сл.), ✓	2
	б) ако је последњи у колони возила која се зауставила на путу изван насеља, осим ако је колона заустављена због поступања по саобраћајном знаку или правилу саобраћаја, ✓	
	в) када се зауставио иза возила за организовани превоз деце у које деца улазе или излазе,	
	г) када се креће као последњи у колони на путу ван насељеног места.	

443.	У ситуацији приказаној на слици, возач последњег возила у заустављеној колони:	
		
	а) дужан је да укључи све показиваче правца на возилу, ✓	2
	б) дужан је да укључи леви показивач правца,	
	в) није дужан да укључи показиваче правца на возилу.	

444.	Возач је на јавном путу дужан да укључи све показиваче правца на возилу: (Заокружити два тачна одговора)	
	а) када врши полукружно окретање,	2
	б) ако се зауставио на коловозу због поступања по саобраћајном знаку или правилу саобраћаја,	
	в) ако се зауставио на коловозу, осим приликом паркирања на обележеном паркингу, односно због поступања по саобраћајном знаку или правилу саобраћаја, ✓	
	г) ако се креће уназад. ✓	

445.	У ситуацији приказаној на слици возач возила које се креће уназад:	
		
	а) дужан је да даје звучни знак упозорења,	2
	б) дужан је да укључи све показиваче правца на возилу, ✓	
	в) није дужан да укључи показиваче правца на возилу.	

446.	На месту на коме би заустављено, односно паркирано возило, угрожавало безбедност других учесника у саобраћају или представљало сметњу за нормално одвијање саобраћаја или кретање пешака:	2
	а) возач не сме да заустави, односно паркира возило, ✓ б) возач сме да заустави возило најдуже до 3 минута, в) сме да заустави, а не сме да паркира возило.	

447.	Возач који је возило зауставио на шинама, због неисправности, дужан је да:	2
	а) одмах предузме мере за поправку возила, б) возило одмах уклони са шина, а ако то није могуће, да одмах предузме потребне мере да возачи шинског возила ✓ на време буду упозорени на опасност, в) означи возило сигурносним троуглом и укључи све показиваче правца, док не отклони квар.	

448.	На јавном путу ван насеља, возач који зауставља или паркира возило, дужан је да:	2
	а) увек заустави или паркира возило на коловозу, б) увек када за то постоји могућност, заустави или паркира возило ван коловоза. ✓	

449.	Возач који зауставља или паркира возило на јавном путу на коме се саобраћај одвија у оба смера, дужан је да га заустави, односно паркира непосредно уз:	2
	а) десну ивицу коловоза, ✓ б) леву ивицу коловоза, в) десну или леву ивицу коловоза.	

450.	У ситуацији приказаној на слици, на путу на коме се саобраћај одвија у оба смера, возачу црвеног возила паркирање је дозвољено непосредно уз:	2
		
	а) десну ивицу коловоза, ✓ б) леву ивицу коловоза, в) десну или леву ивицу коловоза.	

451.	Возач који зауставља или паркира возило на јавном путу на коме се саобраћај одвија само у једном смеру, сме да га заустави, односно паркира:	2
	а) само уз десну ивицу коловоза, б) само уз леву ивицу коловоза, в) уз десну или леву ивицу коловоза. ✓	

452.	Уколико се уз десну ивицу коловоза налазе трамвајске или друге шине:	2
	а) возач не сме да заустави или паркира возило, ✓ б) возач сме да заустави или паркира возило, в) сме да заустави, а не сме да паркира возило.	

453.	У ситуацији приказаној на слици паркирање:	2
		
	а) није дозвољено, ✓ б) је дозвољено.	

454.	На местима која се налазе на средини коловоза, возач може да заустави или паркира возило:	2
	а) ако постоји довољно простора, б) само ако су та места обележена саобраћајном сигнализацијом као места за паркирање возила, ✓ в) ако тиме не омета друге учеснике у саобраћају.	

455.	У ситуацији приказаној на слици паркирање на пољу за усмеравање саобраћаја:	2
		
	а) је дозвољено, б) није дозвољено. ✓	

456.	Приликом паркирања возач:	2
	а) је дужан да возило паркира на једном паркинг месту предвиђеном за паркирање те врсте возила, ✓ б) може возило да паркира на више паркинг места уколико су димензије његовог возила такве да возило не може стати на једно место, в) може возило да паркира тако да делом прелази на суседно паркинг место за највише 50 см.	

457.	У ситуацији приказаној на слици непрописно су паркирана возила означена бројем:	2
		
	а) 2 и 3, б) 4 и 5, ✓ в) 2, 6 и 7, г) 3, 5 и 6.	

458. На заустављеном возилу дозвољено је отворати врата:

B а) само на оној страни возила која се налази уз ивицу коловоза,
C
D б) само када је активирана паркирна кочница,
F в) ако се тиме не омета кретање других учесника у саобраћају и не угрожава безбедност саобраћаја. ✓

2

465. Возач не сме да заустави или паркира возило:

а) само на раскрсници,
 б) на раскрсници као и на удаљености мањој од 10 m од најближе ивице попречног коловоза,
 в) на раскрсници као и на удаљености мањој од 5 m од најближе ивице попречног коловоза. ✓

2

459. Возач не сме да заустави или паркира возило:

а) на пешачком прелазу као и на удаљености мањој од 5 m од прелаза, ✓
 б) на пешачком прелазу као и на удаљености мањој од 10 m од прелаза,
 в) само на пешачком прелазу.

2

466. У ситуацији приказаној на слици прописно је паркирано возило означено бројем:

а) 1, ✓ б) 2, в) 1 и 2. **2**

460. Возач не сме да заустави или паркира возило:

а) на прелазу бицикличке стазе преко коловоза као и на удаљености мањој од 10 m од прелаза,
 б) на прелазу бицикличке стазе преко коловоза као и на удаљености мањој од 5 m од прелаза, ✓
 в) само на прелазу бицикличке стазе преко коловоза.

2

461. У ситуацији приказаној на слици прописно је паркирано возило означено бројем:

а) 1, ✓ б) 2, в) 1 и 2. **2**

467. Возач не сме да заустави или паркира возило: (Заокружити два тачна одговора)

а) у тунелу, ✓
 б) на успону,
 в) на путу ван насеља,
 г) у подвожњаку. ✓

2

462. Возач не сме да заустави или паркира возило:

а) на прелазу пута преко железничке пруге као и на удаљености мањој од 5 m од прелаза, ✓
 б) на прелазу пута преко железничке пруге као и на удаљености мањој од 10 m од прелаза,
 в) само на прелазу пута преко железничке пруге.

2

468. У ситуацији приказаној на слици:

а) није дозвољено заустављање и паркирање, ✓
 б) дозвољено је заустављање и паркирање,
 в) дозвољено је заустављање, а није дозвољено паркирање.

2

463. Возач не сме да заустави или паркира возило:

а) само на прелазу пута преко трамвајских шина,
 б) на прелазу пута преко трамвајских шина као и на удаљености мањој од 10 m од прелаза,
 в) на прелазу пута преко трамвајских шина као и на удаљености мањој од 5 m од прелаза. ✓

2

464. У ситуацији приказаној на слици, у близини трамвајских шина, прописно је паркирано:

а) црвено возило,
 б) плаво возило, ✓
 в) и црвено и плаво возило.

2

469. У ситуацији приказаној на слици:

а) дозвољено је само заустављање, а није дозвољено паркирање,
 б) дозвољено је заустављање и паркирање,
 в) није дозвољено заустављање и паркирање. ✓

2

470. У ситуацији приказаној на слици возило:



а) је прописно паркирано,
б) није прописно паркирано. ✓

2

471. Возач не сме да заустави или паркира возило на:
(Заокружити два тачна одговора)

а) мосту, ✓
б) успону, ✓
в) надвожњаку,
г) низбрдици.

2

472. У ситуацији приказаној на слици:



а) није дозвољено заустављање и паркирање, ✓
б) дозвољено је заустављање и паркирање,
в) дозвољено је заустављање, а није дозвољено паркирање.


2

473. Возач не сме да заустави или паркира возило:
(Заокружити два одговора)

а) на путу ван насеља,
б) у непрегледној кривини, ✓
в) на низбрдици,
г) у близини врха превоја. ✓

2

474. У ситуацији приказаној на слици, у близини врха превоја, заустављање и паркирање:



а) паркирање или заустављање возила је дозвољено,
б) паркирање или заустављање возила није дозвољено, ✓
в) дозвољено је заустављање, а није дозвољено паркирање возила.

2

475. У ситуацији приказаној на слици паркирање:



а) је дозвољено,
б) није дозвољено. ✓

2

476. Возач не сме да заустави или паркира возило:

а) на делу пута на коме постоји неискривљена разделна линија,
б) на делу пута на коме постоји удвојена неискривљена разделна линија,
в) на делу пута где би ширина слободног пролаза од заустављеног или паркираног возила до неискривљене разделне линије на коловозу била мања од три метра. ✓

2

477. Возач не сме да заустави или паркира возило:

а) на делу пута на коме постоји неискривљена ивична линија,
б) на делу пута где би ширина слободног пролаза од заустављеног или паркираног возила до супротне ивице коловоза била мања од три метра, ✓
в) на делу пута где би ширина слободног пролаза од заустављеног или паркираног возила до искривљене разделне линије на коловозу била мања од три метра.

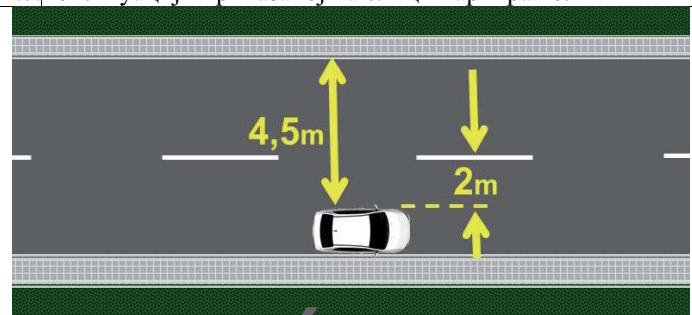
2

478. Возач не сме да заустави или паркира возило на делу пута где би ширина слободног пролаза од заустављеног или паркираног возила до препреке на путу била мања од:

а) 3 m, ✓
б) ширине возила,
в) 3,5 m.

2

479. У ситуацији приказаној на слици паркирање:



а) је дозвољено, ✓
б) није дозвољено.

2

480. У ситуацији приказаној на слици паркирање:



а) је дозвољено, ✓
б) није дозвољено.

2

481. У ситуацији приказаној на слици:





Забрањено је коришћење, односно повремено или стално умножавање базе података испитних питања или њених делова, било којим средствима и у било којој форми, у **комерцијалне сврхе**

	а) паркирање или заустављање возила је дозвољено, б) паркирање или заустављање возила није дозвољено, в) дозвољено је заустављање, а није дозвољено паркирање возила. ✓	2
--	---	---

487.	Возач сме да заустави или паркира возило испред и иза ознаке на коловозу којом је стајалиште возила јавног саобраћаја означено, на удаљености већој од: а) 5 m, б) 10 m, в) 15 m. ✓	2
------	--	---

482.	На месту на коме би возило заклањало саобраћајни знак возач: а) не сме да заустави или паркира возило, ✓ б) сме да заустави или паркира возило, в) сме да заустави, а не сме да паркира возило.	2
------	--	---

488.	На стајалишту за возила јавног саобраћаја возач: а) не сме да заустави или паркира возило, ✓ б) сме да заустави или паркира возило, в) сме да заустави, а не сме да паркира возило.	2
------	--	---

483.	У ситуацији приказаној на слици паркирање: 	2
	а) је дозвољено, б) није дозвољено. ✓	2

489.	У ситуацији приказаној на слици возило: 	2
	а) паркирање или заустављање возила је дозвољено, б) паркирање или заустављање возила није дозвољено, ✓ в) дозвољено је заустављање, а није дозвољено паркирање возила.	2

484.	Возач не сме да заустави или паркира возило: а) на бицикличичкој стази и бицикличичкој траци, ✓ б) само на бицикличичкој стази, в) само на бицикличичкој траци.	2
------	--	---

485.	У ситуацији приказаној на слици заустављање возила: 	2
	а) је дозвољено, б) није дозвољено, ✓ в) је дозвољено само возилима којима се обавља ауто такси превоз путника.	2

490.	У ситуацији приказаној на слици возило: 	2
	а) је прописно заустављено, б) није прописно заустављено. ✓	2

486.	У ситуацији приказаној на слици паркирање возила: 	2
	а) је дозвољено, б) није дозвољено, ✓ в) је дозвољено само возилима којима се обавља ауто такси превоз путника.	2

491.	У ситуацији приказаној на слици возило: 	2
	а) је прописно заустављено, б) није прописно заустављено. ✓	2



492. У ситуацији приказаној на слици, на стајалишту возила јавног градског превоза:



а) паркирање и заустављање, свих возила није дозвољено,
 б) дозвољено је паркирање и заустављање, возила којима се обавља ауто такси превоз путника,
 в) дозвољено је заустављање возила којима се обавља ауто такси превоз путника. ✓

2

496. У ситуацији приказаној на слици:



а) паркирање или заустављање возила је дозвољено,
 б) паркирање или заустављање возила није дозвољено,
 в) дозвољено је заустављање, а није дозвољено паркирање возила. ✓

2

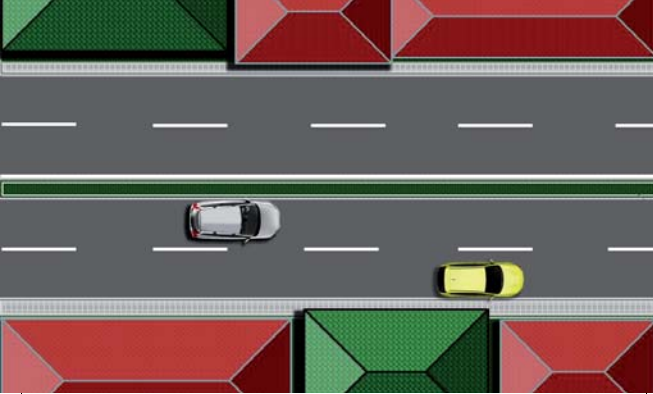
493. У ситуацији приказаној на слици:



а) паркирање или заустављање возила је дозвољено,
 б) паркирање или заустављање возила није дозвољено,
 в) дозвољено је заустављање, а није дозвољено паркирање возила. ✓

2

497. У ситуацији приказаној на слици паркирање или заустављање возила:



а) жуте боје је дозвољено,
 б) беле боје је дозвољено,
 в) није дозвољено. ✓

2

494. У ситуацији приказаној на слици:



а) паркирање или заустављање возила је дозвољено,
 б) паркирање или заустављање возила није дозвољено, ✓
 в) дозвољено је заустављање, а није дозвољено паркирање возила.

2

498. У ситуацији приказаној на слици:



а) паркирање или заустављање возила је дозвољено,
 б) дозвољено је заустављање, а није дозвољено паркирање возила, ✓
 в) паркирање или заустављање возила није дозвољено.

2

495. На путу на коме су коловозне траке физички одвојене:

а) паркирање или заустављање возила је дозвољено,
 б) паркирање или заустављање возила није дозвољено, ✓
 в) дозвољено је заустављање, а није дозвољено паркирање возила.

2

499. Возач не сме да заустави или паркира возило: (Заокружити два одговора)

а) изнад улаза у канализацију, ✓
 б) у близини стуба јавне расвете,
 в) у близини школе,
 г) изнад прикључка на водоводну мрежу. ✓

2



Забрањено је коришћење, односно повремено или стално умножавање базе података испитних питања или њених делова, било којим средствима и у било којој форми, у **комерцијалне сврхе**

500.	Изнад прикључка на водоводну мрежу и улаза у канализацију или другу мрежу комуналних служби, возачу возила којим се обавља ауто такси превоз путника:	2
	а) дозвољено је заустављање или паркирање возила, б) није дозвољено заустављање или паркирање возила, в) дозвољено је заустављање или паркирање возила, и то само за време потребно за улазак, односно излазак путника. ✓	

501.	На месту на коме би се онемогућио приступ другом возилу ради паркирања или излазак неком већ паркираном возилу:	2
	а) дозвољено је само заустављање, а није дозвољено паркирање, б) дозвољено је заустављање и паркирање, в) није дозвољено заустављање и паркирање. ✓	

502.	У ситуацији приказаној на слици, возачу плавог возила:	2
		
	а) паркирање или заустављање је дозвољено, б) паркирање или заустављање није дозвољено, ✓ в) дозвољено је заустављање, а није дозвољено паркирање.	

503.	У ситуацији приказаној на слици:	2
		
	а) паркирање или заустављање возила је дозвољено, б) паркирање или заустављање возила није дозвољено, ✓ в) дозвољено је заустављање, а није дозвољено паркирање возила.	

504.	У ситуацији приказаној на слици:	2
		
	а) паркирање или заустављање возила је дозвољено, б) дозвољено је заустављање, а није дозвољено паркирање возила, ✓ в) паркирање или заустављање возила није дозвољено.	

505.	На тротоару, заустављање или паркирање возила:	2
	а) је дозвољено, б) није дозвољено, ✓ в) је дозвољено ако остане слободан пролаз за пешаке најмање ширине 1,60 m, који није уз ивицу коловоза.	

506.	Када је саобраћајном сигнализацијом дозвољено заустављање или паркирање возила на тротоару, ширина слободног пролаза за пешаке, који није уз ивицу коловоза, мора бити најмање:	2
	а) 0,80 m, б) 1,60 m, ✓ в) 2,40 m.	

507.	У ситуацији приказаној на слици паркирање возила на тротоару:	2
		
	а) је дозвољено, б) није дозвољено, ✓ в) је дозвољено уколико је остављен слободан пролаз за пешаке најмање ширине 1,60 m, који није уз ивицу коловоза.	

508.	У ситуацији приказаној на слици паркирање возила:	2
		
	а) је дозвољено без обзира на ширину остављеног слободног пролаза за пешаке, б) није дозвољено, в) је дозвољено уколико је остављен слободан пролаз за пешаке најмање ширине 1,60 m. ✓	

509.	У ситуацији приказаној на слици паркирање возила је извршено на:	2
		
	а) прописан начин, б) непрописан начин, в) прописан начин уколико је остављен слободан пролаз за пешаке најмање ширине 1,60 m. ✓	



510. У ситуацији приказаној на слици возила су заустављана и паркирана на:



а) прописан начин,
 б) непрописан начин. ✓

2

511. На пешачкој стази заустављање или паркирање возила:

а) је дозвољено када остане слободан пролаз за пешаке најмање ширине 1,60 метара који није уз ивицу коловоза,
 б) је дозвољено,
 в) није дозвољено. ✓

2

512. У ситуацији приказаној на слици заустављање возила:



а) је дозвољено,
 б) није дозвољено, ✓
 в) је дозвољено уколико је остављен слободан пролаз за пешаке најмање ширине 1,60 m.

2

513. У ситуацији приказаној на слици заустављање возила:



а) је дозвољено,
 б) је дозвољено уколико је остављен слободан пролаз за пешаке најмање ширине 1,60 m, ✓
 в) није дозвољено.

2

514. На делу тротоара који је намењен за кретање лица са посебним потребама, заустављање или паркирање возила:

а) је дозвољено,
 б) је дозвољено када остане слободан пролаз за пешаке најмање ширине 1,60 метара који није уз ивицу коловоза,
 в) није дозвољено. ✓

2

515. У ситуацији приказаној на слици заустављање возила:



а) је дозвољено,
 б) није дозвољено, ✓
 в) је дозвољено уколико је остављен слободан пролаз за пешаке најмање ширине 1,60 m.

2

516. На трговима, на пешачкој зони и противпожарном путу:

а) није дозвољено заустављање или паркирање возила, ✓
 б) дозвољено је заустављање или паркирање возила,
 в) дозвољено је заустављање, а није дозвољено паркирање возила.

2

517. У ситуацији приказаној на слици (трг):



а) паркирање или заустављање возила је дозвољено,
 б) паркирање или заустављање возила није дозвољено, ✓
 в) дозвољено је заустављање, а није дозвољено паркирање возила.

2


518. У ситуацији приказаној на слици:



а) паркирање или заустављање возила није дозвољено, ✓
 б) паркирање или заустављање возила је дозвољено,
 в) дозвољено је заустављање, а није дозвољено паркирање возила.

2

519. У ситуацији приказаној на слици:



а) паркирање или заустављање возила је дозвољено,
 б) паркирање или заустављање возила није дозвољено, ✓
 в) дозвољено је заустављање, а није дозвољено паркирање возила.

2

524. На месту приказаном на слици, између два паркирана возила, паркирање:



а) је дозвољено,
 б) није дозвољено, ✓
 в) је дозвољено само возилима којима се обавља ауто такси превоз путника.

2

520. У ситуацији приказаној на слици:



а) паркирање или заустављање возила је дозвољено,
 б) дозвољено је заустављање, а није дозвољено паркирање возила,
 в) паркирање или заустављање возила није дозвољено. ✓

2

525. У ситуацији приказаној на слици паркирање возила:



а) је дозвољено,
 б) није дозвољено, ✓
 в) је дозвољено уколико слободан простор омогућава пролаз возила.

2

521. На приступној саобраћајници, колском пролазу између стамбених зграда, односно пролазима у блоковима насеља:

а) није дозвољено заустављање или паркирање возила, ✓
 б) дозвољено је заустављање, а није дозвољено паркирање возила,
 в) дозвољено је заустављање или паркирање возила.

2

526. У ситуацији приказаној на слици заустављање возила:



а) није дозвољено, ✓
 б) је дозвољено,
 в) је дозвољено уколико слободан простор омогућава пролаз возила.

2

522. На саобраћајницама ван уличних паркиралишта које повезују паркинг просторе и стамбене зграде са другим саобраћајницама:

а) дозвољено је заустављање или паркирање возила,
 б) није дозвољено заустављање или паркирање возила, ✓
 в) дозвољено је заустављање, а није дозвољено паркирање возила.

2

527. На саобраћајној траци за укључивање, искључивање, саобраћајној траци за возила јавног превоза и трамвајској баштици:

а) дозвољено је заустављање или паркирање возила,
 б) није дозвољено заустављање или паркирање возила, ✓
 в) дозвољено је заустављање, а није дозвољено паркирање возила.

2

523. На колском улазу, односно излазу из зграде, дворишта или гараже:

а) дозвољено је заустављање, а није дозвољено паркирање возила,
 б) није дозвољено заустављање или паркирање возила, ✓
 в) дозвољено је заустављање или паркирање возила.

2

528. У ситуацији приказаној на слици:



а) паркирање или заустављање возила је дозвољено,
 б) паркирање или заустављање возила није дозвољено, ✓
 в) дозвољено је заустављање, а није дозвољено паркирање возила.

2

532. На паркинг месту које је допунском таблом саобраћајног знака или ознаком на коловозу, обележено као место за паркирање за возила за особе са инвалидитетом, дозвољено је заустављање или паркирање:

а) само возила које је означено одговарајућом ознаком, ✓
 б) возила које је означено одговарајућом ознаком и возила под пратњом,
 в) возила које је означено одговарајућом ознаком или возила чији власник поседује писани доказ о инвалидитету и који је поставио на видном месту у возилу.

2


529. У ситуацији приказаној на слици:



а) паркирање или заустављање возила је дозвољено,
 б) дозвољено је заустављање, а није дозвољено паркирање возила,
 в) паркирање или заустављање возила није дозвољено. ✓

2

533. У ситуацији приказаној на слици дозвољено је паркирање:



а) само возила које је означено одговарајућом ознаком, ✓
 б) возила које је означено одговарајућом ознаком и возила под пратњом,
 в) возила које је означено одговарајућом ознаком или возила чији власник поседује писани доказ о инвалидитету и који је поставио на видном месту у возилу.

2

530. У ситуацији приказаној на слици:



а) паркирање или заустављање возила није дозвољено, ✓
 б) паркирање или заустављање возила је дозвољено,
 в) дозвољено је заустављање, а није дозвољено паркирање возила.

2

534. На паркинг месту које је допунском таблом саобраћајног знака или ознаком на коловозу, означено као место резервисано за возила одређених корисника, дозвољено је паркирање или заустављање:

а) само возила означених корисника, ✓
 б) возила означених корисника и возила под пратњом,
 в) возила означених корисника и возила са инвалидитетом.

2

531. На паркинг месту које је допунском таблом саобраћајног знака или ознаком на коловозу обележено као место за паркирање за возила за особе са инвалидитетом, ако на возилу не поседује одговарајућу ознаку:

а) није дозвољено заустављање или паркирање возила, ✓
 б) дозвољено је заустављање или паркирање возила,
 в) дозвољено је заустављање, а није дозвољено паркирање возила.

2

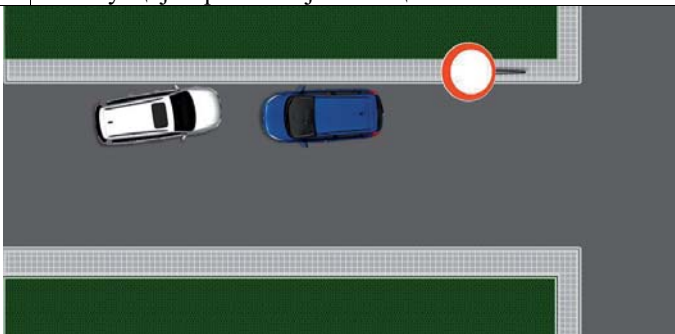
535. На површинама на којима је саобраћајном сигнализацијом забрањен саобраћај возила:

а) паркирање или заустављање возила је дозвољено,
 б) паркирање или заустављање возила није дозвољено, ✓
 в) дозвољено је заустављање, а није дозвољено паркирање возила.

2



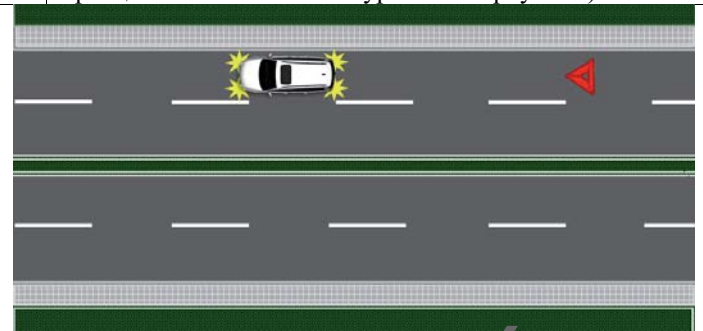
536. У ситуацији приказаној на слици:



- а) паркирање или заустављање возила је дозвољено,
- б) паркирање или заустављање возила није дозвољено, ✓
- в) дозвољено је заустављање, а није дозвољено паркирање возила.

2

540. У ситуацији приказаној на слици принудно заустављено возило (са укљученим свим показивачима правца и постављеним сигурносним троуглом):



- В а) означено је на прописан начин, ✓
- С б) није означено на прописан начин.
- Д
- Ф

2

537. Када је принуђен да возило заустави на коловозу на месту на којем је забрањено заустављање или паркирање возила, возач је дужан:

- В а) само да возило обележи сигурносним троуглом,
- С б) само да укључи све показиваче правца,
- Д в) да возило обележи сигурносним троуглом и да укључи све показиваче правца. ✓
- Ф

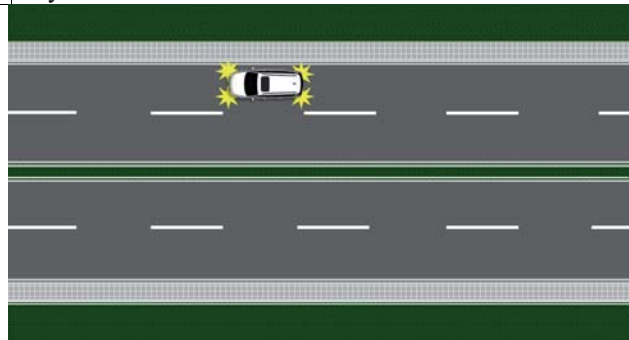
2

541. Када је возило зауставио на коловозу на таквом месту да возачи возила која се крећу истим смером не могу или тешко могу благовремено да уоче возило, возач је дужан:

- В а) само да возило обележи сигурносним троуглом,
- С б) само да укључи све показиваче правца,
- Д в) да возило обележи сигурносним троуглом и да укључи све показиваче правца. ✓
- Ф

2

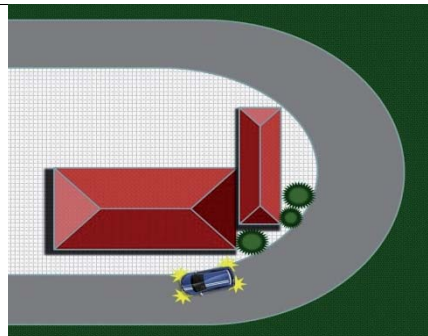
538. У ситуацији приказаној на слици принудно заустављено возило:



- В а) означено је на прописан начин,
- С б) није означено на прописан начин. ✓
- Д
- Ф

2

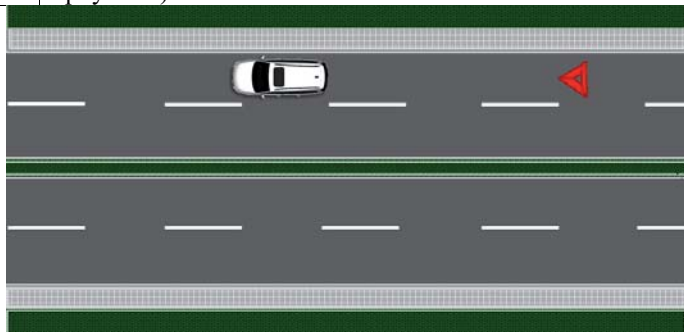
542. У ситуацији приказаној на слици возило које је заустављено на месту да возачи возила која се крећу истим смером не могу или тешко могу благовремено да га уоче:



- В а) означено је на прописан начин, ✓
- С б) није означено на прописан начин.
- Д
- Ф

2

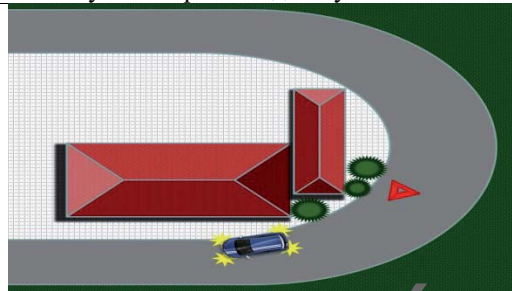
539. У ситуацији приказаној на слици принудно заустављено возило (са постављеним сигурносним троуглом):



- В а) означено је на прописан начин, ✓
- С б) није означено на прописан начин.
- Д
- Ф

2

543. У ситуацији приказаној на слици возило (са укљученим свим показивачима правца и постављеним сигурносним троуглом) које је заустављено на месту да возачи возила која се крећу истим смером не могу или тешко могу благовремено да га уоче:



- В а) означено је на прописан начин, ✓
- С б) није означено на прописан начин.
- Д
- Ф

2



544. На путу ван насеља, као и на путу у насељу ноћу или у условима смањене видљивости када је место на коме се возило зауставља недовољно осветљено, возач је дужан:

B а) само да возило обележи сигурносним троуглом,
C б) само да укључи све показиваче правца,
D в) да возило обележи сигурносним троуглом и да укључи све показиваче правца. ✓
F 2

545. У ситуацији приказаној на слици заустављено возило:



B а) је означено на прописан начин, ✓
C б) није означено на прописан начин.
D
F 2

546. У ситуацији приказаној на слици заустављено возило:



B а) је означено на прописан начин,
C б) није означено на прописан начин. ✓
D
F 2

547. У ситуацији приказаној на слици заустављено возило:



B а) је означено на прописан начин, ✓
C б) није означено на прописан начин. ✓
D
F 2

548. Сигурносни троугао поставља се на коловоз иза заустављеног возила, у вертикалном положају, тако да возач који наилази из смера на коме је знак постављен може благовремено да заустави своје возило, односно да безбедно обиђе заустављено возило, при чему

његова удаљеност од заустављеног возила на путу ван насеља не може бити мања од:

B а) 10 m,
C б) 50 m, ✓
D в) 80 m.
F 2

549. У ситуацији приказаној на слици сигурносни троугао:



B а) је постављен на прописаној удаљености, ✓
C б) није постављен на прописаној удаљености.
D
F 2

550. Сигурносни троугао поставља се на коловоз иза заустављеног возила, у вертикалном положају, тако да возач који наилази из смера на коме је знак постављен може благовремено да заустави своје возило, односно да безбедно обиђе заустављено возило, при чему његова удаљеност од заустављеног возила на путу у насељу не може бити мања од:

B а) 10 m, ✓
C б) 50 m,
D в) 80 m.
F 2

551. У ситуацији приказаној на слици сигурносни троугао:




B а) је постављен на прописаној удаљености, ✓
C б) није постављен на прописаној удаљености.
D
F 2

552. Када је на коловозу заустављена колона моторних возила, на прописаном одстојању од последњег возила у колони:

а) мора бити постављен један сигурносни троугао,
 б) морају бити постављена два сигурносна троугла, један иза другог на међусобном одстојању од најмање 10 m,
 в) морају бити постављена два сигурносна троугла, један поред другог. ✓

F 2

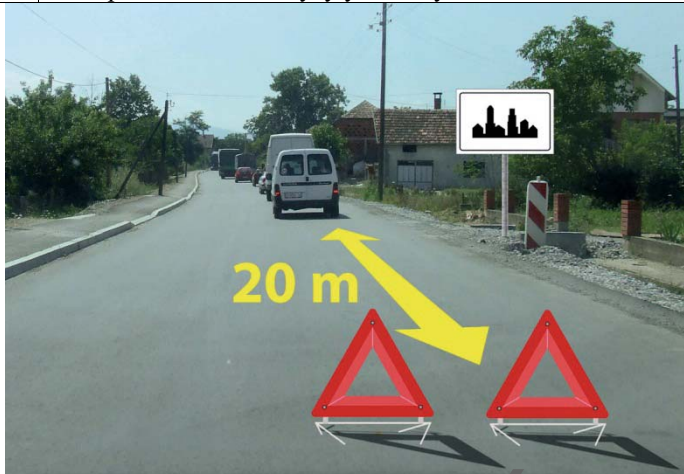
553. У ситуацији приказаној на слици колона заустављених моторних возила на путу у насељу:



B а) је означена на прописан начин, ✓
C б) није означена на прописан начин.
D
F

2


554. У ситуацији приказаној на слици колона заустављених моторних возила на путу у насељу:



B а) је означена на прописан начин, ✓
C б) није означена на прописан начин.
D
F

2

555. У ситуацији приказаној на слици колона заустављених моторних возила на путу ван насеља:



B а) је означена на прописан начин, ✓
C б) није означена на прописан начин.
D
F

2

556. У ситуацији приказаној на слици колона заустављених моторних возила на путу ван насеља:



B а) је означена на прописан начин, ✓
C б) није означена на прописан начин.
D
F

2

557. Возач је дужан да носи светлоодбојни прслук када се налази на коловозу, ван свог возила:

а) само ноћу и у условима смањене видљивости, ✓
 б) без обзира које је доба дана, какви су услови видљивости и колики је период задржавања на коловозу, ✓
 в) само у случају саобраћајне незгоде.

2

558. Пре него што напусти паркирано возило возач мора да: *(Заокружити два тачна одговора)*

а) предузме све потребне мере ради обезбеђења возила од неовлашћене употребе, ✓
 б) постави сигурносни троугао иза паркираног возила на путу,
 в) предузме све потребне мере којима се спречава да се возило само покрене са места на коме је паркирано, ✓
 г) укључи све показиваче правца,
 д) укључи све показиваче правца и постави сигурносни троугао иза паркираног возила на путу.

2

559. Пре него што напусти паркирано возило, возач мора да:

а) укључи све показиваче правца,
 б) предузме потребне мере којима се спречава да се возило само покрене са места на коме је паркирано, ✓
 в) постави сигурносни троугао иза паркираног возила на путу.

2

560. Пре него што напусти паркирано возило, возач мора да:

а) укључи све показиваче правца,
 б) предузме потребне мере којима се спречава да се возило само покрене са места на коме је паркирано, ✓
 в) постави сигурносни троугао иза паркираног возила на путу.

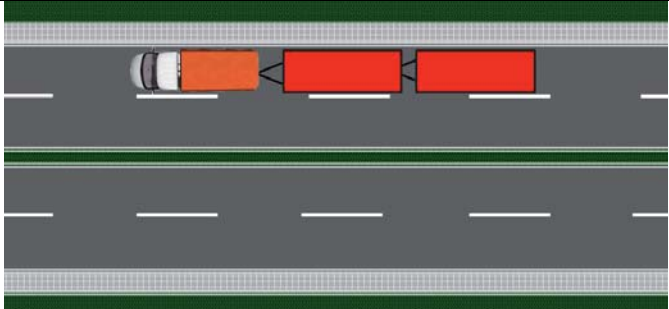
2

561. У саобраћају на путу, који није аутопут ни мотопут, моторном возилу могу бити:

а) придодата највише три прикључна возила за превоз терета,
 б) придодата највише два прикључна возила за превоз терета, ✓
 в) придодато највише једно прикључно возило за превоз терета.

2

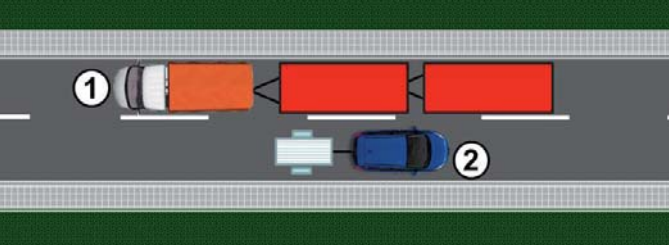
562. У ситуацији приказаној на слици возило вуче прикључна возила:



B а) на прописан начин, само уколико се не креће на аутопуту,
C б) на прописан начин, само уколико се не креће на аутопуту или мотопуту, ✓
D в) на непрописан начин.

2

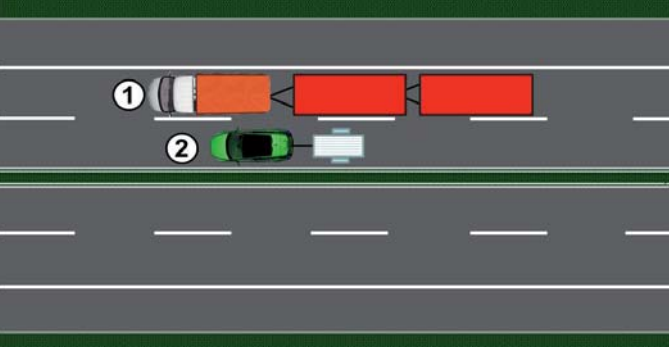
563. У ситуацији приказаној на слици на прописан начин вуче прикључна возила:



B а) возило број 1,
C б) возило број 2,
D в) оба возила. ✓
F

2

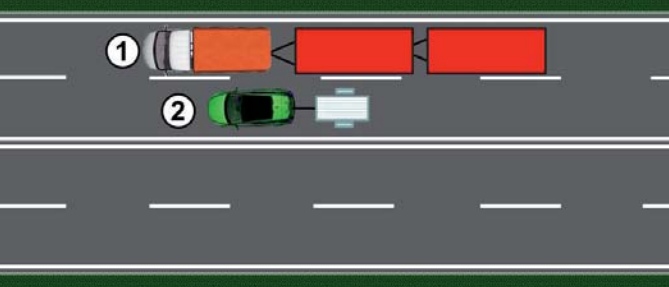
564. У ситуацији приказаној на слици, на аутопуту, на прописан начин вуче прикључна возила:



B а) возило број 1, ✓
C б) возило број 2,
D в) оба возила.

2

565. У ситуацији приказаној на слици, на мотопуту, на прописан начин вуче прикључна возила:



B а) возило број 1,
C б) возило број 2, ✓
D в) оба возила.

2

566. У саобраћају на аутопуту и мотопуту, моторном возилу може бити придодато највише:

B а) три прикључна возила за превоз терета,
C б) два прикључна возила за превоз терета,
D в) једно прикључно возило за превоз терета. ✓

2

567. У саобраћају на аутопуту и мотопуту, моторном возилу може бити придодато највише:

B а) три прикључна возила за превоз лица,
C б) два прикључна возила за превоз лица,
D в) једно прикључно возило за превоз лица. ✓

2

568. У саобраћају на путу, који није аутопут ни мотопут, моторном возилу може бити придодато највише:

B а) три прикључна возила за превоз лица,
C б) два прикључна возила за превоз лица,
D в) једно прикључно возило за превоз лица. ✓
F

2

569. Трактор сме да вуче:

F а) само прикључно возило за трактор, ✓
 б) прикључно возило за трактор и остала прикључна возила,
 в) прикључно возило за трактор и запрежно возило.

2

570. Моторно возило:

B а) може да вуче сва прикључна возила, чија конструкција омогућава вучење од стране моторног возила,
C б) не сме да вуче прикључно возило за трактор, осим ако је вучно возило трактор, ✓
D в) може да вуче прикључно возило за трактор и када вучно возило није трактор, само када прикључно возило има уређај за заустављање.

2

571. Прикључно возило за трактор може бити вучено од стране:

B а) свих моторних возила, када конструкција моторног и прикључног возила то омогућава,
C б) трактора, ✓
D в) трактора и мотокултиватора.
F

2

572. Прикључно возило у коме се превозе путници може бити придодато:

D а) само аутобусима у јавном градском, односно приградском превозу, ✓
 б) свим возилима за превоз путника,
 в) свим аутобусима.

2

573. Вучење неисправног возила није дозвољено:

B а) само на аутопуту,
C б) само на мотопуту,
D в) на аутопуту и мотопуту. ✓

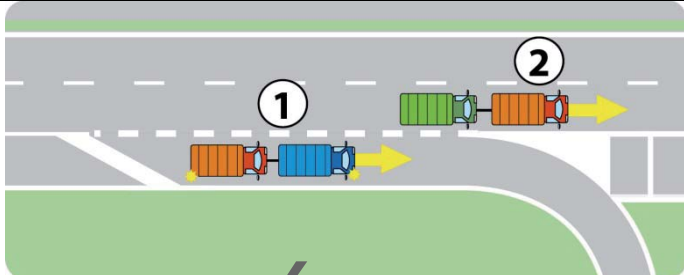
2

574. Уколико је разлог за вучу настао за време кретања моторног возила по аутопуту, односно мотопуту, вучење:

B а) је дозвољено до првог искључења са аутопута, односно мотопута, ✓
C б) је дозвољено до искључења за место где ће се отклонити неисправност возила које се вуче,
D в) није дозвољено.

2

575. У ситуацији приказаној на слици, на аутопуту, вучење неисправног возила на прописан начин врши:



B а) возило број 1, ✓
C б) возило број 2,
D в) оба возила. 2

576. Моторно возило може да вуче друго моторно возило:

B а) само ако вучено возило није у возном стању, ✓
C б) само ако је вученом возилу истекла регистрациона налепница,
D в) само ако је намењено за уклањање непрописно паркираних возила. 2

577. У ситуацији приказаној на слици вучење возила које је у возном стању:



B а) врши се на прописан начин, ✓
C б) не врши се на прописан начин,
 в) врши се на прописан начин само ако је вучно возило намењено за уклањање непрописно паркираних возила. 2

578. У ситуацији приказаној на слици вучење возила које је у возном стању:



B а) врши се на прописан начин, ✓
C б) не врши се на прописан начин,
 в) врши се на прописан начин само ако је вучно возило намењено за уклањање непрописно паркираних возила. 2

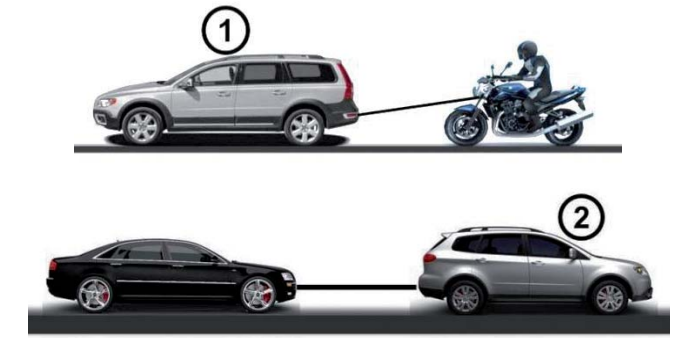
579. Моторно возило које због неисправности не може само да се креће и којем је истекла важност регистрационе налепнице:

B а) не може бити вучено од стране другог моторног возила,
C б) може бити вучено само од стране моторног возила које је намењено за уклањање непрописно паркираних возила,
D в) може бити вучено од стране другог моторног возила. ✓ 2

580. Моторним возилом није дозвољено да се вуче: (Заокружити три тачна одговора)

а) мопед, ✓
 б) путничко возило, ✓
 в) мотоцикл, ✓
 г) теретно возило
 д) лаки и тешки трицикл, ✓
 е) лаки и тешки четвороцикл. 2

581. У ситуацији приказаној на слици, вучење неисправног возила на прописан начин врши:



а) возило број 1,
 б) возило број 2, ✓
 в) оба возила. 2

582. Помоћу ужета није дозвољено да се вуче: (Заокружити два тачна одговора)

B а) аутобус, ✓
C б) теретно возило, ✓
D в) путничко возило,
F г) тешки четвороцикл. 2

583. Помоћу ужета није дозвољено да се вуче моторно возило на коме је неисправан: (Заокружити два тачна одговора)

B а) уређај за управљање, ✓
C б) уређај за пренос снаге,
D в) уређај за заустављање, ✓
F г) погонски уређај – мотор. 2

584. Крутом везом није дозвољено да се вуче моторно возило: (Заокружити два тачна одговора)

B а) чија је укупна маса већа од укупне масе вучног возила и коме је неисправна радна кочница, ✓
C б) које нема исправан уређај за управљање, ✓
D в) које нема исправан погонски уређај - мотор,
F г) чија је највећа дозвољена маса већа од укупне масе вучног возила. 2

585. Када се моторно возило вуче, лице које управља вученим возилом:

B а) мора да има одговарајућу дозволу за управљање возилом оне категорије којој припада возило које се вуче, ✓
C б) мора да има одговарајућу дозволу за управљање возилом оне категорије којој припада вучно возило,
D в) мора да има возачку дозволу за управљање моторним возилима категорије С. 2

© Забрањено је коришћење, односно повремено или стално умножавање базе података испитних питања или њених делова, било којим средствима и у било којој форми, у **комерцијалне сврхе**

586. На моторном возилу које вуче неисправно моторно возило:
(Заокружити два тачна одговора)

B а) морају бити укључени сви показивачи правца, ✓
C б) не морају бити укључени сви показивачи правца,
D в) на предњој страни возила мора бити постављен сигурносни троугао, ✓
F г) не мора бити постављен сигурносни троугао. **2**

587. У ситуацији приказаној на слици моторно возило које вуче неисправно моторно возило:



B а) испуњава прописане услове за вучу неисправних возила, ✓
C б) не испуњава прописане услове за вучу неисправних возила. **2**

588. У ситуацији приказаној на слици моторно возило које вуче неисправно моторно возило:



B а) испуњава прописане услове за вучу неисправних возила, ✓
C б) не испуњава прописане услове за вучу неисправних возила. **2**

589. У ситуацији приказаној на слици моторно возило које вуче неисправно моторно возило:



B а) испуњава прописане услове за вучу неисправних возила, ✓
C б) не испуњава прописане услове за вучу неисправних возила. **2**

590. На моторном возилу које се вуче од стране другог моторног возила:
(Заокружити два тачна одговора)

B а) не морају бити укључени сви показивачи правца,
C б) морају бити укључени сви показивачи правца, уколико су исправни, ✓
D в) не мора бити постављен сигурносни троугао,
F г) на задњој страни возила мора бити постављен сигурносни троугао. **2**

591. У ситуацији приказаној на слици неисправно моторно возило које се вуче:



B а) испуњава прописане услове да буде вучено, ✓
C б) не испуњава прописане услове да буде вучено.
D **2**

592. У ситуацији приказаној на слици неисправно моторно возило које се вуче:



B а) испуњава прописане услове да буде вучено,
C б) не испуњава прописане услове да буде вучено. ✓
D **2**

593. У моторном возилу које се вуче од стране другог моторног возила:

B а) дозвољен је превоз три лица,
C б) није дозвољен превоз лица, осим возача који њиме управља, ✓
D в) може се превозити онолико лица колико има места предвиђених за седење, под условом да се вучење врши крутом везом. **2**

594. Ноћу и дању у случају смањене видљивости, дозвољена је вуча неисправног моторног возила:

B а) ако на својој задњој страни има исправне катадиоптере или ако је вучено од стране моторног возила које при вучењу има укључено плаво трепћуће или ротационо светло,
C б) ако на својој задњој страни има укључена задња позициона светла или ако је вучено од стране моторног возила које при вучењу има укључено жуто ротационо светло, ✓
D в) ако на својој задњој страни има исправно задње светло за маглу или ако је вучено од стране моторног возила које при вучењу има укључено плаво или жуто трепћуће, односно ротационо светло. **2**

595. Одстојање између вучног и вученог моторног возила, ако се вуче ужетом, мора да износи:

B а) од 3 m до 5 m, ✓
C б) више од 5 m,
D в) од 2 m до 4 m. **2**

Забрањено је коришћење, односно повремено или стално умножавање базе података испитних питања или њених делова, било којим средствима и у било којој форми, у **комерцијалне сврхе**

596.	Одстојање између вучног и вученог моторног возила, ако се вуче помоћу круте везе:	
B	а) мора да износи од 3 m до 5 m,	
C	б) мора да износи мање од 3 m,	
D	в) може да износи и мање од 3 m али не више од 5 m. ✓	2
F		

У ситуацији приказаној на слици одстојање између вучног и вученог моторног возила које се вуче помоћу круте везе:



B	а) мора да износи од 3 m до 5 m,	
C	б) мора да износи мање од 3 m,	
D	в) може да износи и мање од 3 m али не више од 5 m. ✓	2
F		

У ситуацији приказаној на слици одстојање између вучног и вученог моторног возила које се вуче ужетом мора да износи:



B	г) од 3 до 5 m, ✓	
C	д) више од 5 m,	
D	е) од 2 до 4 m.	
F		2

599.	Моторно возило које на путу вуче неисправно возило не сме се кретати брзином већом од:	
B	а) 60 km/h,	б) 50 km/h,
C		в) 40 km/h. ✓
D		
F		2

У ситуацији приказаној на слици моторно возило које на путу вуче неисправно моторно возило не сме се кретати брзином већом од:



B	а) 60 km/h,	б) 50 km/h,	в) 40 km/h. ✓
C			
D			
F			2

601.	Вучење натовареног теретног возила:	
B	а) дозвољено је само до првог места погодног за претовар терета, а изузетно и до првог места на коме се може отклонити неисправност на возилу, ✓	
C	б) није дозвољено,	
D	в) дозвољено је само ако је укупна маса теретног возила које се вуче мања за 50 % од укупне масе вучног возила.	2
F		

602.	Вучење натовареног теретног возила са прикључним возилом:	
B	а) није дозвољено,	
C	б) дозвољено је само до првог места погодног за претовар терета, а изузетно и до првог места на коме се може отклонити неисправност на возилу, ✓	
D	в) дозвољено је само вучење теретног или прикључног возила.	2
F		

603.	Вучење трактора са натовареним прикључним возилом за трактор:	
C	а) није дозвољено,	
D	б) дозвољено је само вучење трактора или прикључног возила за трактор,	
F	в) дозвољено је само до првог места погодног за претовар терета, а изузетно и до првог места на коме се може отклонити неисправност на возилу. ✓	2

604.	На моторном возилу за време вожње дању у саобраћају на путу морају бити укључена:	
	а) дуга светла,	
	б) кратка, односно дневна светла, ✓	
	в) светла за осветљавање места где се изводе радови,	
	г) светла за маглу.	2

605.	На моторном возилу за време вожње ноћу у саобраћају на путу, морају бити укључена:	
	а) светла за маглу,	
	б) кратка, односно дневна светла,	
	в) дуга светла, ✓	
	г) светла за осветљавање места где се изводе радови.	2

606.	На моторном возилу за време вожње ноћу у саобраћају на путу, возач је дужан да уместо дугих светала употребљава кратка: (Заокружити два тачна одговора)	
	а) кад при мимоилажењу са другим возилом оцени да светлом свог возила заслепљује возача возила које му долази у сусрет, а увек на одстојању мањем од 250 m,	
	б) ако омета возача испред себе, ✓	
	в) на путу у насељу,	
	г) кад при мимоилажењу са другим возилом оцени да светлом свог возила заслепљује возача возила које му долази у сусрет, а увек на одстојању мањем од 200 m. ✓	2

607.	На моторном возилу за време вожње ноћу у саобраћају на путу, возач је дужан да уместо дугих светала употребљава кратка: (Заокружити два тачна одговора)	
	а) на одстојању мањем од 250 m од возила које му долази у сусрет,	
	б) у тунелу, ✓	
	в) на путу осветљеном уличном расветом, ✓	
	г) на путу у насељу.	2

608.	На моторном возилу за време вожње ноћу у саобраћају на путу, возач је дужан да уместо дугих светала употребљава кратка: (<i>Заокружити два тачна одговора</i>)	
	а) ако омета управљача шинског возила или пловила, ✓	2
	б) на путу у насељу на одстојању мањем од 250 m од возила које му долази у сусрет,	
	в) за време магле, ✓	
	г) на путу у насељу.	

609.	На моторном возилу за време вожње ноћу у саобраћају на путу, возач је дужан да уместо дугих светала употребљава кратка: (<i>Заокружити два тачна одговора</i>)	
	а) када је возило заустављено, ✓	2
	б) на путу у насељу на одстојању мањем од 250 m од возила које му долази у сусрет,	
	в) на путу осветљеном уличном расветлом, ✓	
	г) на путу у насељу.	

610.	За време магле, на моторном возилу морају да буду укључена:	
	а) кратка светла, односно светла за маглу или обе врсте светала, ✓	2
	б) дуга светла,	
	в) дневна светла.	

611.	Заустављено или паркирано возило на коловозу, ноћу и у условима смањене видљивости:	
	а) мора имати укључена позициона, односно паркирна светла, ✓	2
	б) не мора имати укључена светла,	
	в) мора имати укључена кратка светла.	

612.	На возилу које је заустављено или паркирано на коловозу, ноћу и у условима смањене видљивости, на делу пута где је улично осветљење такво да је возило довољно видљиво, на за то посебно обележеном месту:	
	а) морају бити укључена позициона, односно паркирна, светла, ✓	2
	б) не морају бити укључена позициона, односно паркирна, светла, ✓	
	в) морају бити укључена кратка и позициона светла.	

613.	У ситуацији приказаној на слици на паркираном возилу ноћу светла:	
		
B	а) су прописно укључена, ✓	2
C	б) нису прописно укључена.	
D		
F		

614.	У ситуацији приказаној на слици на паркираном возилу ноћу светла:	
		
B	а) су прописно укључена,	2
C	б) нису прописно укључена. ✓	
D		
F		

615.	У ситуацији приказаној на слици на паркираном возилу ноћу светла:	
		
B	а) су прописно укључена, ✓	2
C	б) нису прописно укључена.	
D		
F		

616.	На возаче трамваја одредбе Закона о безбедности саобраћаја на путевима:	
	а) се не примењују, осим одредаба о ограничењу брзине кретања возила,	2
	б) се не примењују,	
	в) се примењују, осим ако то не искључују конструкционе особине тих возила или начин њиховог кретања. ✓	

617.	Трактор и радна машина у саобраћају на путу:	
F	а) не смеју да имају прикључке за извођење радова,	2
	б) смеју да имају прикључке за извођење радова сходно њиховој намени који морају бити прописно означени. ✓	

618.	Прикључно возило у саобраћају на путу смеју да вуку: (<i>Заокружити два тачна одговора</i>)	
	а) радна машина, ✓	2
	б) мотокултиватор,	
	в) аутобус, ✓	
	г) путничко возило. ✓	

619.	Из возила или са возила на путу животиње је:	
	а) дозвољено водити, ✓	2
	б) забрањено водити, ✓	
	в) забрањено водити, осим на путу ван насеља.	

620. У ситуацији као на слици, вођење животиње са возила у саобраћају на путу:



A

а) је дозвољено,
 б) није дозвољено, ✓
 в) је дозвољено, само уколико се возило креће брзином кретања пешака.

2

625. У ситуацији приказаној на слици бицикличком траком се креће на прописан начин возач мопеда означен бројем:



A

а) 1, ✓ б) 2, в) 1. и 2.

2

621. У ситуацији као на слици, вођење животиње из возила у саобраћају на путу:



B

а) је дозвољено,
 б) није дозвољено, ✓
 в) је дозвољено, само уколико се возило креће брзином кретања пешака.

2

626. Ако се два или више возача мопеда, односно мотоцикала, крећу у групи на путу:

A

а) дужни су да се крећу један за другим, ✓
 б) дужни су да се крећу један поред другог,
 в) могу се кретати један за другим или један поред другог.

2

622. Уколико се животиња превози у возилу, превоз се обавља:

а) на начин да се не угрожава или омета возач, односно остали учесници у саобраћају, ✓
 б) тако да животиња мора бити у кавезу, односно у одговарајућем простору,
 в) тако да животиња не сме бити у простору за путнике.

2

627. У ситуацији приказаној на слици, када се возачи мопеда, односно мотоцикала, крећу у групи, на прописан начин се крећу возачи означени бројевима:



A

а) 1. и 2, ✓
 б) 3. и 4,
 в) 1, 2, 3. и 4.

2

623. На путу на коме постоји бицикличка трака возач мопеда:

A

а) је дужан да се креће левом бицикличком траком у односу на смер кретања саобраћаја,
 б) није дужан да се креће бицикличком траком,
 в) може се кретати и левом и десном бицикличком траком у односу смер кретања саобраћаја,
 г) је дужан да се креће десном бицикличком траком у односу на смер кретања саобраћаја. ✓

2

628. Возач мопеда, односно мотоцикла, када управља возилом:
(Заокружити два тачна одговора)

A

а) не сме да испушта управљач из руку, ✓
 б) сме само на кратко да испусти управљач из руку,
 в) не сме да склања ноге са педала, ✓
 г) не сме да превози предмете.

2

624. На путу на коме постоји бицикличка трака возач лаког трицикла:

A

а) је дужан да се креће десном бицикличком траком у односу на смер кретања саобраћаја, ✓
 б) је дужан да се креће левом бицикличком траком у односу на смер кретања саобраћаја,
 в) није дужан да се креће бицикличком траком,
 г) може се кретати и левом и десном бицикличком траком у односу смер кретања саобраћаја.

2

Возач мопеда, односно мотоцикла, када управља возилом:
(Заокружити два тачна одговора)

A

а) не сме да се придржава за друго возило, ✓
 б) не сме да вуче други мопед, односно мотоцикл, ✓
 в) сме да вуче бицикл,
 г) не сме да превози предмете.

2

629.	Возач мопеда, односно мотоцикла, када управља возилом: (Заокружити два тачна одговора)
A	а) не сме да допусти да возило којим управља буде потискивано, ✓ б) не сме да допусти да возило којим управља буде вучено, ✓ в) сме да допусти да возило којим управља буде вучено, само када се креће уз велики нагиб, г) сме да допусти да возило којим управља буде вучено, само када возило којим управља не може само да се креће.
	2

630.	Возач мопеда, односно мотоцикла, када управља возилом: (Заокружити два тачна одговора)
A	а) не сме да превози предмете који могу да га ометају током управљања, ✓ б) не сме превозити било какве предмете, в) не сме да употребљава на оба ува слушалице за аудио уређаје, ✓ г) не сме ни на једном уву да употребљава слушалице за аудио уређаје.
	2

631.	Прописно управља возилом возач на слици:
	
A	а) 1, б) 2, ✓ в) 3, г) 4.
	2

632.	За време вожње закопчану заштитну кацигу мора носити на глави возач: (Заокружити два тачна одговора)
A	а) мопеда и мотоцикла, ✓ б) радне машине, в) четвороцикла, ✓ г) трактора.
	2

633.	За време вожње закопчану заштитну кацигу мора носити на глави возач: (Заокружити три тачна одговора)
A	а) мотоцикла, ✓ б) радне машине, в) мопеда, ✓ г) четвороцикла, ✓ д) трактора који нема кабину или рам.
	2

634.	Возач мопеда, трицикла, односно мотоцикла:
A	а) не сме да превози лице које је под утицајем алкохола, ✓ б) сме да превози лице које је под утицајем алкохола, в) сме да превози лице које је под утицајем алкохола, уколико својим понашањем не омета возача.
	2

635.	Возач мопеда, трицикла, односно мотоцикла:
A	а) не сме да превози лице које је под утицајем психоактивних супстанци, ✓ б) сме да превози лице које је под утицајем психоактивних супстанци, в) сме да превози лице које је под утицајем психоактивних супстанци, уколико својим понашањем не омета возача.
	2

636.	Мопед, односно мотоцикл, у саобраћају на путу може да има прикључно возило:
A	а) са два точка намењено за превоз терета, ✓ б) са четири точка, намењено за превоз терета, в) са два точка намењено за превоз лица.
	2

637.	Пешак који се креће по коловозу на путу ван насеља:
	а) мора да се креће што ближе десној ивици коловоза у смеру кретања, на начин којим не омета или не спречава саобраћај возила, б) мора да се креће што ближе левој ивици коловоза у смеру кретања, на начин којим не омета или не спречава саобраћај возила, ✓ в) може да се креће што ближе левој или десној ивици коловоза у смеру кретања, на начин којим не омета или не спречава саобраћај возила.
	2

638.	Пешак који учествује у саобраћају у колицима за особе са инвалидитетом, или се вози на котураљкама, односно скејтборду:
	а) не сме да се придржава за возило у покрету, ✓ б) сме да се придржава за возило у покрету, в) сме да се придржава за возило у покрету, само ако се возило креће брзином хода пешака.
	2

639.	Пешак који гура мопед у саобраћају на путу:
A	а) мора се кретати у десну ивицу коловоза у смеру кретања, ✓ б) мора се кретати уз леву ивицу коловоза у смеру кретања, в) може се кретати уз леву или десну ивицу коловоза у смеру кретања.
	2

640.	У ситуацији приказаној на слици непрописно гура мопед особа означена бројем:
	
A	а) 1, б) 2, в) 1 и 2. ✓
	2

641.	Забрана ступања и кретања пешака на аутопуту и мотопуту не важи за: (Заокружити два тачна одговора)
	а) возача возила које је принудно заустављено, ✓ б) возача возила који се зауставио ради одмора, в) лице које обавља послове на отклањању последица саобраћајне незгоде или неисправности на возилу и терету, ✓ г) возача возила које се зауставило ради изласка, односно уласка путника или истовара, односно утовара терета.
	2




Забрањено је коришћење, односно повремено или стално умножавање базе података испитних питања или њених делова, било којим средствима и у било којој форми, у **комерцијалне сврхе**


642.	На пешачком прелазу на којем је саобраћај регулисан семафорима, возач којем је светлосним саобраћајним знаком забрањен пролаз, када наилази на пешачки прелаз дужан је да:	2
	а) заустави своје возило испред пешачког прелаза, ✓ б) пропусти пешака који прелази преко пешачког прелаза, в) звучним знаком упозори пешака који прелази преко пешачког прелаза.	

647.	Возач који скреће на бочни пут на чијем улазу не постоји пешачки прелаз, на који су ступили пешаци који прелазе преко коловоза бочног пута:	2
	г) дужан је да пропусти пешаке који су већ ступили на коловоз, ✓ д) дужан је да звучним знаком упозори пешаке јер не прелазе коловоз на обележеном пешачком прелазу, е) није дужан да пропусти пешаке који су већ ступили на коловоз.	

643.	Возач којем је забрањен пролаз према знаку полицијског службеника, када наилази на пешачки прелаз, дужан је да:	2
	а) заустави своје возило испред пешачког прелаза, ✓ б) пропусти пешака који прелази преко пешачког прелаза, в) звучним знаком упозори пешака који прелази преко пешачког прелаза.	

648.	Возач којем је дозвољен пролаз према знаку полицијског службеника, при наиласку на пешачки прелаз преко кога прелази пешак:	2
	а) дужан је да звучним знаком упозори пешака, б) није дужан да пропусти пешака, ✓ в) дужан је да пропусти пешака.	

644.	У ситуацији приказаној на слици дужни сте да:	2
		
	а) пропустите пешака који прелази преко пешачког прелаза, б) зауставите своје возило испред линије заустављања, ✓ в) звучним знаком упозорите пешака који прелази преко пешачког прелаза.	

649.	У ситуацији приказаној на слици:	2
		
	а) дужни сте да пропустите пешаке, ✓ б) дужни сте да звучним знаком упозорите пешаке, в) нисте дужни да пропустите пешаке.	

645.	Возач којем је дозвољен пролаз према светлосном саобраћајном знаку, при наиласку на пешачки прелаз преко кога прелази пешак:	2
	а) дужан је да звучним знаком упозори пешака, б) дужан је да пропусти пешака, ✓ в) није дужан да пропусти пешака.	

650.	Возач који скреће на бочни пут када му је светлосним саобраћајним знаком дозвољен пролаз и наилази на пешачки прелаз на улазу на бочни пут, преко кога прелази дете:	2
	а) дужан је да звучним знаком упозори дете, б) дужан је да заустави возило и да пропусти дете, ✓ в) није дужан да пропусти дете.	

646.	У ситуацији приказаној на слици, на раскрсници на којој саобраћај регулише полицијски службеник:	2
		
	а) дужни сте да звучним знаком упозорите пешаке, б) дужни сте да пропустите пешаке, ✓ в) нисте дужни да пропустите пешаке. ?	

651.	Возач који скреће на бочни пут, када му је дозвољен пролаз према знаку полицијског службеника, при наиласку на пешачки прелаз преко кога прелази пешак:	2
	а) дужан је да пропусти пешака, ✓ б) дужан је да звучним знаком упозори пешака, в) није дужан да пропусти пешака.	

652.	У ситуацији приказаној на слици:	2
		
	а) дужни сте да пропустите пешака, ✓ б) нисте дужни да пропустите пешака, в) дужни сте да звучним знаком упозорите пешака.	



653.	Возач који наилази на пешачки прелаз на коме саобраћај није регулисан уређајима за давање светлосних саобраћајних знакова нити знацима полицијског службеника, на који је већ ступило или ступа дете:	
	а) дужан је да звучним знаком упозори дете, б) није дужан да пропусти дете, в) дужан је да заустави возило и да пропусти дете. ✓	2

654.	У ситуацији приказаној на слици:	
		
	а) дужни сте да пропустите пешака који је већ ступио на коловоз, ✓ б) дужни сте да звучним знаком упозорите пешака јер не прелази коловоз на обележеном пешачком прелазу, в) нисте дужни да пропустите пешака.	2

655.	Када наилази на пешачки прелаз на коме саобраћај није регулисан уређајима за давање светлосних саобраћајних знакова нити знацима полицијског службеника, возач је дужан да:	
	а) прилагоди брзину возила тако да у свакој ситуацији коју види или има разлога да предвиди може безбедно да заустави возило испред пешачког прелаза и пропусти пешака, ✓ б) заустави своје возило испред пешачког прелаза, в) употреби звучни знак упозорења и настави кретање.	2

656.	У ситуацији приказаној на слици, возач путничког возила дужан је да:	
		
	а) заустави своје возило испред пешачког прелаза, б) прилагоди брзину возила тако да у свакој ситуацији коју види или има разлога да предвиди може безбедно да заустави возило испред пешачког прелаза и пропусти пешака, ✓ в) употреби звучни знак упозорења и настави кретање.	2

657.	У ситуацији приказаној на слици дужни сте:	
		
	а) само да прилагодите брзину тако да можете зауставити возило испред пешачког прелаза, б) да наставите кретање брзином којом сте се до тада кретали уз употребу звучног знака упозорења, в) да због присуства деце возите са нарочитом опрезношћу тако да можете благовремено да зауставите возило и да употребите звучни знак упозорења. ✓	2

658.	Организовану колону пешака која се креће по коловозу, возач:	
	а) сме да пресеца, ✓ б) не сме да пресеца, ✓ в) сме да пресеца, осим ако су у колони деца.	2

659.	У ситуацији приказаној на слици:	
		
	а) смете да пресецате организовану колону пешака, б) не смете да пресецате организовану колону пешака. ✓	2

660.	На прелазу пута преко железничке пруге возач:	
	а) има првенство пролаза у односу на шинско возило, б) је дужан да пропусти шинско возило, ✓ в) је дужан да пропусти шинско возило, када оно долази са десне стране, а има првенство пролаза када оно долази са леве стране.	2

661.	У ситуацији приказаној на слици:	
		
	а) дужни сте да пропустите шинско возило, ✓ б) имате првенство пролаза у односу на шинско возило.	2



662. У ситуацији приказаној на слици:



- а) дужни сте да пропустите шинско возило, ✓
- б) имате првенство пролаза у односу на шинско возило.

2

663. У ситуацији приказаној на слици дужни сте да:



- а) возило зауставите пре него што ступите на железничку пругу,
- б) кретање возила прилагодите тако да по потреби можете зауставити возило пре него што ступите на железничку пругу, ✓
- в) кретање наставите непромењеном брзином јер имате првенство пролаза у односу на шинско возило које се креће по железничкој прузи.

2

664. У ситуацији приказаној на слици дужни сте да:



- а) возило зауставите пред железничком пругом,
- б) кретање возила прилагодите тако да можете да зауставите возило пред уређајем за затварање саобраћаја, ✓
- в) кретање наставите непромењеном брзином, јер уређај за затварање саобраћаја није спуштен, односно није почео да се спушта.

2

665. У ситуацији приказаној на слици дужни сте да:



- а) кретање возила прилагодите тако да можете да зауставите возило пред уређајем за давање знакова којима се најављује приближавање воза, ✓
- б) возило зауставите пред железничком пругом,
- в) кретање наставите непромењеном брзином, јер уређај за давање знакова којима се најављује приближавање воза не даје прописане знакове.

2

666. На прелазу пута преко железничке пруге када је уређај за затварање саобраћаја почео да се спушта возач:

- а) је дужан да се заустави испред тог уређаја, ✓
- б) може прећи преко железничке пруге уколико постоји довољно простора испод или поред браника, односно полубраника.

2

667. Возач који се возилом приближава прелазу пута преко железничке пруге дужан је да:

- а) кретање возила подеси тако да може да заустави возило пре него што ступи на железничку пругу, ✓
- б) возило заустави пре него што ступи на железничку пругу,
- в) кретање настави непромењеном брзином јер има првенство пролаза у односу на шинско возило које се креће по железничкој прузи.

2

668. У ситуацији приказаној на слици дужни сте да:




- а) кретање возила прилагодите тако да можете да зауставите возило пред уређајем за затварање саобраћаја, ✓
- б) возило зауставите пред железничком пругом,
- в) кретање наставите непромењеном брзином, јер уређај за затварање саобраћаја није спуштен, односно није почео да се спушта.

2



669. У ситуацији приказаној на слици:



- а) дужни сте да се зауставите испред браника, ✓
- б) можете прећи преко железничке пруге уколико постоји довољно простора испод браника. ✓

2

672. У ситуацији приказаној на слици возач аутобуса:



- а) може прећи преко железничке пруге поред полубраника, уколико се увери да то може урадити безбедно пре наилаaska воза,
- б) може прећи преко железничке пруге поред полубраника, ако друго лице ван возила да знак да воз не наилази,
- в) је дужан да се заустави испред полубраника. ✓

2

670. У ситуацији приказаној на слици:



- а) дужни сте да се зауставите испред полубраника, ✓
- б) можете прећи преко железничке пруге поред полубраника, уколико се уверите да то можете урадити безбедно пре наилаaska воза,
- в) можете прећи преко железничке пруге поред полубраника, ако вам друго лице ван возила да знак да воз не наилази.

2

673. У ситуацији приказаној на слици:



- а) дужни сте да се зауставите испред уређаја за давање светлосних саобраћајних знакова којим се најављује приближавање воза, ✓
- б) можете прећи преко железничке пруге, уколико се уверите да то можете урадити безбедно пре наилаaska воза,
- в) можете да наставите кретање непромењеном брзином.

2

671. У ситуацији приказаној на слици:



- а) дужни сте да се зауставите испред браника, ✓
- б) можете прећи преко железничке пруге поред браника, уколико се уверите да то можете урадити безбедно пре наилаaska воза,
- в) можете прећи преко железничке пруге поред браника, ако вам друго лице ван возила да знак да воз не наилази.

2

674. Аутопутем дозвољено је кретање:
(Заокружити два тачна одговора)

- A а) мотоциклима, ✓
- B б) мопедима,
- C в) путничким возилима, ✓
- D г) четвороциклима.

2

675. Мотопутем дозвољено је кретање:
(Заокружити два тачна одговора)

- A а) мотоциклима, ✓
- B б) мопедима,
- C в) путничким возилима, ✓
- D г) четвороциклима.

2

676. Аутопутем дозвољено је кретање:
(Заокружити два тачна одговора)

- B а) теретним возилима, ✓
- C б) радним машинама,
- D в) аутобусима, ✓
- F г) тракторима који не вуку прикључно возило за трактор.

2

© Забрањено је коришћење, односно повремено или стално умножавање базе података испитних питања или њених делова, било којим средствима и у било којој форми, у **комерцијалне сврхе**

677. Мотопутем дозвољено је кретање:
(Заокружити два тачна одговора)

B а) теретним возилима, ✓
C б) туристичком возу,
D в) аутобусима, ✓
F г) тракторима који не вуку прикључно возило за трактор.

2

678. Аутопутем и мотопутем не смеју се кретати:
(Заокружити два тачна одговора)

B а) теретна возила, чија је највећа конструктивна брзина мања од 50 km/h, ✓
C б) теретна возила, чија је највећа конструктивна брзина мања од 60 km/h,
D в) радна машина, чија је највећа конструктивна брзина већа од 40 km/h, ✓
F г) аутобуси, чија је највећа конструктивна брзина мања од 60 km/h.

2

679. На аутопут, односно мотопут, возач може да се укључи, односно искључи:

A а) само на местима на којима се наплаћује путарина,
B б) само прилазним путем намењеним за укључење на тај пут, односно искључење са пута, ✓
D в) на сваком месту са којег је могуће укључити, односно искључити.

2

680. У ситуацији приказаној на слици, возач се на аутопут укључује на прописан начин путањом означеном бројем:



A а) 1,
B б) 2,
C в) 3. ✓
D

2

681. У ситуацији приказаној на слици возач возила који користи саобраћајну траку за укључивање на аутопут:



A а) није дужан да укључи показивач правца,
B б) дужан је да укључи десни показивач правца,

2

C в) дужан је да укључи леви показивач правца. ✓
D

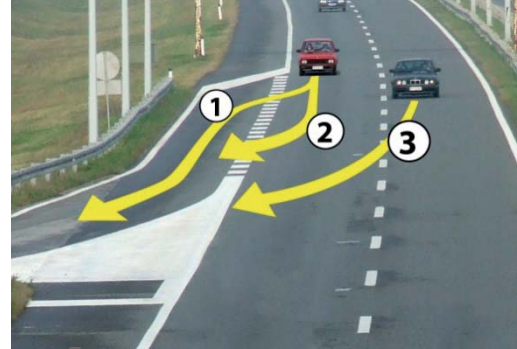
682. У ситуацији приказаној на слици возач који се укључује на аутопут:



A а) дужан је да пропусти возило које се креће аутопутем, ✓
B б) има првенство пролаза у односу на возило које се креће аутопутем.

2

683. У ситуацији приказаној на слици, возач се са аутопута искључује на прописан начин путањом означеном бројем:



A а) 1, ✓
B б) 2,
C в) 3.
D

2

684. На аутопуту са више саобраћајних трака намењених кретању возила у једном смеру, возач моторног возила:

A а) може се кретати било којом саобраћајном траком за тај смер кретања,
B б) мора се кретати крајњом левом саобраћајном траком,
D в) мора се кретати крајњом десном саобраћајном траком, осим ако није заузета возилима која се крећу у колони, као и приликом претицања. ✓

2

685. Заустаном траком кретање возила:

A а) је дозвољено,
B б) није дозвољено, ✓
C в) није дозвољено, осим моторним возилима која вуку неисправно возило.
D

2

686. На аутопуту са три или више саобраћајних трака, намењених за саобраћај возила у једном смеру, возачи теретних возила чија је највећа дозвољена маса већа од 3.500 kg смеју да користе:

C а) само две саобраћајне траке које се простиру уз десну ивицу коловоза, ✓
 б) само крајњу десну саобраћајне траке,
 в) све саобраћајне траке за тај смер кретања.

2

687.	На аутопуту са три или више саобраћајних трака, намењених за саобраћај возила у једном смеру, возачи скупова возила, чија је дужина већа од седам метара смеју да користе:	
B	а) само две саобраћајне траке које се простиру уз десну ивицу коловоза, ✓	
C	б) само крајњу десну саобраћајну траку,	
D	в) све саобраћајне траке за тај смер кретања.	

694.	На аутопуту:	
A	а) дозвољено је заустављање и паркирање, у зауставној траци,	
B	б) дозвољено је заустављање, а није дозвољено паркирање,	
C	в) дозвољено је заустављање и паркирање, само на местима која су за то посебно уређена и обележена. ✓	2
D		

688.	На аутопуту са три или више саобраћајних трака, намењених за саобраћај возила у једном смеру, само две саобраћајне траке које се простиру уз десну ивицу коловоза не смеју да користе возачи:	
B	а) теретних возила,	
C	б) аутобуса чија је највећа дозвољена маса већа од 3.500 kg,	
D	в) теретних возила чија је највећа дозвољена маса већа од 3.500 kg. ✓	2

695.	На мотопуту:	
A	а) дозвољено је заустављање, а није дозвољено паркирање,	
B	б) дозвољено је заустављање и паркирање, у зауставној траци,	
C	в) дозвољено је заустављање и паркирање, само на местима која су за то посебно уређена и обележена. ✓	2
D		

689.	На аутопуту са три или више саобраћајних трака, намењених за саобраћај возила у једном смеру, само две саобраћајне траке које се простиру уз десну ивицу коловоза смеју да користе возачи:	
B	а) скупова возила, чија је дужина највише 12 метара, ✓	
C	б) свих скупова возила,	
D	в) скупова возила, чија је дужина највише седам метара.	2

696.	На аутопуту:	
A	а) је дозвољено да се врши полукружно окретање возилом, ако постоји могућност проласка у коловозну траку за супротни смер,	
B	б) није дозвољено да се врши полукружно окретање возилом, ✓	
C	в) је дозвољено да се врши полукружно окретање возилом, ако постоји могућност проласка у коловозну траку за супротни смер и ако се може извршити без маневрисања.	2
D		

690.	На аутопуту са две саобраћајне траке, намењене за саобраћај возила у једном смеру, возачи теретних возила чија је највећа дозвољена маса већа од 3.500 kg, смеју да користе:	
C	а) обе саобраћајне траке, ✓	
	б) само крајњу десну саобраћајну траку,	
	в) само крајњу десну саобраћајну траку, осим приликом претицања. ✓	2

697.	На мотопуту:	
A	а) је дозвољено да се врши полукружно окретање возилом,	
B	б) није дозвољено да се врши полукружно окретање возилом, ✓	
C	в) је дозвољено да се врши полукружно окретање возилом, ако се може извршити без маневрисања.	2
D		

691.	На аутопуту са две саобраћајне траке, намењене за саобраћај возила у једном смеру, возачи скупова возила, чија је дужина већа од седам метара, смеју да користе:	
B	а) обе саобраћајне траке,	
C	б) само крајњу десну саобраћајну траку, осим приликом претицања, ✓	
D	в) само крајњу десну саобраћајну траку.	2

698.	У ситуацији приказаној на слици, на аутопуту:	
		
A	а) је дозвољено да се врши полукружно окретање возилом, ако се тиме не угрожавају други учесници у саобраћају,	
B	б) није дозвољено да се врши полукружно окретање возилом, ✓	
C	в) је дозвољено да се врши полукружно окретање возилом, ако се може извршити без маневрисања и ако се тиме не угрожавају други учесници у саобраћају.	2
D		

692.	На аутопуту са две саобраћајне траке намењене за саобраћај возила у једном смеру, крајњом десном саобраћајном траком, осим приликом претицања, морају се кретати возачи:	
B	а) теретних возила чија је највећа дозвољена маса већа од 3.500 kg, ✓	
C	б) теретних возила,	
D	в) зглобних аутобуса.	2

693.	На аутопуту са две саобраћајне траке намењене за саобраћај возила у једном смеру, крајњом десном саобраћајном траком, осим приликом претицања морају се кретати возачи:	
B	а) скупова возила, чија је дужина већа од седам метара, ✓	
C	б) зглобних аутобуса,	
D	в) свих скупова возила.	2

699. У ситуацији приказаној на слици, на мотопуту:



A а) је дозвољено да се врши полукружно окретање возилом, ако се тиме не угрожавају други учесници у саобраћају,
B б) није дозвољено да се врши полукружно окретање возилом, ✓
C в) је дозвољено да се врши полукружно окретање возилом, ако се може извршити без маневрисања и ако се тиме не угрожавају други учесници у саобраћају.

2

700. На аутопуту:

A а) је дозвољено да се врши кретање уназад само зауставном траком,
B б) није дозвољено да се врши кретање уназад, ✓
C в) је дозвољено да се врши кретање уназад искључиво на краткој деоници пута уколико се тиме не угрожавају остали учесници у саобраћају.

2

701. У ситуацији приказаној на слици на аутопуту:



A а) је дозвољено да се врши кретање уназад,
B б) није дозвољено да се врши кретање уназад, ✓
C в) је дозвољено да се врши кретање уназад јер се врши зауставном траком и на краткој деоници пута.

2

702. На мотопуту:

A а) је дозвољено да се врши кретање уназад,
B б) није дозвољено да се врши кретање уназад, ✓
C г) је дозвољено да се врши кретање уназад искључиво на краткој деоници пута уколико се тиме не угрожавају остали учесници у саобраћају.

2

703. У ситуацији приказаној на слици на мотопуту:



A а) је дозвољено да се врши кретање уназад,
B б) није дозвољено да се врши кретање уназад, ✓
C в) је дозвољено да се врши кретање уназад јер се врши на краткој деоници пута и тиме не угрожавају остали учесници у саобраћају.

2

704. Возач који је због неисправности на возилу или из других разлога, принуђен да заустави возило на аутопуту:

A а) може се зауставити и у саобраћајној траци у којој се до тада кретао, ако га означи на прописан начин и предузме потребне мере да возило што пре уклони,
B б) дужан је да га заустави на зауставној траци и да предузме потребне мере да возило што пре уклони, ✓
C в) дужан је да га заустави на зауставној траци и означи на прописан начин.

2

705. У ситуацији приказаној на слици возило полиције:



а) је возило под пратњом,
 б) није возило под пратњом, ни возило са правом првенства пролаза, ✓
 в) је возило са правом првенства пролаза.

2

706. Возила која врше пратњу возила под пратњом:

а) морају давати посебне звучне и светлосне знаке, ✓
 б) не морају давати посебне звучне и светлосне знаке, али морају давати светлосни знак упозорења (узастопно или наизменично укључивање дугих светала),
 в) могу давати само светлосни знак упозорења (узастопно или наизменично укључивање дугих светала) и посебне звучне знаке.

2

707. Посебни светлосни и звучни знаци возила под пратњом су:

а) црвено и плаво трепћуће светло која се наизменично пале и звучни знак променљиве фреквенције, ✓
 б) најмање једно плаво трепћуће или ротационо светло и звучни знак променљиве фреквенције,
 в) жута ротациона или трепћућа светла.

2



708.	Возило под пратњом:	
	а) увек мора давати посебне светлосне и звучне знаке,	
	б) може давати само посебне светлосне знаке, ако је омогућена довољна видљивост тог возила и безбедност учесника у саобраћају, осим када се креће брзином већом од дозвољене на том делу пута, ✓	
	в) може давати само посебне звучне знаке.	2

709.	Возило под пратњом може давати посебне светлосне знаке без сирене, ако су истовремено испуњени следећи услови: (Заокружити два тачна одговора)	
	а) постоји довољна видљивост тог возила и безбедност учесника у саобраћају, ✓	
	б) возило се креће на путу у насељу,	
	в) возило се креће брзином дозвољеном на том делу пута, ✓	
	г) возило се креће на путу ван насеља.	2

710.	Уређаји за давање посебних звучних и светлосних знакова возила под пратњом:	
	а) могу бити уграђени и постављени само на возилима надлежних државних органа, ✓	
	б) могу бити уграђени и постављени на возилима, уз добијање дозволе од надлежног државног органа,	
	в) могу бити уграђени и постављени на возилима, ако су након уградње тих уређаја испитана од стране овлашћене организације.	2

711.	Уређаји за давање посебних звучних и светлосних знакова возила под пратњом могу се употребљавати само:	
	а) када се врши пратња, ✓	
	б) када се одступа од правила саобраћаја,	
	в) ноћу и у условима смањене видљивости.	2

712.	Возила под пратњом имају првенство пролаза у односу на сва друга возила на раскрсницама на којима је саобраћај регулисан: (Заокружити два тачна одговора)	
	а) светлосним саобраћајним знаковима,	
	б) саобраћајним знаковима, односно ознакама на коловозу, ✓	
	в) знаковима полицијског службеника,	
	г) правилима саобраћаја. ✓	2

713.	У ситуацији приказаној на слици:	
	а) возило под пратњом има првенство пролаза, ✓	
	б) првенство пролаза је регулисано семафором. ✓	2

714.	У ситуацији приказаној на слици:	
	а) возило под пратњом има првенство пролаза,	
	б) првенство пролаза је регулисано знаковима које даје полицијски службеник. ✓	2

715.	У ситуацији приказаној на слици:	
	а) возило под пратњом има првенство пролаза, ✓	
	б) првенство пролаза је регулисано саобраћајним знаковима.	2

716.	У ситуацији приказаној на слици:	
	а) возило под пратњом има првенство пролаза, ✓	
	б) првенство пролаза има жуто возило, по „правилу десне стране“.	2

717.	На возила са првенством пролаза, под условом да не угрожавају безбедност других учесника у саобраћају, не примењују се одредбе закона о: (Заокружити два тачна одговора)	
	а) ограничењу брзине, ✓	
	б) забрани претицања и обилажења возила, ✓	
	в) дозвољеном смеру кретања	
	г) поступању по светлосним саобраћајним знаковима.	2



718. На возила под пратњом, под условом да не угрожавају безбедност других учесника у саобраћају, се не примењују одредбе закона о:
(*Заокружити два тачна одговора*)

а) ограничењу брзине, ✓
 б) забрани претицања и обилажења возила, ✓
 в) дозвољеном смеру кретања,
 г) поступању по светлосним саобраћајним знаковима.

2

719. У ситуацији приказаној на слици возило полиције се:



а) не сме кретати брзином која је већа од 50 km/h,
 б) може кретати брзином која је већа од 50 km/h, тако да не угрожава безбедност других учесника у саобраћају. ✓

2

720. У ситуацији приказаној на слици возило полиције се:



а) не сме кретати брзином која је већа од 50 km/h, ✓
 б) може се кретати брзином која је већа од 50 km/h, тако да не угрожава безбедност других учесника у саобраћају.

2


721. У ситуацији приказаној на слици претицање:



а) је дозвољено, ✓
 б) није дозвољено.

2

722. У ситуацији приказаној на слици возач:



а) не мора пропустити пешака, под условом да не угрожава његову безбедност, ✓
 б) мора пропустити пешака.

2

723. У ситуацији приказаној на слици возач возила полиције:



а) не мора пропустити пешака, под условом да не угрожава његову безбедност,
 б) мора пропустити пешака. ✓

2

724. Возач који на путу сусретне или га сустигне возило, односно возила под пратњом, дужан је да:
(*Заокружити два тачна одговора*)

а) пропусти та возила, ✓
 б) им омогући мимоилажење и претицање, односно обилажење, ✓
 в) обавезно помери возило са коловоза,
 г) обавезно заустави возило.

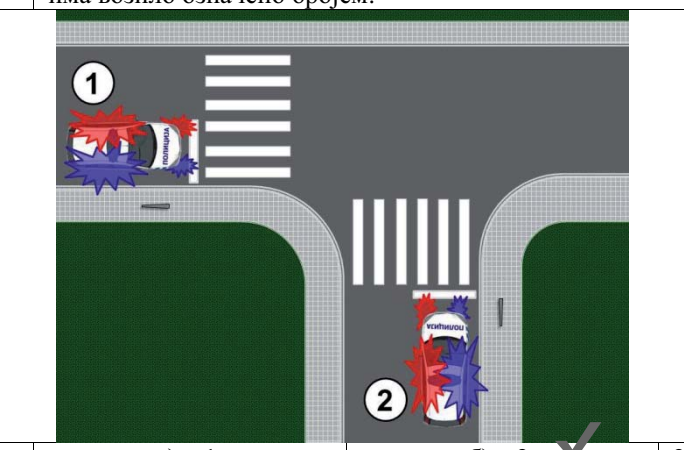
2

725. Возач који на путу сусретне или га сустигне возило, односно возила под пратњом, дужан је да:
(*Заокружити три тачна одговора*)

а) по потреби помери возило са коловоза, ✓
 б) по потреби заустави возило, ✓
 в) обавезно помери возило са коловоза,
 г) обавезно заустави возило,
 д) се придржава наредби које му дају лица из пратње. ✓

2


726. У ситуацији приказаној на слици првенство пролаза има возило означено бројем:



а) 1,
 б) 2. ✓

2

727. У ситуацији приказаној на слици првенство пролаза има возило означено бројем:



а) 1, ✓
 б) 2.

2

728. У ситуацији приказаној на слици првенство пролаза има возило означено бројем:



a) 1, ✓ б) 2. 2

729. У ситуацији приказаној на слици првенство пролаза има возило означено бројем:



a) 1, ✓ б) 2. 2

730. У ситуацији приказаној на слици возило са првенством пролаза је возило означено бројем:



a) 1, б) 2, ✓ в) 3. 2

731. У ситуацији приказаној на слици возило полиције:



a) је возило под пратњом,
 б) није возило под пратњом ни возило са правом првенства пролаза, ✓
 в) је возило са правом првенства пролаза. 2

732. Возила са првенством пролаза:

а) морају давати посебне звучне и светлосне знаке, ✓
 б) не морају давати посебне звучне и светлосне знаке, али морају давати светлосни знак упозорења (узастопно или наизменично укључивање дугих светала),
 в) могу давати само светлосни знак упозорења (узастопно или наизменично укључивање дугих светала) и посебне звучне знаке. 2

733. Посебни светлосни и звучни знаци возила са првенством пролаза су:

а) црвено и плаво трепћуће светло која се наизменично пале и звучни знак променљиве фреквенције,
 б) најмање једно плаво трепћуће или ротационо светло и звучни знак променљиве фреквенције, ✓
 в) жута ротациона или трепћућа светла. 2

734. Возило са првенством пролаза:

а) увек мора давати посебне светлосне и звучне знаке,
 б) може давати само посебне светлосне знаке, ако је омогућена довољна видљивост тог возила и безбедност учесника у саобраћају, осим када се креће брзином већом од дозвољене на том делу пута, ✓
 в) може давати само посебне звучне знаке. 2

735. Возило са првенством пролаза може давати посебне светлосне знаке без сирене, ако су истовремено испуњени следећи услови:
(Заокружити три тачна одговора)

а) постоји довољна видљивост тог возила и безбедност учесника у саобраћају, ✓
 б) возило се креће на путу у насељу, ✓
 в) возило са првенством пролаза се креће брзином дозвољеном на том делу пута, ✓
 г) возило се креће на путу ван насеља,
 д) то је неопходно за неометано извршење службеног задатка. ✓ 2

736. Уређаји за давање посебних звучних и светлосних знакова возила са првенством пролаза:

а) могу бити уграђени и постављени на возилима уз добијање дозволе од надлежног државног органа,
 б) могу бити уграђени и постављени на возилима, уз добијање дозволе од надлежног државног органа, а која су након уградње тих уређаја испитана од стране овлашћене организације,
 в) могу бити уграђени и постављени само на возилима надлежних државних органа. ✓ 2

737. Уређаји за давање посебних звучних и светлосних знакова возила са првенством пролаза могу се употребљавати само:

а) када је то неопходно за ефикасно и безбедно извршење службене радње која не трпи одлагање, ✓
 б) када се одступа од правила саобраћаја,
 в) ноћу и у условима смањене видљивости. 2

738. Возила са првенством пролаза имају првенство пролаза у односу на сва друга возила, осим у односу на возила под пратњом, на раскрсницама на којима је саобраћај регулисан:
(Заокружити два тачна одговора)

а) светлосним саобраћајним знаковима,
б) саобраћајним знаковима, односно ознакама на коловозу, ✓
в) знаковима полицијског службеника,
г) правилима саобраћаја. ✓

2

739. У ситуацији приказаној на слици:



а) возило полиције има првенство пролаза,
б) првенство пролаза је регулисано семафором. ✓

2

740. У ситуацији приказаној на слици:



а) возило полиције које даје посебне светлосне и звучне сигнале има првенство пролаза,
б) првенство пролаза је регулисано знаковима које даје полицијски службеник. ✓

2

741. У ситуацији приказаној на слици:



а) возило полиције има првенство пролаза, ✓
б) првенство пролаза је регулисано саобраћајним знаковима.

2

742. У ситуацији приказаној на слици:



а) возило полиције има првенство пролаза, ✓
б) првенство пролаза је регулисано правилима саобраћаја која одређују првенство пролаза.

743. На возила под пратњом, под условом да не угрожавају безбедност других учесника у саобраћају, се не примењују одредбе Закона о безбедности саобраћаја на путевима о:
(Заокружити два тачна одговора)

а) пропуштању пешака, ✓
б) забрани пресецања колоне пешака, ✓
в) употреби светала,
г) поступању по светлосним саобраћајним знаковима.

2

744. На возила са првенством пролаза, под условом да не угрожавају безбедност других учесника у саобраћају, не примењују се одредбе закона о:
(Заокружити два тачна одговора)

а) употреби светала,
б) поступању по светлосним саобраћајним знаковима,
в) пропуштању пешака, ✓
г) забрани пресецања колоне пешака. ✓

2

745. У ситуацији приказаној на слици возило се:



а) не може кретати брзином која је већа од 50 km/h,
б) може кретати брзином која не угрожава безбедност других учесника у саобраћају, ✓
в) не може кретати брзином која је за 50 km/h већа од дозвољене брзине.

2

746. У ситуацији приказаној на слици возило се:



а) не може кретати брзином која је већа од 50 km/h, ✓
 б) може кретати брзином која не угрожава безбедност других учесника у саобраћају,
 в) не може кретати брзином која је за 50 km/h већа од дозвољене брзине.

2

747. У ситуацији приказаној на слици претицање:



а) је дозвољено, ✓
 б) није дозвољено.

2

748. У ситуацији приказаној на слици претицање које врши возило полиције:



а) је дозвољено, ✓
 б) није дозвољено. ✓

2

749. У ситуацији приказаној на слици возач возила:



а) не мора пропустити пешака, по условом да не угрожава његову безбедност, ✓
 б) мора пропустити пешака.

2

750. Возач који на путу сусретне или га сустигне возило, односно возила са првенством пролаза, дужан је да: (Заокружити два тачна одговора)

а) пропусти та возила, ✓
 б) им омогући мимоилажење и претицање, односно обилажење, ✓
 в) обавезно помери возило са коловоза,
 г) обавезно заустави возило.

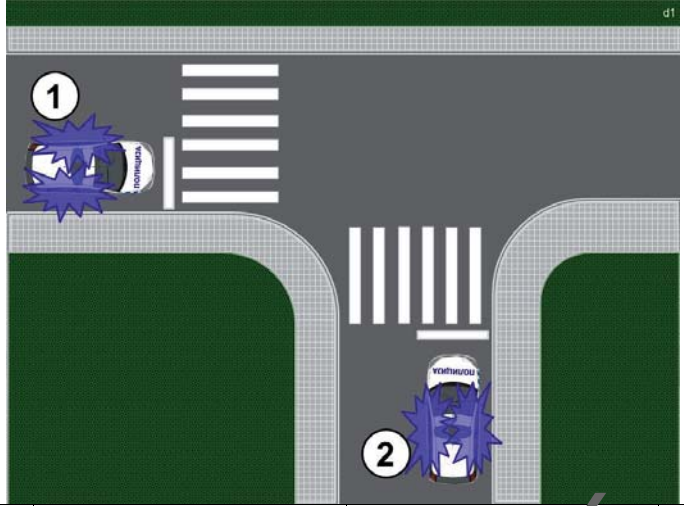
2

751. Возач који на путу сусретне или га сустигне возило, односно возила са првенством пролаза, дужан је да: (Заокружити три тачна одговора)

а) по потреби помери возило са коловоза, ✓
 б) по потреби заустави возило, ✓
 в) обавезно помери возило са коловоза,
 г) обавезно заустави возило,
 д) се придржава наредби које му дају лица из возила са првенством пролаза. ✓

2


752. У ситуацији приказаној на слици првенство пролаза има возило означено бројем:



а) 1,
 б) 2. ✓

2

753. У ситуацији приказаној на слици првенство пролаза има возило означено бројем:



а) 1, ✓
 б) 2.

2


754. У ситуацији приказаној на слици првенство пролаза има возило означено бројем:



а) 1, ✓
 б) 2.

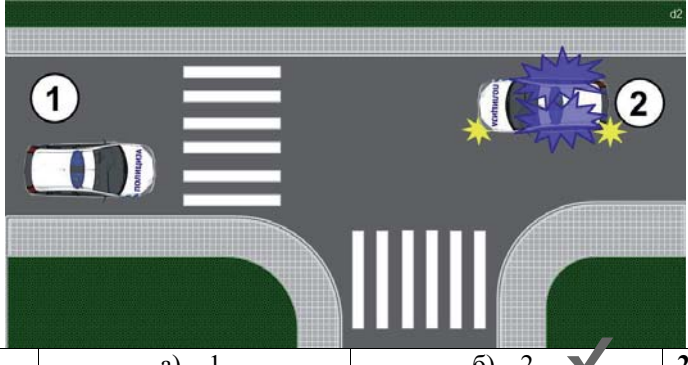
2

755. У ситуацији приказаној на слици првенство пролаза има возило означено бројем:



a) 1. ✓ б) 2. 2

756. У ситуацији приказаној на слици првенство пролаза има возило означено бројем:



a) 1. б) 2. ✓ 2

757. Када возило са првенством пролаза обезбеђује пролаз возилима која се крећу иза њега, остали учесници у саобраћају:

а) могу се прикључити возилима којима се обезбеђује пролаз,
 б) имају обавезу поступања према тим возилима као према возилима са првенством пролаза, ако та возила имају укључене све показиваче правца,
 в) имају обавезу поступања према тим возилима као према возилима са првенством пролаза. ✓ 2

758. Возач возила са првенством пролаза:

а) дужан је да првенствено води рачуна о ефикасности извршења службеног задатка,
 б) дужан је да води рачуна само о безбедности пешака,
 в) дужан је да води рачуна о безбедности осталих учесника у саобраћају. ✓ 2

759. Када полицијско возило са првенством пролаза даје истовремено и светлосни знак упозорења (узастопно или наизменично укључивање дугих светала), возач возила које се креће непосредно испред полицијског возила које даје те знаке мора:

а) одмах безбедно да заустави своје возило уз десну ивицу коловоза, а по могућности и ван коловоза, ✓
 б) да успори кретање свог возила и да омогући претицање возилу са правом првенства пролаза,
 в) да помери своје возило уз десну ивицу коловоза и да омогући претицање возилу са правом првенства пролаза. 2

760. Возач возила које се креће непосредно иза возила полиције са првенством пролаза из којег полицијски службеник даје знаке и наредбе:

а) дужан је да поступи по знацима и наредбама полицајца, односно да прати полицијско возило до погодног места и да се безбедно заустави иза полицијског возила, ✓
 б) мора одмах да заустави своје возило и уклони га са коловоза,
 в) успори кретање свог возила и изврши заустављање само у случају ако полицијски службеник изађе из возила и да одговарајући знак за заустављање. 2

761. У ситуацији приказаној на слици:



а) дозвољено је претицање возила са првенством пролаза ако полицијски службеник из возила не даје друге знаке и наредбе,
 б) није дозвољено претицање возила са првенством пролаза,
 в) дозвољено је претицање возила са првенством пролаза само када полицијски службеник из возила изда такву наредбу. ✓ 2

762. Возило које се употребљава приликом извођења радова, односно других активности, на путу док се ти радови, односно активности, обављају на путу мора да има:

В а) укључене све показиваче правца,
 С б) укључено жуто ротационо или трепћуће светло, ✓
 F в) укључено црвено ротационо или трепћуће светло. 2

763. У ситуацији приказаној на слици трактор:



F а) мора да има укључено жуто ротационо или трепћуће светло, ✓
 б) не мора да има укључено жуто ротационо или трепћуће светло,
 в) мора да има укључено жуто ротационо или трепћуће светло, само ноћу и у условима смањене видљивости. 2

© Забрањено је коришћење, односно повремено или стално умножавање базе података испитних питања или њених делова, било којим средствима и у било којој форми, у **комерцијалне сврхе**

764. Возило које прелази прописане димензије, односно возило које са теретом прекорачује дозвољене димензије, мора да има:


B а) укључене све показиваче правца,
C б) укључено жуто ротационо или трепћуће светло, ✓
F в) укључено црвено ротационо или трепћуће светло. **2**

765. У ситуацији приказаној на слици радна машина:



F а) мора да има укључено жуто ротационо или трепћуће светло, ✓
 б) не мора да има укључено жуто ротационо или трепћуће светло,
 в) мора да има укључено жуто ротационо или трепћуће светло, само ноћу и у условима смањене видљивости. **2**

766. У ситуацији приказаној на слици, скуп возила које прелази прописане димензије:



C а) мора да има укључено жуто ротационо или трепћуће светло, само ноћу и у условима смањене видљивости,
 б) мора да има укључено жуто ротационо или трепћуће светло, ✓
 в) не мора да има укључено жуто ротационо или трепћуће светло. **2**

767. Возило које прати возило које прелази прописане димензије, односно возило које са теретом прекорачује дозвољене димензије, мора да има:

B а) укључене све показиваче правца,
C б) укључено жуто ротационо или трепћуће светло, када је то одређено у дозволи за ванредни превоз, ✓
F в) укључено црвено ротационо или трепћуће светло. **2**

768. Трактор мора имати укључено жуто ротационо или трепћуће светло:

F а) увек када учествује у саобраћају на путу,
 б) ноћу и у условима смањене видљивости, ✓
 г) само када се креће на путу ван насеља. **2**

769. У ситуацији приказаној на слици, у условима смањене видљивости, трактор:



F а) мора да има укључено жуто ротационо или трепћуће светло, ✓
 б) не мора да има укључено жуто ротационо или трепћуће светло. **2**

770. У ситуацији приказаној на слици трактор:



F а) мора да има укључено жуто ротационо или трепћуће светло, ✓
 б) не мора да има укључено жуто ротационо или трепћуће светло. **2**


771. Трактор на који су постављени прикључци за извођење радова мора на најистуренијој тачки тих уређаја да има укључено жуто ротационо или трепћуће светло:

F а) увек када учествује у саобраћају на путу,
 б) само ноћу и у условима смањене видљивости, ✓
 а) само када се креће на путу у насељу. **2**

772. Жуто ротационо или трепћуће светло на трактору на којем су постављени прикључци за извођење радова мора бити постављено:

F а) на најистуренијој тачки прикључака за извођење радова, ✓
 б) на највишој тачки трактора,
 б) на најистуренијој тачки трактора. **2**

773. У ситуацији приказаној на слици жуто ротационо или трепћуће светло:



F а) је постављено на прописан начин, јер је постављено на највишој тачки трактора,
 б) није постављено на прописан начин, јер није постављено на најистуренијој тачки прикључака за извођење радова. ✓ **2**

© Забрањено је коришћење, односно повремено или стално умножавање базе података испитних питања или њених делова, било којим средствима и у било којој форми, у **комерцијалне сврхе**

774.	Радна машина мора имати укључено жуто ротационо или трепћуће светло:	
F	а) ноћу и у условима смањене видљивости, ✓ б) увек када учествује у саобраћају на путу, в) само када се креће на путу ван насеља.	2

775.	На возилу које је принудно заустављено на путу, жуто трепћуће или ротационо светло, као упозорење:	
B	а) мора да се постави,	
C	б) може да се постави, ✓	
D	в) није дозвољено да се постави.	
F		2

776.	Возач који се сусретне са возилом на коме су укључена жута ротациона или трепћућа светла дужан је да:	
	а) повећа опрезност и прилагоди брзину и начин кретања свог возила, ✓	
	б) обавезно помери возило са коловоза,	
	в) обавезно заустави возило.	2

777.	Употреба жутог ротационог или трепћућег светла дозвољена је:	
B	а) само у случајевима предвиђеним законом, ✓	
C	б) увек када се возило које има уграђене ове уређаје креће по путу,	
F	в) само ноћу и у условима смањене видљивости.	2

778.	У ситуацији приказаној на слици жуто ротационо или трепћуће светло:	
		
B	а) је дозвољено укључити,	
C	б) није дозвољено укључити. ✓	2

